



## ความถนัดทางวิศวกรรม : ความถนัดด้านตัวเลข

จงหาจำนวนต่อไปของอนุกรมต่อไปนี้

1, 2, 6, 12, 36, 72, 216, ?

1. 316            2. 432            3. 456            4. 512            5. 618

จงหาจำนวนต่อไปของอนุกรมต่อไปนี้

17, 4, 29, 13, 41, 22, 53, ?

1. 27            2. 29            3. 31            4. 33            5. 35

จงหาจำนวนต่อไปของอนุกรมต่อไปนี้

8, 60, 10, 58, 14, 54, 20, 48, 28, 40, ? , ?

1. 38, 30            2. 36, 32            3. 36, 30            4. 38, 28            5. 28, 38



จงหาจำนวนที่แทนด้วย x ในอนุกรมต่อไปนี่ว่าตรงกับข้อใด

12, 13, 26, 27, 54, 55, x, 111, 222

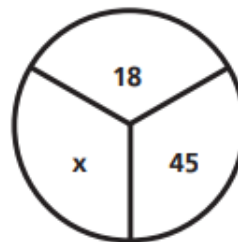
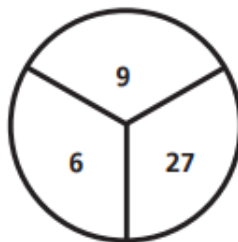
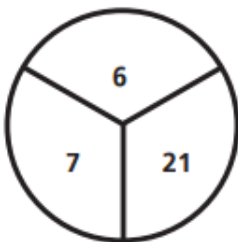
1. 75                      2. 95                      3. 100                      4. 105                      5. 110

จงหาจำนวนต่อไปของอนุกรมต่อไปนี้

987, 152, 379, 871, 523, 798, 715, 237, ?

1. 125                      2. 372                      3. 584                      4. 798                      5. 987

จากรูปด้านล่าง x แทนจำนวนใด



1. 3                      2. 5                      3. 6                      4. 7                      5. 9



จากรูปด้านล่าง x แทนจำนวนใด

4		4
	4	
7		8

3		6
	3	
4		9

9		7
	40	
2		6

7		2
	x	
5		7

1. 26

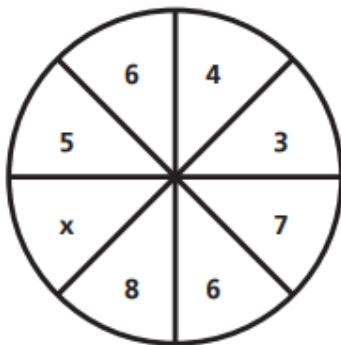
2. 35

3. 39

4. 46

5. 57

จากรูปด้านล่าง x แทนจำนวนใด



1. 1

2. 3

3. 5

4. 7

5. 9

จากตัวเลขในตารางข้างล่าง x แทนจำนวนใด

32	31
18	19

35	15
23	27

x	47
12	15

1. 24

2. 26

3. 28

4. 30

5. 32



จากตัวเลขในตารางข้างล่าง x แทนจำนวนใด

	12			
			24	
31				
		x		
				55

1. 37
2. 39
3. 41
4. 43
5. 51