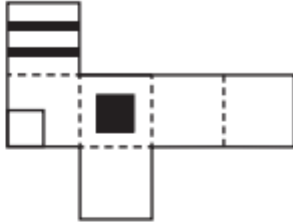




## การคิดอย่างมีเหตุผล : ความสามารถทางมิติสัมพันธ์

### แบบฝึกหัด



1. ข้อใดต่อไปนี้เป็นรูปลูกบาศก์ของรูปคลี่ข้างต้น

1.



2.



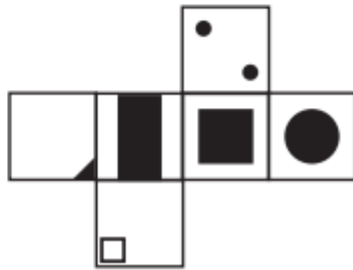
3.



4.



5.



2. ข้อใดต่อไปนี้เป็นรูปลูกบาศก์ที่ไม่ใช่รูปลูกบาศก์ที่ได้จากรูปคลี่ข้างต้น

1.




2.



3.



4.




5.



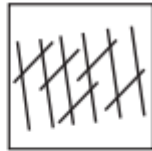


**แบบภาพต่าง**

3. ข้อใดต่อไปนี้ต่างจากพวกหรือแตกต่างจากข้ออื่น



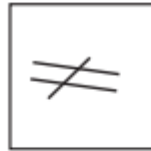
1.



2.



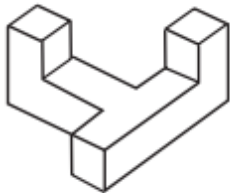
3.



4.



5.



4. รูปทรงในข้อใดแตกต่างจากรูปทรงที่กำหนดให้

1.



2.



3.



4.



5.



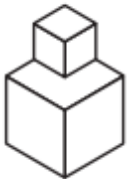


แบบหมุนภาพสามมิติ

5.



ถูกหมุนเป็น



เมื่อหมุนแล้วตรงกับข้อใดต่อไปนี้

1.



2.



3.



4.



5.



6.



ถูกหมุนเป็น



เมื่อหมุนแล้วตรงกับข้อใดต่อไปนี้

1.



2.



3.



4.



5.





**แบบประกอบภาพ**

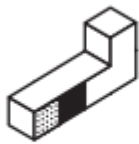
7.



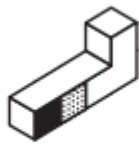
วัตถุในข้อต่อไปนี้เป็นเมื่อนำมาประกอบกับ



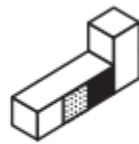
แล้วได้วัตถุดังรูป



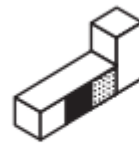
1.



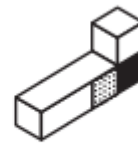
2.



3.



4.

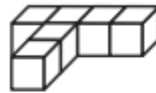


5.

8. กำหนดรูปทรงสามมิติ 2 รูปให้



รูปที่ 1



รูปที่ 2

รูปในข้อต่อไปนี้ไม่ได้ใช้รูปทรงสามมิติ 2 รูปนั้นมาประกอบกัน



1.



2.



3.



4.



5.