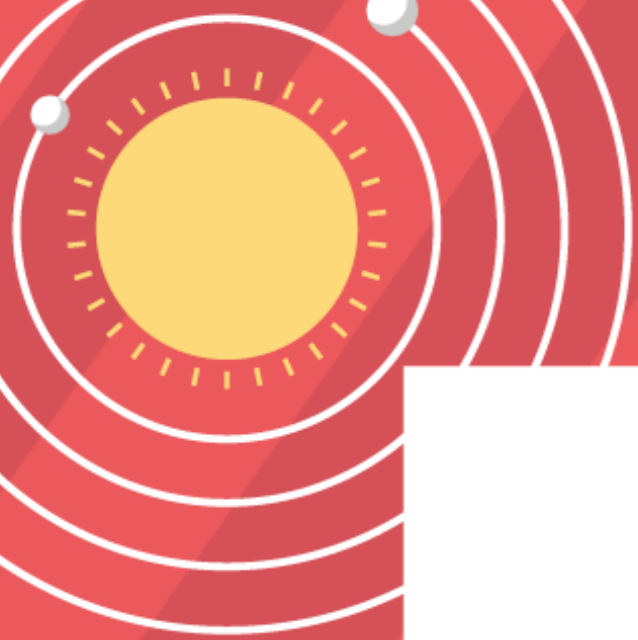


# มิลล์สัมพันธ์ ตอน 1



# มิตสัมพันธ์ ตอน 1

## วิธีทำข้อสอบ Part ตรีศศาสตร์ด้านรูปภาพ

- สังเกต “ทีละจุด” เลือกเอาจุดนั้นมาสังเกต “ลักษณะ / ทิศทาง” ว่าเป็นอย่างไร และคาดว่ารูปที่ต้องตอบควรมีลักษณะอย่างไร

ก ข ค ง จ

☆	●	○
△	●	☆
○	◆	☆

●	☆	☆
●	●	◇
☆	△	●

☆	◇	○
☆	●	△
○	●	☆

—

☆	●	○
△	●	☆
○	◆	☆

# มีติสัมพันธ์ ตอน 1

## 2. ตัดข้อที่ “ไม่ใช่” ออกเลย

ก ข ค ง จ

1	2	3	4	5

ก ข ค ง จ

--	--	--	--

# มิตสัมพันธ์ ตอน 1

## 3. เปลี่ยนจุดสังเกตใหม่ และทำแบบเต็ม

ก ข ค ง จ

☆	●	○
△	●	⬠
○	◆	☆

1

●	⬠	☆
●	●	⬠
☆	△	●

2

☆	⬠	○
⬠	●	△
○	●	☆

3

—

4

☆	●	○
△	●	⬠
○	◆	☆

5

1

○	△	☆
⬠	●	⬠
☆	●	○

3

○	△	☆
⬠	●	⬠
☆	⬠	○

5

# มิตสัมพันธ์ ตอน 1

4. เมื่อเหลือตัวเลือก 2 ข้อ ให้เทียบในตัวเลือกเลย ว่าต่างกันอย่างไร เอาจุดต่างตรงนั้นเป็นตัวตัดสิน

ก ข ค ง จ

☆	●	○
△	●	☆
○	◆	☆

1

●	☆	☆
●	●	◇
☆	△	●

2

☆	◇	○
☆	●	△
○	●	☆

3

—

4

☆	●	○
△	●	☆
○	◆	☆

5

○	△	☆
◇	●	●
☆	☆	○

○	△	☆
◇	●	●
☆	☆	○

# มัลติสัมพันธ์ ตอน 1



1.



2.



3.



4.



# มิตสัมพันธ์ ตอน 1



1.



2.



3.



4.



# มิตสัมพันธ์ ตอน 1



1.



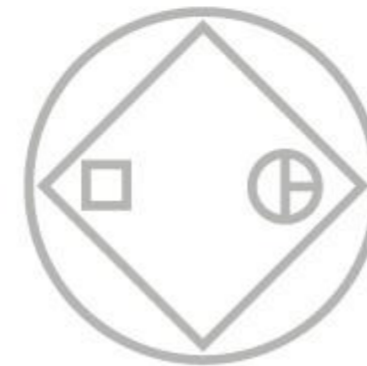
2.



3.





4.







# มัลติสัมพันธ์ ตอน 1



1.



2.



3.




4.



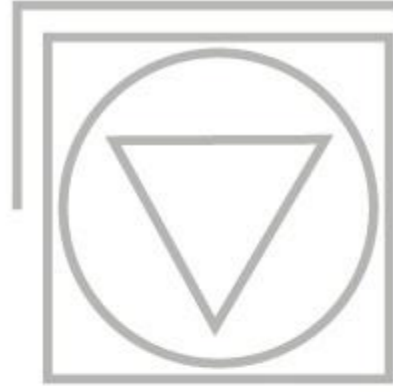
# มิตสัมพันธ์ ตอน 1



?



# มัลติสัมพันธ์ ตอน 1



?

1.



2.



3.



4.



# มิตสัมพันธ์ ตอน 1

ก



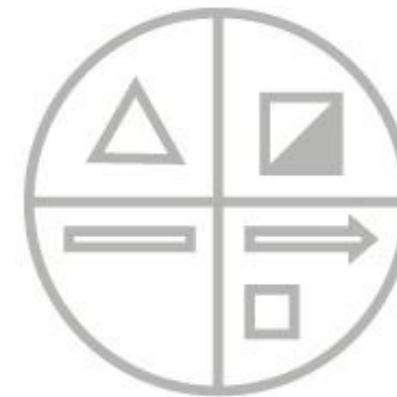
ข



ค



ด



1.



2.



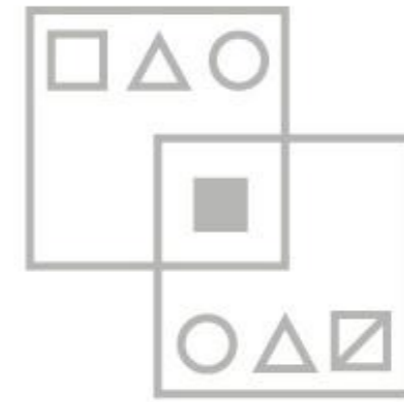
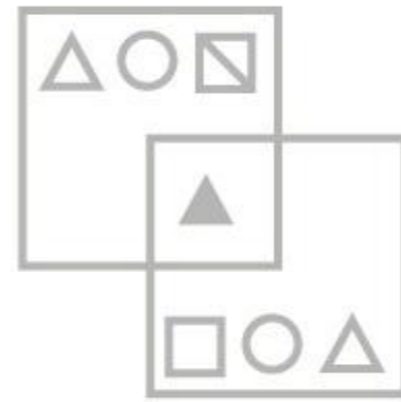
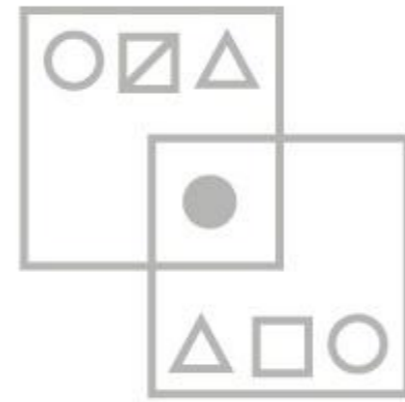
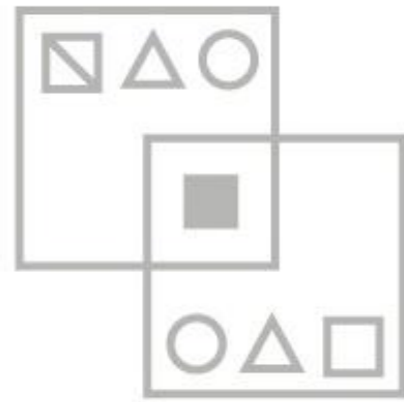
3.



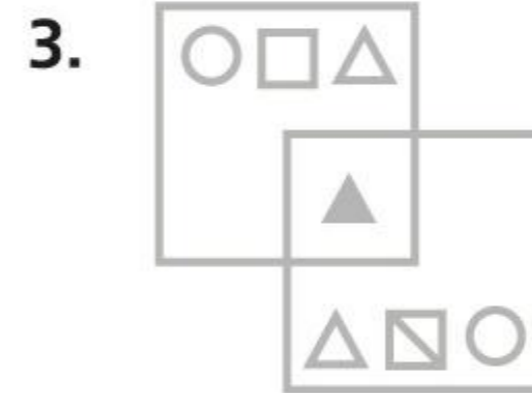
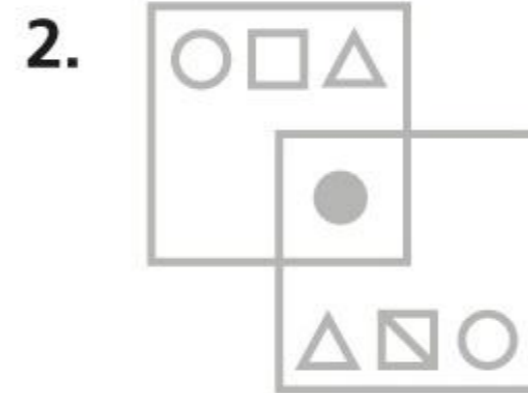
4.



# มัลติสัมพันธ์ ตอน 1



?



# มิตสัมพันธ์ ตอน 1



?



1.



2.



3.



4.

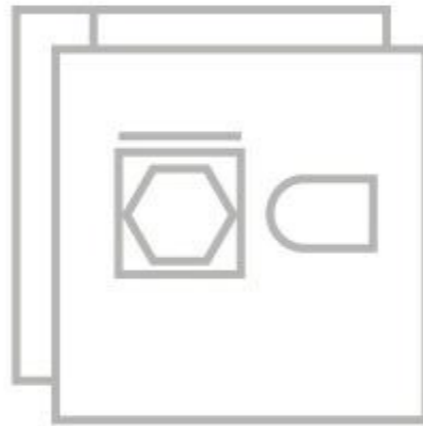


# มัลติสปีดส์ Ep.1

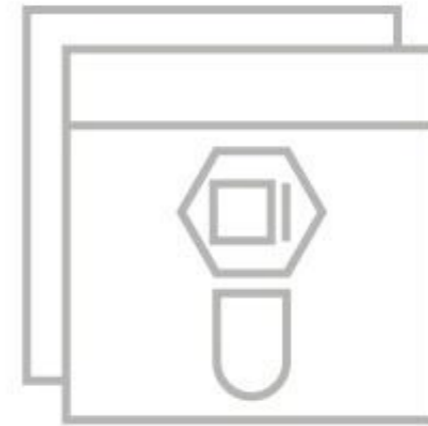
ก



ข



ค



ง



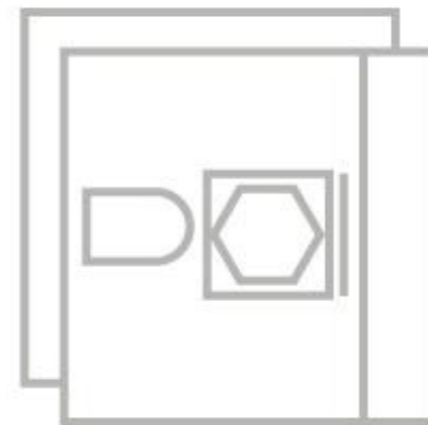
1.



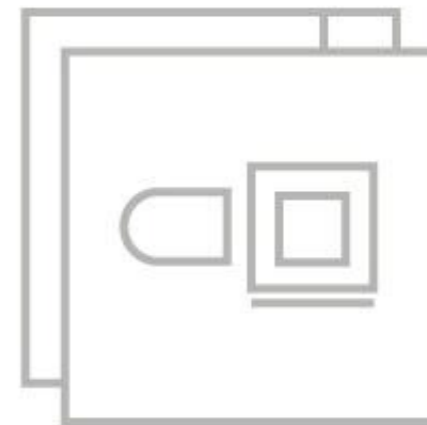
2.




3.



4.




# มิตสัมพันธ์ ตอน 1






# มึลลัมพึนรึ ๓อน 1



1.



2.



3.



4.

