

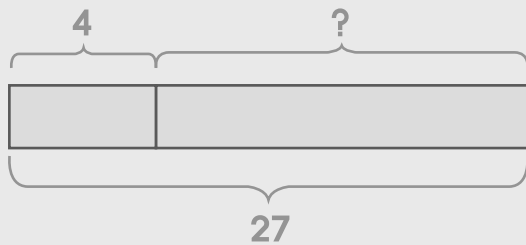


20.3 โจทย์ปัญหาการลบ

วาดรูป เขียนประโยคสัญลักษณ์ และหาคำตอบให้ถูกต้อง

ตัวอย่าง

แม่มีแอปเปิล 27 ผล กินไป 4 ผล แม่เหลือแอปเปิลกี่ผล



กระดาษทด

$$\begin{array}{r} 27 \\ - 4 \\ \hline 23 \end{array}$$

ประโยคสัญลักษณ์ $27 - 4 = \square$

ตอบ 23 ผล

(1) ปูมีกระสอบทราย 99 ถุง ทิ้งไป 9 ถุง ปูเหลือกระสอบทรายกี่ถุง

กระดาษทด

ประโยคสัญลักษณ์ _____

ตอบ _____



(2) แม่มีน้ำผึ้ง 75 ลิตร ให้ลูกไป 6 ลิตร แม่เหลือน้ำผึ้งกี่ลิตร

กระดาษทด

ประโยคสัญลักษณ์ _____

ตอบ _____

(3) ไบเตยมีลูกโป่ง 87 ลูก แตะไป 53 ลูก ไบเตยเหลือน้ำลูกโป่งกี่ลูก

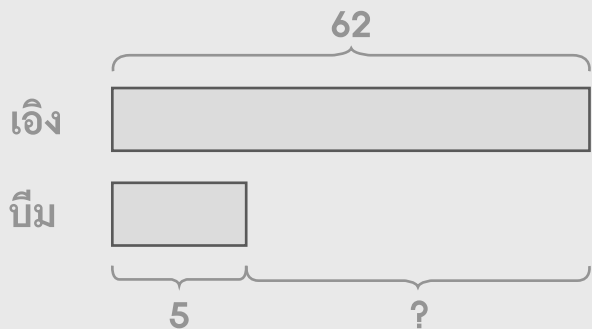
กระดาษทด

ประโยคสัญลักษณ์ _____

ตอบ _____

ตัวอย่าง

เอ็งรีคนมวัวได้ 62 ลิตร บีมนมวัวได้ 5 ลิตร เอ็งรีคนมวัวได้มากกว่าบีมนมวัวกี่ลิตร



กระดาษทด

$$\begin{array}{r} 62 \\ - 5 \\ \hline 57 \end{array}$$

ประโยคสัญลักษณ์ $62 - 5 = \square$

ตอบ 57 ลิตร

(4) ยีราฟสูง 33 หน่วย ช้างเตี้ยกว่ายีราฟ 7 หน่วย ช้างสูงกี่หน่วย

กระดาษทด

ประโยคสัญลักษณ์ _____

ตอบ _____



(5) เอล้างจานได้ 54 ใบ บีล้างจานได้ 3 ใบ บีล้างจานได้น้อยกว่าเอกี่ใบ

กระดาษทด

ประโยคสัญลักษณ์ _____

ตอบ _____

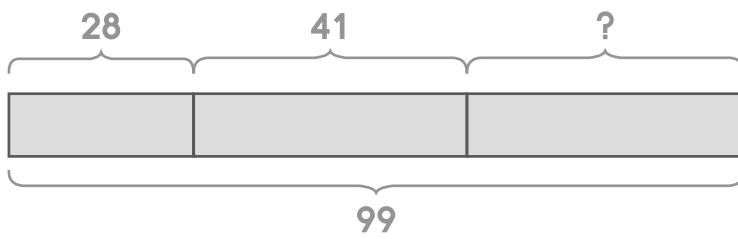
(6) ยายอายุ 82 ปี พี่อายุ 23 ปี ยายอายุมากกว่าพี่กี่ปี

กระดาษทด

ประโยคสัญลักษณ์ _____

ตอบ _____

(7) ฟ้ายามีฝรั่ง 99 ผล แบ่งให้ต้นข้าว 28 ผล แบ่งให้ใบตอง 41 ผล
ฟ้ายาเหลือฝรั่งกี่ผล



กระดาษทด

ประโยคสัญลักษณ์ _____

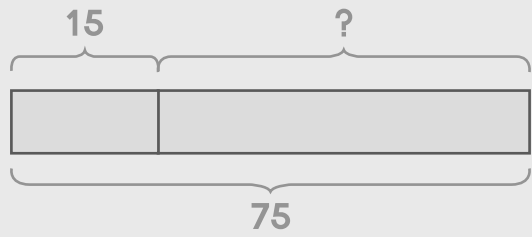
ตอบ _____



ตัวอย่าง

คอมมีต้นไม้ 75 ต้น เป็นต้นมะพร้าว 15 ต้น ที่เหลือเป็นต้นสน
คอมมีต้นมะพร้าวน้อยกว่าต้นสนกี่ต้น

ขั้นที่ 1 คอมมีต้นสนกี่ต้น



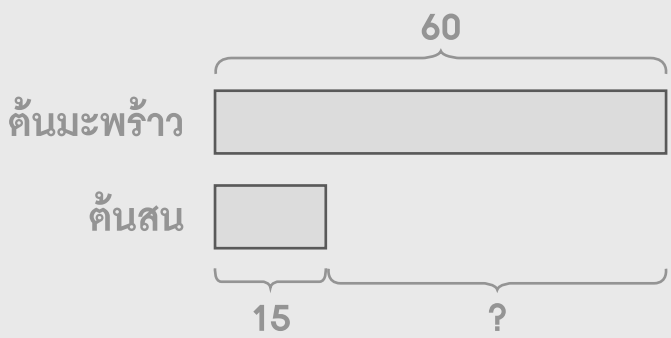
กระดาษทด

$$\begin{array}{r} 75 \\ - 15 \\ \hline 60 \end{array}$$

ประโยคสัญลักษณ์ $75 - 15 = \square$

ตอบ 60 ต้น

ขั้นที่ 2 คอมมีต้นมะพร้าวน้อยกว่าต้นสนกี่ต้น



กระดาษทด

$$\begin{array}{r} 60 \\ - 15 \\ \hline 45 \end{array}$$

ประโยคสัญลักษณ์ $60 - 15 = \square$

ตอบ 45 ต้น

(8) ไบบัวปลูกต้นกุหลาบและต้นชวนชม 92 ต้น เป็นต้นกุหลาบ 37 ต้น
ไบบัวปลูกต้นกุหลาบน้อยกว่าต้นชวนชมกี่ต้น

ขั้นที่ 1 ไบบัวปลูกต้นชวนชมกี่ต้น

กระดาษทด

ประโยคสัญลักษณ์ _____

ตอบ _____

ขั้นที่ 2 ไบบัวปลูกต้นกุหลาบน้อยกว่าต้นชวนชมกี่ต้น

กระดาษทด

ประโยคสัญลักษณ์ _____

ตอบ _____



(9) ออกัสและออมสินมีลูกแก้วรวมกัน 59 ลูก ออกัสมีลูกแก้ว 11 ลูก
อมสินมีลูกแก้วมากกว่าออกัสกี่ลูก

ขั้นที่ 1 ออมสินมีลูกแก้วกี่ลูก

กระดาษทด

ประโยคสัญลักษณ์ _____

ตอบ _____

ขั้นที่ 2 ออมสินมีลูกแก้วมากกว่าออกัสกี่ลูก

กระดาษทด

ประโยคสัญลักษณ์ _____

ตอบ _____

(10) ฝ่ายมีตุ๊กตาหมีและตุ๊กตาลิง 100 ตัว เป็นตุ๊กตาหมี 49 ตัว
ฝ่ายมีตุ๊กตาหมีน้อยกว่าตุ๊กตาลิงกี่ตัว

ขั้นที่ 1 ฝ่ายมีตุ๊กตาลิงกี่ตัว

กระดาษทด

ประโยคสัญลักษณ์ _____

ตอบ _____

ขั้นที่ 2 ฝ่ายมีตุ๊กตาหมีน้อยกว่าตุ๊กตาลิงกี่ตัว

กระดาษทด

ประโยคสัญลักษณ์ _____

ตอบ _____



เขียนประโยคสัญลักษณ์และแสดงวิธีทำให้ถูกต้อง

ตัวอย่าง

มะลิมีหนังสือนิทาน 71 เล่ม ให้ข้าวฟ่างยืมไป 5 เล่ม
มะลิลือหนังสือนิทานกี่เล่ม

ประโยคสัญลักษณ์ $71 - 5 = \square$

มะลิมีหนังสือนิทาน	7 1	เล่ม
	-	
ให้ข้าวฟ่างยืมไป	5	เล่ม
	<hr/>	
มะลิลือหนังสือนิทาน	<u>6 6</u>	เล่ม

ตอบ 66 เล่ม

(1) โจ๊กมียางลบ 95 ก้อน ทำหายไป 8 ก้อน โจ๊กเหลือยางลบกี่ก้อน

ประโยคสัญลักษณ์ _____

โจ๊กมียางลบ		ก้อน
ทำหายไป	_____	ก้อน
โจ๊กเหลือยางลบ	<u> </u>	ก้อน

ตอบ _____

(2) อ้อยทำเค้ก 73 ชิ้น กินไป 2 ชิ้น อ้อยเหลือเค้กกี่ชิ้น

ประโยคสัญลักษณ์ _____

อ้อยทำเค้ก ชิ้น

กินไป _____ ชิ้น

อ้อยเหลือเค้ก _____ ชิ้น

ตอบ _____

(3) แป้งมีลูกอม 55 เม็ด ให้เพื่อนไป 26 เม็ด แป้งเหลือลูกอมกี่เม็ด

ประโยคสัญลักษณ์ _____

แป้งมีลูกอม เม็ด

ให้เพื่อนไป _____ เม็ด

แป้งเหลือลูกอม _____ เม็ด

ตอบ _____



(4) ในครัวมีจาน 67 ใบ แอมวทำแตกไป 29 ใบ เหลือจานในห้องครัวกี่ใบ

ประโยคสัญลักษณ์ _____

ในครัวมีจาน ใบ

แอมวทำแตกไป _____ ใบ

เหลือจานในห้องครัว ใบ

ตอบ _____

(5) กรมีเสื่อ 91 ตัว ทำขาดไป 15 ตัว กรเหลือเสื่อกี่ตัว

ประโยคสัญลักษณ์ _____

กรมีเสื่อ ตัว

ทำขาดไป _____ ตัว

กรเหลือเสื่อ ตัว

ตอบ _____

(6) ภาษามีคินน้ำมัน 55 ก้อน กัปตันมีคินน้ำมันน้อยกว่าภาษ 6 ก้อน
กัปตันมีคินน้ำมันกี่ก้อน

ประโยคสัญลักษณ์ _____

ภาษามีคินน้ำมัน ก้อน

กัปตันมีคินน้ำมันน้อยกว่าภาษ _____ ก้อน

กัปตันมีคินน้ำมัน _____ ก้อน

ตอบ _____

(7) เหวาทำข้อสอบได้ 100 คะแนน เนเน่ทำข้อสอบได้ 7 คะแนน
เหวาทำข้อสอบได้มากกว่าเนเน่กี่คะแนน

ประโยคสัญลักษณ์ _____

เหวาทำข้อสอบได้ คะแนน

เนเน่ทำข้อสอบได้ _____ คะแนน

เหวาทำข้อสอบได้มากกว่าเนเน่ _____ คะแนน

ตอบ _____



(8) ยู้ยขายส้มได้ 23 ผล ทือปขายส้มได้ 88 ผล ยู้ยขายส้มได้น้อยกว่าทือปกี่ผล

ประโยคสัญลักษณ์ _____

ทือปขายส้มได้ _____ ผล

ยู้ยขายส้มได้ _____ ผล

ยู้ยขายส้มได้น้อยกว่าทือป _____ ผล

ตอบ _____

(9) จิวมีรถบังคับ 45 คัน ต้อมมีรถบังคับ 13 คัน จิวมีรถบังคับมากกว่าต้อมกี่คัน

ประโยคสัญลักษณ์ _____

จิวมีรถบังคับ _____ คัน

ต้อมมีรถบังคับ _____ คัน

จิวมีรถบังคับมากกว่าต้อม _____ คัน

ตอบ _____

(10) กุ้งขายแก้วได้ 38 ใบ มคขายแก้วได้ 91 ใบ กุ้งขายแก้วได้น้อยกว่ามคกี่ใบ

ประโยคสัญลักษณ์ _____

มคขายแก้วได้ ใบ

กุ้งขายแก้วได้ _____ ใบ

กุ้งขายแก้วได้น้อยกว่ามค ใบ

ตอบ _____

