

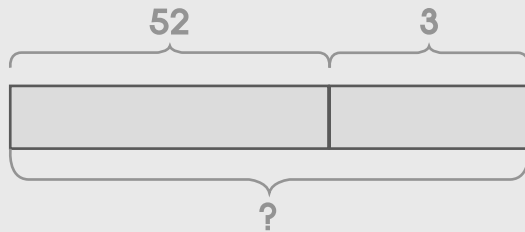


โจทย์ปัญหาการบวก

วาดรูป เขียนประโยคสัญลักษณ์ และหาคำตอบให้ถูกต้อง

ตัวอย่าง

หนูคิมมีแอปเปิล 52 ผล ซื้อมาเพิ่มอีก 3 ผล หนูคิมมีแอปเปิลทั้งหมดกี่ผล



กระดาษทด

$$\begin{array}{r} 52 \\ + 3 \\ \hline 55 \end{array}$$

ประโยคสัญลักษณ์ _____ $52 + 3 = \square$ _____

ตอบ _____ 55 ผล _____

(1) หนูนาลี้งนก 68 ตัว เลี้ยงสุนัข 9 ตัว หนูนาลี้งสัตว์ทั้งหมดกี่ตัว

กระดาษทด

ประโยคสัญลักษณ์ _____

ตอบ _____

(2) เมื่อวานใจอ่านหนังสือได้ 73 หน้า วันนี้อ่านได้อีก 8 หน้า
ใจอ่านหนังสือได้ทั้งหมดกี่หน้า

กระดาษทด

ประโยคสัญลักษณ์ _____

ตอบ _____

(3) พิมพ์มีร่มสีเขียว 52 คัน มีร่มสีชมพู 45 คัน พิมพ์มีร่มทั้งหมดกี่คัน

กระดาษทด

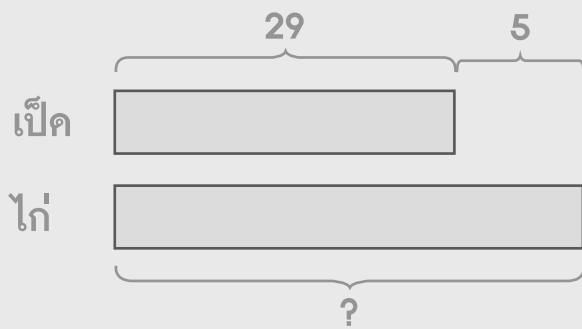
ประโยคสัญลักษณ์ _____

ตอบ _____



ตัวอย่าง

มีเป็ด 29 ตัว มีไก่มากกว่าเป็ด 5 ตัว มีไก่กี่ตัว



กระดาษทด

$$\begin{array}{r} 29 \\ + 5 \\ \hline 34 \end{array}$$

ประโยคสัญลักษณ์ $29 + 5 = \square$

ตอบ 34 ตัว

(4) มีลูกโป่งสีน้ำเงิน 46 ลูก ลูกโป่งสีแดงมากกว่าสีน้ำเงิน 7 ลูก มีลูกโป่งสีแดงกี่ลูก

กระดาษทด

ประโยคสัญลักษณ์ _____

ตอบ _____

(5) มีฝรั่ง 55 ผล มีฝรั่งน้อยกว่ามังคุด 6 ผล มีมังคุดกี่ผล

กระดาษทด

ประโยคสัญลักษณ์ _____

ตอบ _____

(6) มีเด็กผู้ชาย 37 คน มีเด็กผู้หญิงมากกว่าเด็กผู้ชาย 27 คน
มีเด็กผู้หญิงกี่คน

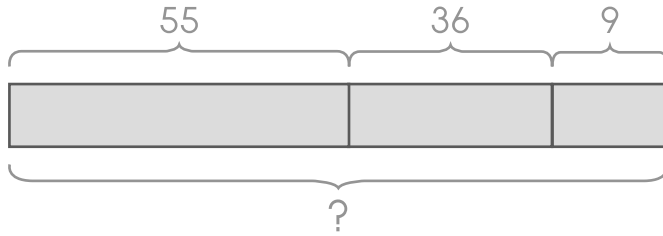
กระดาษทด

ประโยคสัญลักษณ์ _____

ตอบ _____



(7) แม่ค้าขายส้มได้ 55 ผล ขายมะม่วงได้ 36 ผล และขายมังคุดได้ 9 ผล
รวมขายผลไม้ได้กี่ผล



กระดาษทด

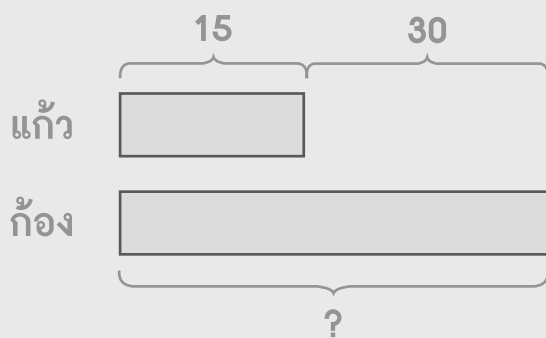
ประโยคสัญลักษณ์ _____

ตอบ _____

ตัวอย่าง

แก้วมีดินสอ 15 แท่ง ก้องมีดินสอมากกว่าแก้ว 30 แท่ง ทั้งสองคนมีดินสอทั้งหมดกี่แท่ง

ขั้นที่ 1 ก้องมีดินสอกี่แท่ง



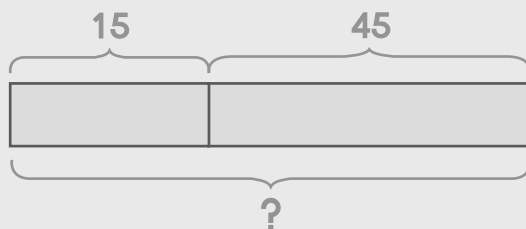
กระดาษทด

$$\begin{array}{r} 15 \\ + \\ 30 \\ \hline 45 \end{array}$$

ประโยคสัญลักษณ์ $15 + 30 = \square$

ตอบ 45 แท่ง

ขั้นที่ 2 ทั้งสองคนมีดินสอรวมกันกี่แท่ง



กระดาษทด

$$\begin{array}{r} 15 \\ + \\ 45 \\ \hline 60 \end{array}$$

ประโยคสัญลักษณ์ $15 + 45 = \square$

ตอบ 60 แท่ง



(8) แม่ค้าขายขนมเค้กได้ 14 ชิ้น ขายขนมปังได้มากกว่าขนมเค้ก 52 ชิ้น
แม่ม้าขายขนมเค้กและขนมปังได้ทั้งหมดกี่ชิ้น

ขั้นที่ 1 ขายขนมปังได้ที่ชิ้น

กระดาษทด

ประโยคสัญลักษณ์ _____

ตอบ _____

ขั้นที่ 2 แม่ม้าขายขนมเค้กและขนมปังได้ทั้งหมดกี่ชิ้น

กระดาษทด

ประโยคสัญลักษณ์ _____

ตอบ _____

(9) ฉันมีลูกบอลสีแดง 39 ลูก มีลูกบอลสีม่วงมากกว่าสีแดง 21 ลูก
ฉันมีลูกบอลทั้งหมดกี่ลูก

ขั้นที่ 1 มีลูกบอลสีม่วงกี่ลูก

กระดาษทด

ประโยคสัญลักษณ์ _____

ตอบ _____

ขั้นที่ 2 ฉันมีลูกบอลทั้งหมดกี่ลูก

กระดาษทด

ประโยคสัญลักษณ์ _____

ตอบ _____



(10) ตอนเช้าผู้ชายขายโคนัทได้ 22 ชิ้น ตอนบ่ายขายได้มากกว่าตอนเช้า 29 ชิ้น
ผู้ชายขายโคนัทได้ทั้งหมดกี่ชิ้น

ขั้นที่ 1 ตอนบ่ายขายโคนัทได้กี่ชิ้น

กระดาษทด

ประโยคสัญลักษณ์ _____

ตอบ _____

ขั้นที่ 2 ผู้ชายขายโคนัทได้ทั้งหมดกี่ชิ้น

กระดาษทด

ประโยคสัญลักษณ์ _____

ตอบ _____

เขียนประโยคสัญลักษณ์และแสดงวิธีทำให้ถูกต้อง

ตัวอย่าง

แม่ค้าขายส้มได้ 33 ผล ขายแอปเปิ้ลได้ 4 ผล แม่ค้าขายผลไม้ได้ทั้งหมดกี่ผล

ประโยคสัญลักษณ์ $33 + 4 = \square$

| | | |
|--------------------------|------------------|----|
| แม่ค้าขายส้มได้ | 33 | ผล |
| | + | |
| ขายแอปเปิ้ลได้ | <u>4</u> | ผล |
| แม่ค้าขายผลไม้ได้ทั้งหมด | <u><u>37</u></u> | ผล |

ตอบ 37 ผล

(1) มีไก่ 45 ตัว มีเป็ด 6 ตัว มีไก่และเป็ดรวมกันกี่ตัว

ประโยคสัญลักษณ์ _____

| | | |
|--------------------|--------------|-----|
| มีไก่ | _____ | ตัว |
| มีเป็ด | _____ | ตัว |
| มีไก่และเป็ดรวมกัน | <u>_____</u> | ตัว |

ตอบ _____



(2) แม่ซื้อกระเทียม 85 บาท ซื้อข้าวหอม 9 บาท แม่ต้องจ่ายเงินทั้งหมดกี่บาท

ประโยคสัญลักษณ์ _____

แม่ซื้อกระเทียม บาท

ซื้อข้าวหอม _____ บาท

แม่ต้องจ่ายเงินทั้งหมด ===== บาท

ตอบ _____

(3) บอลปลูกต้นมะม่วง 49 ต้น ปลูกต้นมะนาว 21 ต้น บอลปลูกต้นไม้ทั้งหมดกี่ต้น

ประโยคสัญลักษณ์ _____

บอลปลูกต้นมะม่วง ต้น

ปลูกต้นมะนาว _____ ต้น

บอลปลูกต้นไม้ทั้งหมด ===== ต้น

ตอบ _____

(4) นานานมีโคนัท 22 ชิ้น โจเซฟมีโคนัท 19 ชิ้น ทั้งสองคนมีโคนัทรวมกันกี่ชิ้น

ประโยคสัญลักษณ์ _____

| | | |
|------------------------|-------|------|
| นานานมีโคนัท | | ชิ้น |
| โจเซฟมีโคนัท | _____ | ชิ้น |
| ทั้งสองคนมีโคนัทรวมกัน | ===== | ชิ้น |

ตอบ _____

(5) หมวยเล็กเลี้ยงปลา 35 ตัว คีใหญ่เลี้ยงปลา 27 ตัว ทั้งสองคนเลี้ยงปลาทั้งหมดกี่ตัว

ประโยคสัญลักษณ์ _____

| | | |
|---------------------------|-------|-----|
| หมวยเล็กเลี้ยงปลา | | ตัว |
| คีใหญ่เลี้ยงปลา | _____ | ตัว |
| ทั้งสองคนเลี้ยงปลาทั้งหมด | ===== | ตัว |

ตอบ _____



(6) มีต้นมะนาว 53 ต้น มีต้นมะกรูดมากกว่าต้นมะนาว 6 ต้น มีต้นมะกรูดกี่ต้น

ประโยคสัญลักษณ์ _____

มีต้นมะนาว _____ ต้น

มีต้นมะกรูดมากกว่าต้นมะนาว _____ ต้น

มีต้นมะกรูด _____ ต้น

ตอบ _____

(7) มีลูกชิ้นกุ้ง 24 ลูก มีลูกชิ้นกุ้งน้อยกว่าลูกชิ้นปลา 9 ลูก มีลูกชิ้นปลากี่ลูก

ประโยคสัญลักษณ์ _____

มีลูกชิ้นกุ้ง _____ ลูก

มีลูกชิ้นกุ้งน้อยกว่าลูกชิ้นปลา _____ ลูก

มีลูกชิ้นปลา _____ ลูก

ตอบ _____

(8) วู้ดคีมีกระทะ 16 ใบ แจ็คมีกระทะมากกว่าวู้ดคี 14 ใบ แจ็คมีกระทะกี่ใบ

ประโยคสัญลักษณ์ _____

วู้ดคีมีกระทะ _____ ใบ

แจ็คมีกระทะมากกว่าวู้ดคี _____ ใบ

แจ็คมีกระทะ _____ ใบ

ตอบ _____

(9) มีดอกทานตะวัน 37 ดอก มีดอกทานตะวันน้อยกว่าดอกกุหลาบ 30 ดอก
มีดอกกุหลาบกี่ดอก

ประโยคสัญลักษณ์ _____

มีดอกทานตะวัน _____ ดอก

มีดอกทานตะวันน้อยกว่าดอกกุหลาบ _____ ดอก

มีดอกกุหลาบ _____ ดอก

ตอบ _____



(10) ซอลมีนม 59 กล่อง นานะมีนมมากกว่าซอล 29 กล่อง นานะมีนมกี่กล่อง

ประโยคสัญลักษณ์ _____

ซอลมีนม กล่อง

นานะมีนมมากกว่าซอล _____ กล่อง

นานะมีนม _____ กล่อง

ตอบ _____

