

19

การบวก (ตัวตั้งไม่เกิน 100)



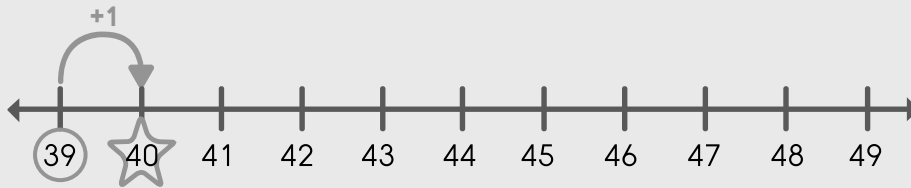
19.1 การบวกเลข 2 หลัก กับ 1 หลัก

การบวก แบบไม่มีการทด

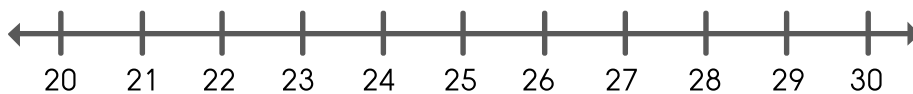
เติมคำตอบลงในช่องว่างให้ถูกต้อง

ตัวอย่าง

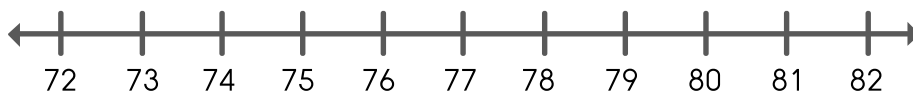
$$39 + 1 = \boxed{40}$$



(1) $20 + 2 = \boxed{}$

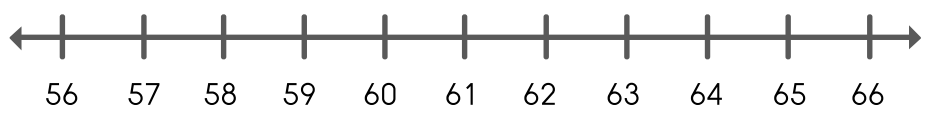


(2) $72 + 4 = \boxed{}$

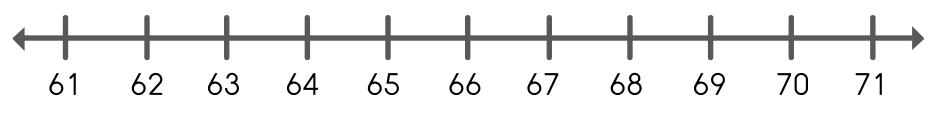




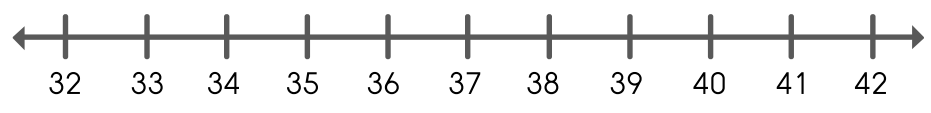
(3) $56 + 3 =$



(4) $61 + 5 =$



(5) $32 + 3 =$



แสดงวิธีทำและเติมคำตอบลงในช่องว่างให้ถูกต้อง

ตัวอย่าง

$$26 + 3 = \boxed{29}$$

หลักสิบ	หลักหน่วย
2	6
+	3
2	9

$$(1) 40 + 5 = \boxed{}$$

หลักสิบ	หลักหน่วย

$$(2) 33 + 4 = \boxed{}$$

หลักสิบ	หลักหน่วย

$$(3) 82 + 7 = \boxed{}$$

หลักสิบ	หลักหน่วย

$$(4) 93 + 3 = \boxed{}$$

หลักสิบ	หลักหน่วย

$$(5) 4 + 73 = \boxed{}$$

หลักสิบ	หลักหน่วย



(6) $3 + 85 =$

หลักสิบ	หลักหน่วย

(7) $2 + 66 =$

หลักสิบ	หลักหน่วย

การบวก แบบมีทด

แสดงวิธีทำและเติมคำตอบลงในช่องว่างให้ถูกต้อง

ตัวอย่าง

$29 + 2 =$

หลักสิบ	หลักหน่วย
① 2	9
+	2
3	1

(1) $35 + 6 =$

หลักสิบ	หลักหน่วย

$73 + 8 =$

หลักสิบ	หลักหน่วย

$64 + 9 =$

หลักสิบ	หลักหน่วย

$47 + 3 =$

หลักสิบ	หลักหน่วย

$6 + 36 =$

หลักสิบ	หลักหน่วย



ลากเส้นจับคู่คำตอบให้ถูกต้อง

ตัวอย่าง	$90 + 7$	●	●	82
(1)	$74 + 8$	●	●	97
(2)	$46 + 6$	●	●	65
(3)	$4 + 61$	●	●	74
(4)	$5 + 69$	●	●	49
(5)	$44 + 5$	●	●	52