



# 18.3 การเรียงลำดับจำนวน

เรียงลำดับตัวเลขจากน้อยที่สุดไปมากที่สุด

**ตัวอย่าง**

21

41

31

21

31

41

(1)

68

52

27

(2)

70

97

55

(3)

85

50

59

18

(4)

45

32

95

71

(5)

88



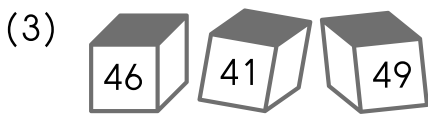
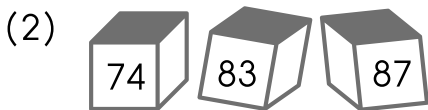
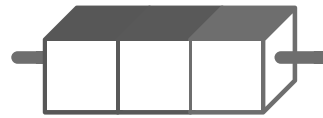
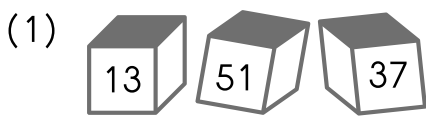
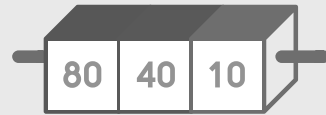
29

48

13

# เรียงลำดับตัวเลขจากมากที่สุดไปน้อยที่สุด

ตัวอย่าง





เติมคำตอบลงในช่องว่างให้ถูกต้อง

ตัวอย่าง

24      25      26      27      28

(1) 29      30      31      32      \_\_\_\_\_

(2) 63      64      65      \_\_\_\_\_      67

(3) 78      79      \_\_\_\_\_      81      82

(4) \_\_\_\_\_      \_\_\_\_\_      \_\_\_\_\_      44      45

(5) 20      22      24      26      \_\_\_\_\_

(6) 75      77      79      \_\_\_\_\_      83

(7) 60      65      70      \_\_\_\_\_      80










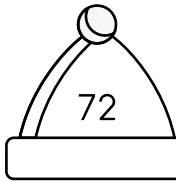
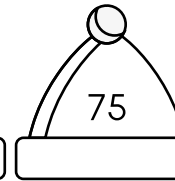
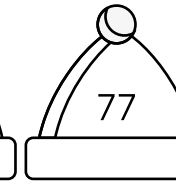



(8) 10      20      30      40      \_\_\_\_\_

# ระบายสีและเติมคำตอบลงในช่องว่างให้ถูกต้อง

ตัวอย่าง

27    26    25    24



(1)	35    34    33    _____	  
(2)	51    50    49    _____	  
(3)	100    99    _____    97	  
(4)	76    _____    74    73	  
(5)	_____    67    65    63	  
(6)	90    _____    86    84	