





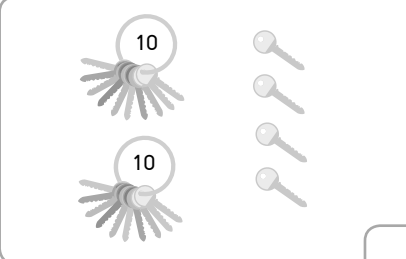
18.2 การเปรียบเทียบจำนวน

เขียนตัวเลขแสดงจำนวน และเปรียบเทียบโดยการเติมคำว่า "มากกว่า", "น้อยกว่า" หรือ "เท่ากับ" ให้ถูกต้อง

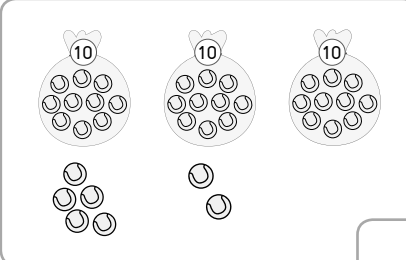
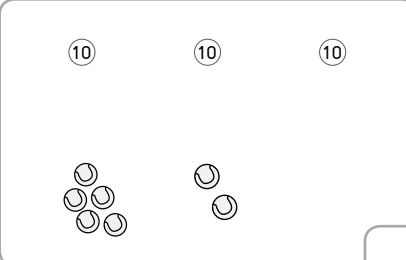
ตัวอย่าง

	น้อยกว่า	
45		53

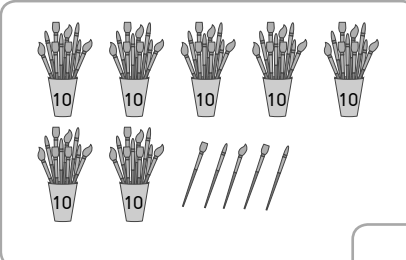
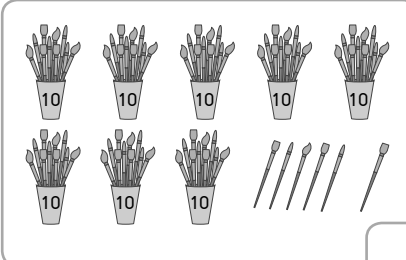
(1)

	_____	

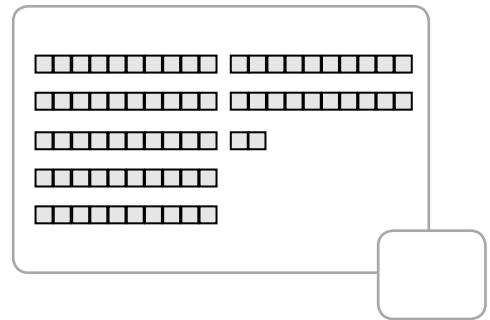
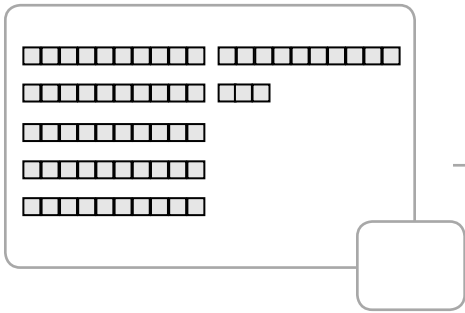
(2)

	_____	

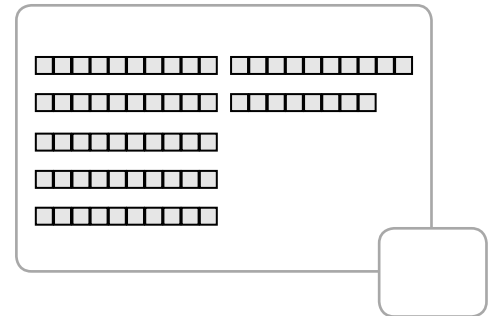
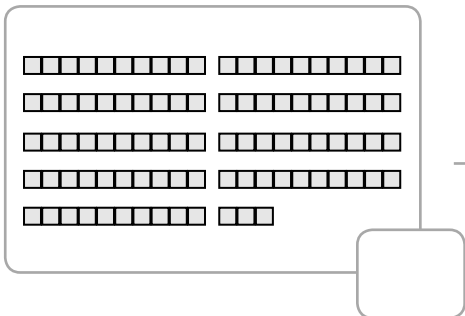
(3)

	_____	

(4)



(5)



เติมเครื่องหมาย $>$, $<$ หรือ $=$ ลงในช่องว่างให้ถูกต้อง

ตัวอย่าง

38 27

(1) 69 96

(2) 64 81

(3) $60 + 5$ 65

(4) $47 + 2$ 41

(5) $70 + 2$ 57







ระบายสีตัวเลขที่มีค่ามากที่สุด





ตัวอย่าง



(1)



(2)




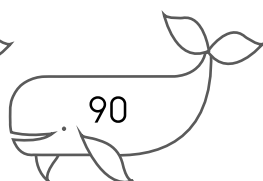
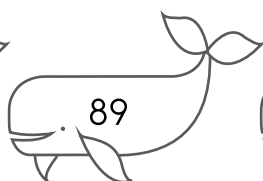
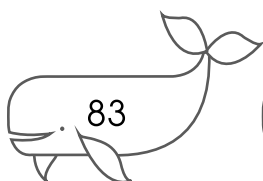
(3)



(4)




(5)




ระบายสีตัวเลขที่มีค่าน้อยที่สุด





ตัวอย่าง




(1)



(2)



(3)



(4)



(5)

