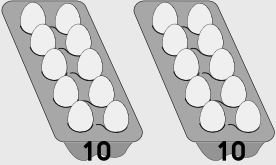
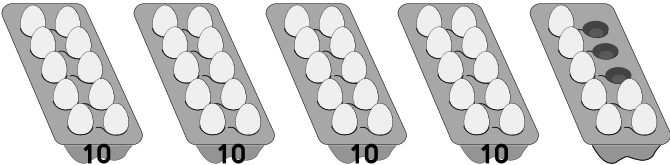
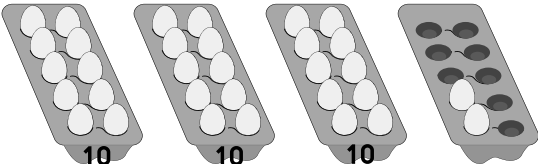
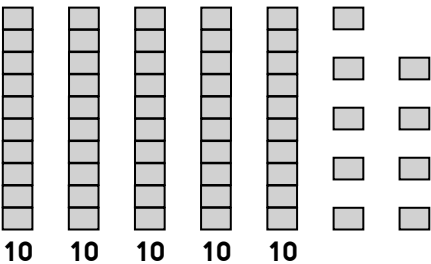
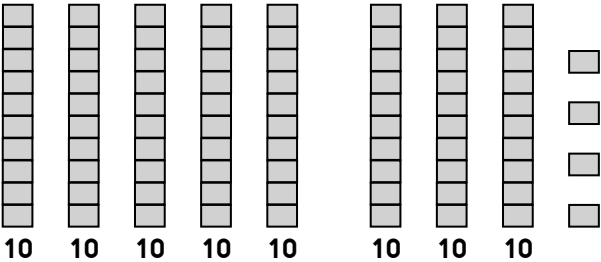




17.2 ค่าประจำหลักของตัวเลข

เติมคำตอบลงในช่องว่างให้ถูกต้อง

รูปภาพ	ค่าของเลขโดด		มีค่า
	หลักสิบ	หลักหน่วย	
ตัวอย่าง 	20	0	20
(1) 			
(2) 			
(3) 			
(4) 			

	รูปภาพ	ค่าของเลขโดด		มีค่า
		หลักสิบ	หลักหน่วย	
(5)				
(6)				
(7)				
(8)				
(9)				

	รูปภาพ	ค่าของเลขโดด		มีค่า
		หลักสิบ	หลักหน่วย	
(10)	<p>10 10 10 10 10 10 10</p>			

เติมคำตอบลงในช่องว่างให้ถูกต้อง

ตัวอย่าง

หลักสิบ	หลักหน่วย
● ● ● ● ●	


หลักสิบ หลักหน่วย มีค่า

→ =

	หลักสิบ	หลักหน่วย	หลักสิบ	หลักหน่วย	มีค่า
(1)	● ● ● ●	● ● ●	→ <input type="text"/>	<input type="text"/>	= <input type="text"/>
(2)	● ● ● ● ● ● ● ●	● ● ● ● ● ● ● ● ●	→ <input type="text"/>	<input type="text"/>	= <input type="text"/>
(3)	● ● ● ● ● ●	● ● ● ●	→ <input type="text"/>	<input type="text"/>	= <input type="text"/>
(4)	● ● ● ● ● ● ● ● ●		→ <input type="text"/>	<input type="text"/>	= <input type="text"/>
(5)	● ● ● ● ● ● ●	● ● ● ● ● ● ● ●	→ <input type="text"/>	<input type="text"/>	= <input type="text"/>

วาด ● ตามที่โจทย์กำหนด


ตัวอย่าง

	หลักสิบ	หลักหน่วย
61  →	● ● ● ● ● ●	●


(1)

	หลักสิบ	หลักหน่วย
49  →		

(2)

	หลักสิบ	หลักหน่วย
80  →		


(3)

	หลักสิบ	หลักหน่วย
74  →		

(4)

	หลักสิบ	หลักหน่วย
92  →		

(5)

	หลักสิบ	หลักหน่วย
56  →		