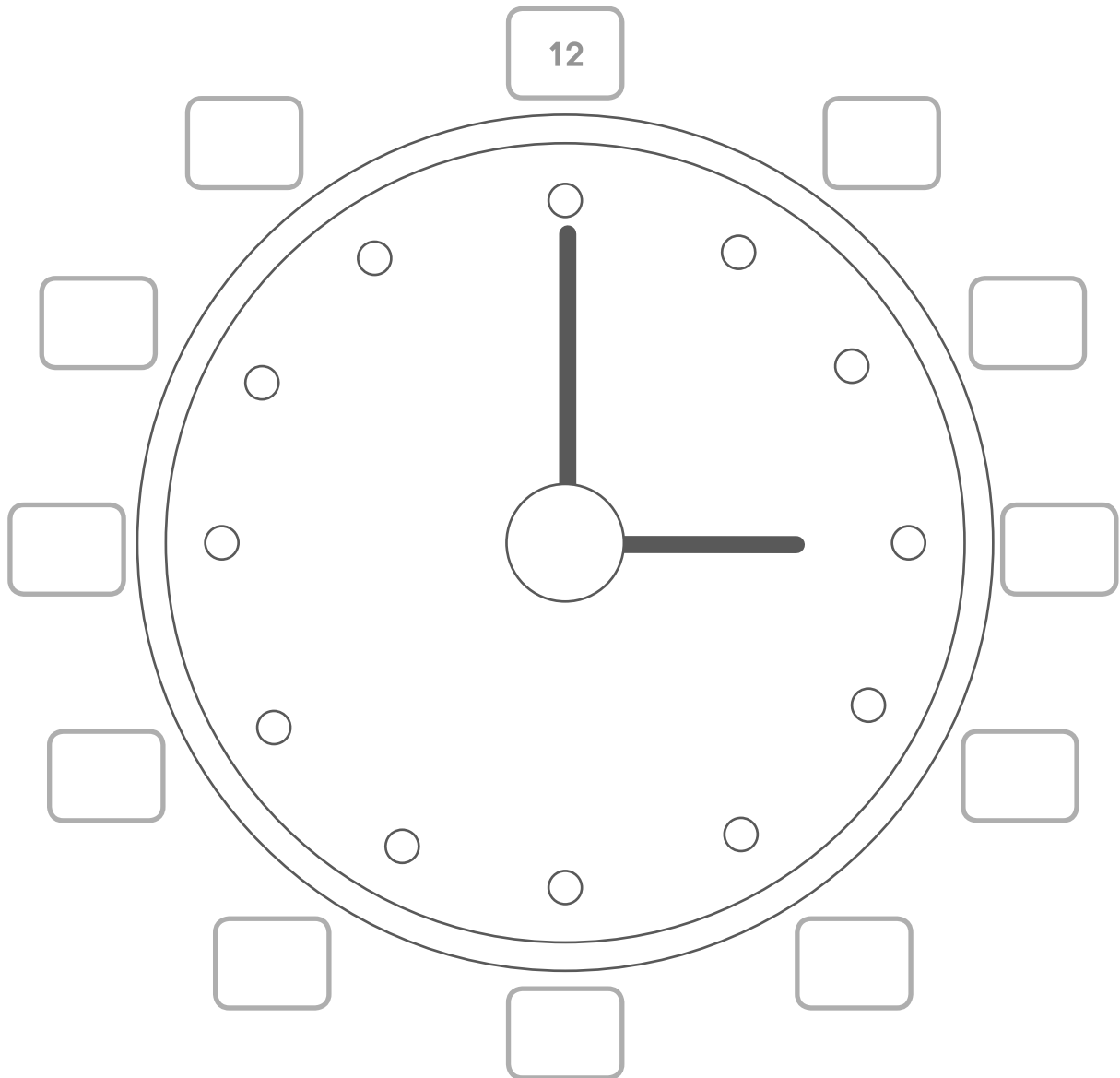




16.2 การอ่านและการเขียนเวลา

เติมตัวเลขบนหน้าปัดนาฬิกาให้ถูกต้องพร้อมระบายสีให้สวยงาม





เติมเวลาลงในช่องว่างให้ถูกต้อง


ตัวอย่าง



เจ้่งคีนนอนเวลา

6 นาฬิกา

(1)




เิ่งรับประทานอาหารเช้าเวลา

(2)



สั้มป้ันจักรยานในสวนเวลา

(3)




โจเตะฟุตบอลกับเพื่อน ๆ เวลา

(4)



จูนไปซื้อของกับแม่เวลา

(5)



แชนรับประทานอาหารเย็นกับ
ครอบครัวเวลา

(6)



บาสวิ่งออกกำลังกายเวลา

(7)




ค้อมอ่านหนังสือเวลา

(8)




แป็งอาบน้ำเวลา

(9)



ไก่ขันในตอนเช้าเวลา

บันทึกของสมศรี



ฉันรับประทานนมปังเป็นอาหารเช้า



ฉันช่วยคุณแม่ล้างจาน




ฉันเล่นเกมกับสุณี



สุณีกลับบ้าน
ฉันรับประทานอาหารกลางวัน



ฉันนอนพักกลางวัน



ฉันดูการ์ตูนในตอนเย็น



ฉันรู้สึกเพลียจึงเข้านอน

จากบันทึกของสมศรี ตอบคำถามลงในช่องว่างให้ถูกต้อง

(1) สมศรีรับประทานอาหารเช้าเวลาใด

ตอบ _____

(2) สมศรีกลับบ้านเวลาใด

ตอบ _____

(3) สมศรีนอนพักกลางวันตั้งแต่เวลาใดถึงเวลาใด

ตอบ _____

(4) สมศรีเข้านอนเวลาใด

ตอบ _____

(5) สมศรีช่วยคุณแม่ล้างจานเวลาใด

ตอบ _____

(6) สมศรีเล่นเกมเวลาใด


ตอบ _____



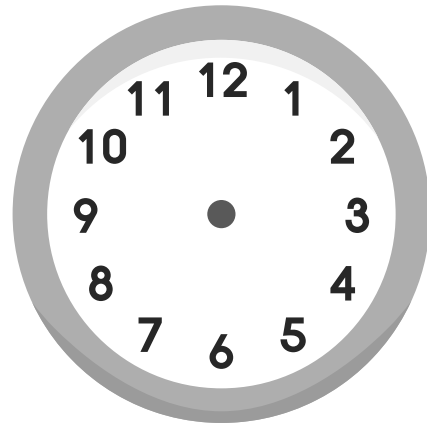
วาดเข็มนาฬิกาให้สอดคล้องกับเวลาที่กำหนด

ตัวอย่าง

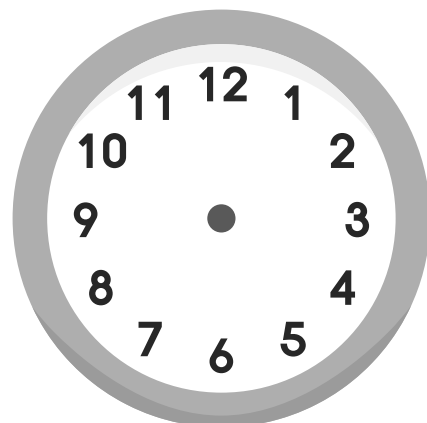

เจนและครอบครัวตื่นนอนตอนเช้าเพื่อออกกำลังกายเวลา 6 นาฬิกา



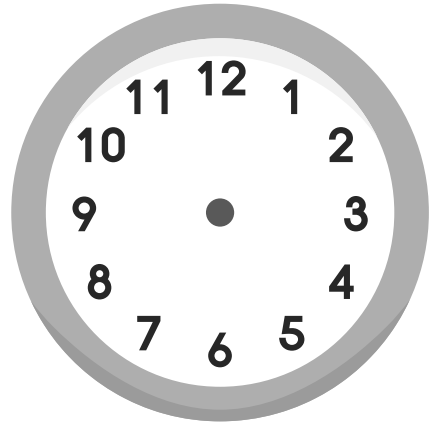
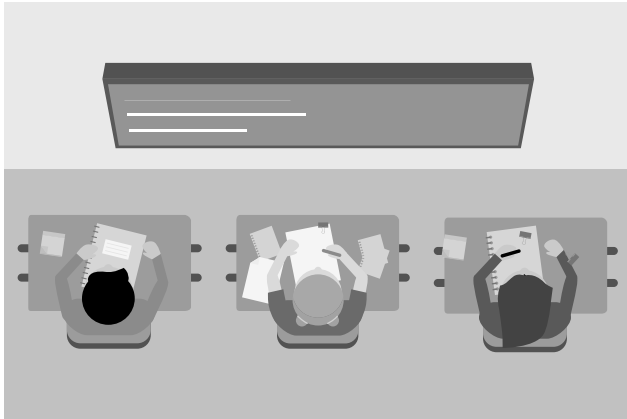
(1) อาร์ตดูการ์ตูนเวลา 8 โมงเช้า



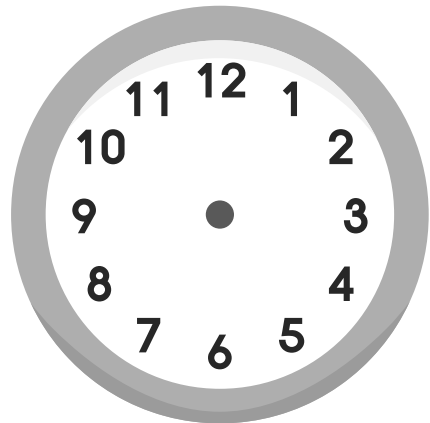

(2) พ่อทานรับประทานอาหารเช้า



(3) เด็ก ๆ เรียนคณิตศาสตร์เวลา 14 นาฬิกา



(4) ดวงอาทิตย์ตกดินเวลา 6 โมงเย็น



(5) ห้องสมุดปิดเวลา 3 ทุ่ม

