



15.3 แบบรูปและความสัมพันธ์

แบบที่ 1 : ความสัมพันธ์แบบ "รูปร่าง"

หาแบบรูปถัดไปของความสัมพันธ์ต่อไปนี้

ตัวอย่าง

(1)

(2)

(3)

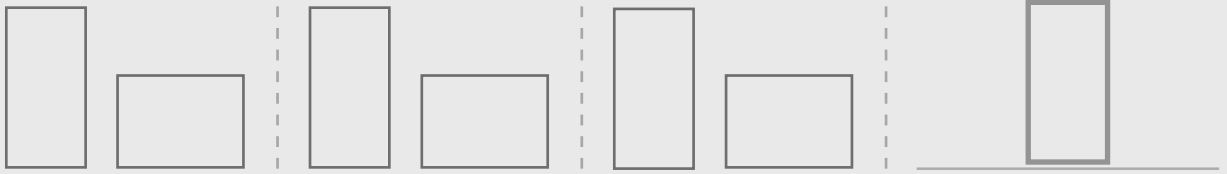
(4)

(5)

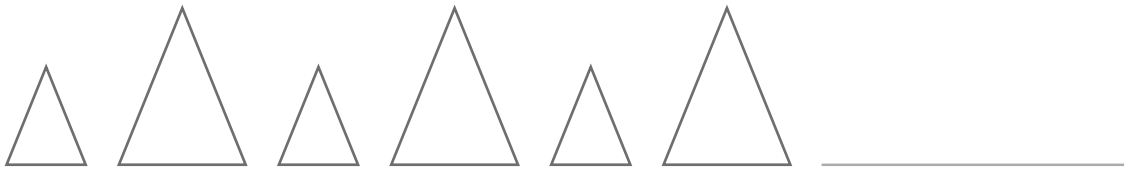
แบบที่ 2 : ความสัมพันธ์แบบ "ขนาด"

หาแบบรูปถัดไปของความสัมพันธ์ต่อไปนี้

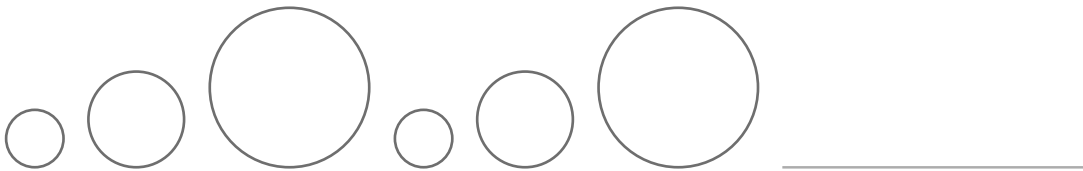
ตัวอย่าง



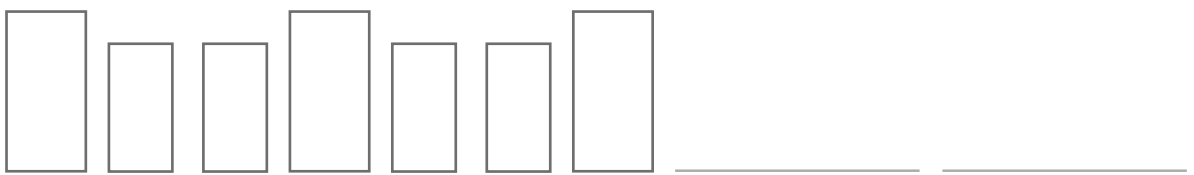
(1)



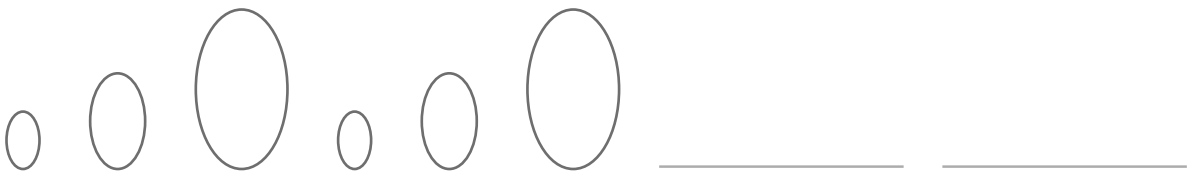
(2)




(3)



(4)



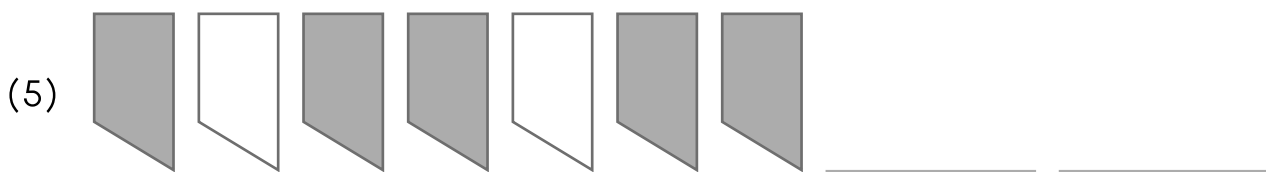
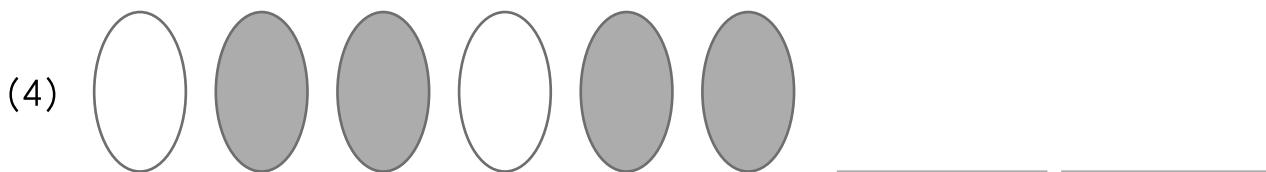
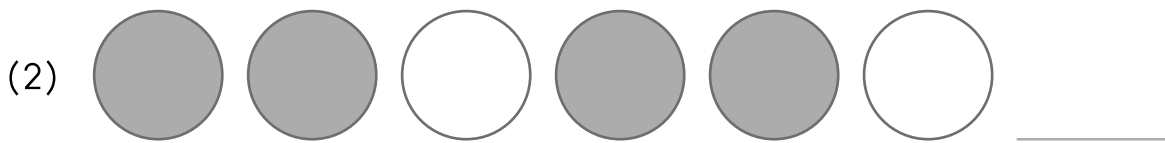
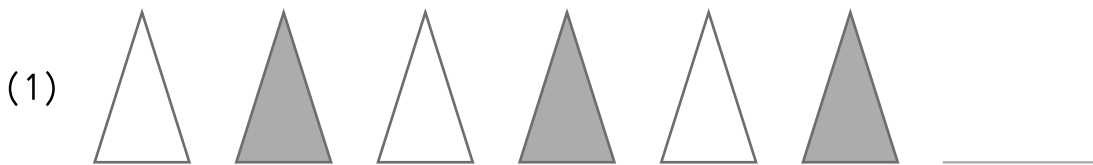
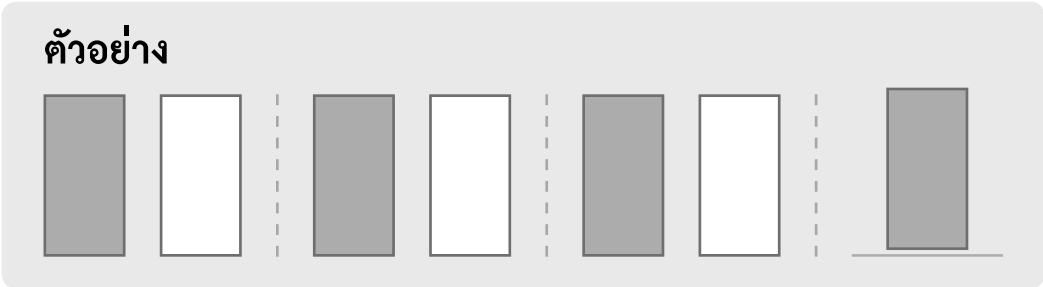
(5)





แบบที่ 3 : ความสัมพันธ์แบบ "สื"

หาแบบรูปถัดไปของความสัมพันธ์ต่อไปนี้

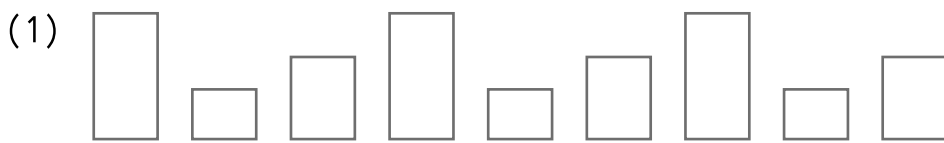


แบบรูปเรขาคณิตต่อไปนี้ มีความสัมพันธ์แบบใด

ตัวอย่าง



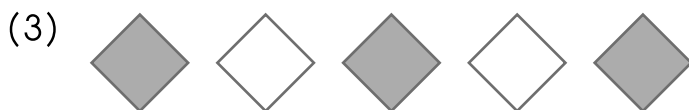
ตอบ _____ รูปร่าง _____




ตอบ _____



ตอบ _____



ตอบ _____



ตอบ _____



ตอบ _____