
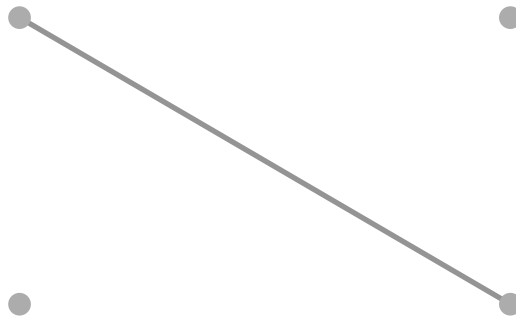


## 15.2 รูปเรขาคณิตในชีวิตประจำวัน

### รูปเรขาคณิตในชีวิตประจำวัน

วาดรูปตามรอยประและจับคู่รูปเรขาคณิตให้ถูกต้อง



ตัวอย่าง



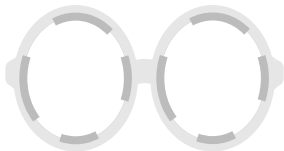
(1)




(2)



(3)





(4)






# ลากเส้นจับคู่รูปเรขาคณิตในชีวิตประจำวันให้ถูกต้อง

ตัวอย่าง



รูปสามเหลี่ยม


(1)



•

รูปสี่เหลี่ยม

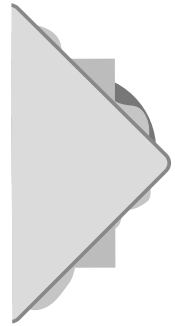
(2)



•

รูปวงกลม

(3)



•

รูปวงรี

# บอกชื่อรูปภาพชนิดในชีวิตประจำวันให้ถูกต้อง

ตัวอย่าง



รูปสี่เหลี่ยม

(1)



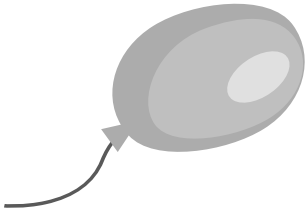
\_\_\_\_\_

(2)



\_\_\_\_\_

(3)



\_\_\_\_\_

(4)



\_\_\_\_\_


(5)



\_\_\_\_\_



(6)




---

(7)




---

(8)




---

(9)



---

(10)

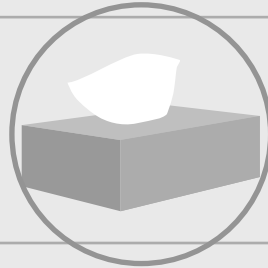


---

# วงล้อมรอบรูปภาพให้สอดคล้องตามที่โจทย์กำหนดทางด้านซ้าย

## ตัวอย่าง

รูปสี่เหลี่ยม



(1)

รูปวงกลม



(2)

รูปสามเหลี่ยม



(3)

รูปวงรี

