

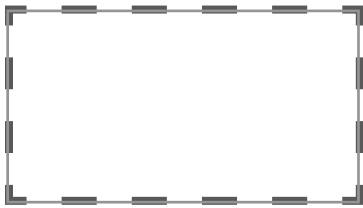
15

รูปเรขาคณิต

15.1 ลักษณะของรูปเรขาคณิต

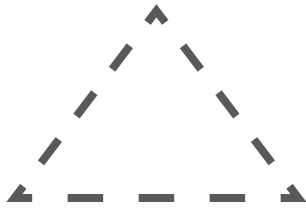
ลากเส้นตามรอยประและจับคู่รูปเรขาคณิตให้ถูกต้อง

ตัวอย่าง




รูปวงกลม

(1)




รูปสี่เหลี่ยม

(2)



รูปสามเหลี่ยม

(3)

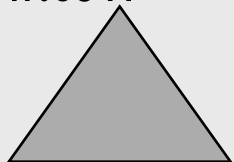


รูปวงรี



เติมคำตอบลงในช่องว่างให้ถูกต้อง

ตัวอย่าง



มี 3 ด้าน

มี 3 มุม


(1)



มี _____ ด้าน

มี _____ มุม

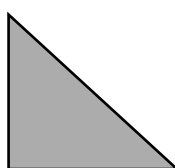
(2)



มี _____ ด้าน

มี _____ มุม


(3)



มี _____ ด้าน

มี _____ มุม

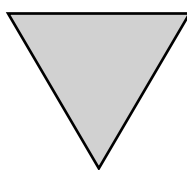
(4)



มี _____ ด้าน

มี _____ มุม

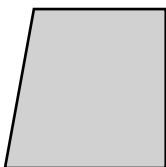
(5)



มี _____ ด้าน

มี _____ มุม


(6)



มี _____ ด้าน

มี _____ มุม


(7)



มี _____ ด้าน

มี _____ มุม

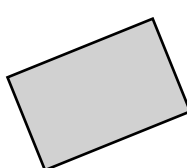
(8)



มี _____ ด้าน

มี _____ มุม


(9)



มี _____ ด้าน

มี _____ มุม

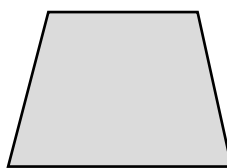
(10)



มี _____ ด้าน

มี _____ มุม

(11)



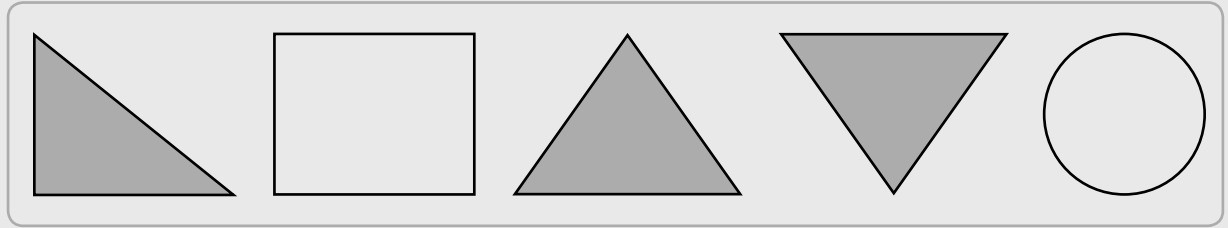
มี _____ ด้าน

มี _____ มุม

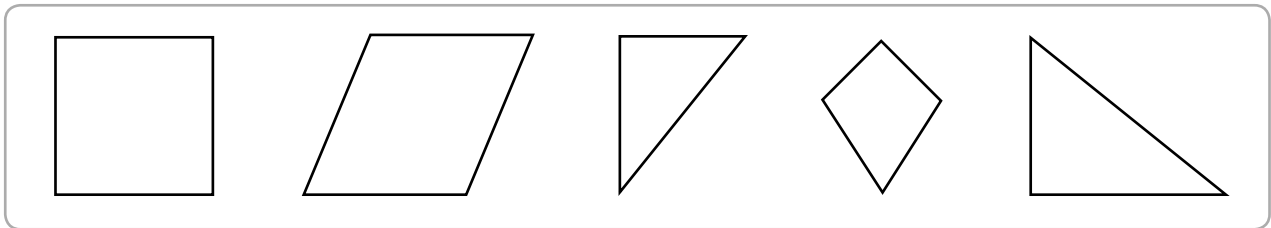
ระบายสีรูปเรขาคณิตที่โจทย์กำหนดให้

ตัวอย่าง

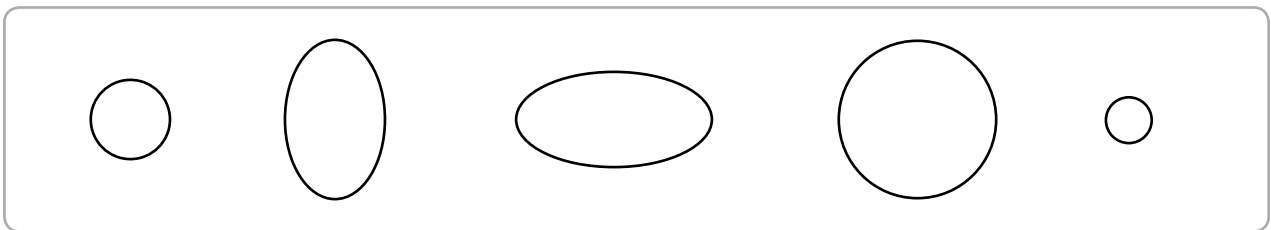
รูปสามเหลี่ยม



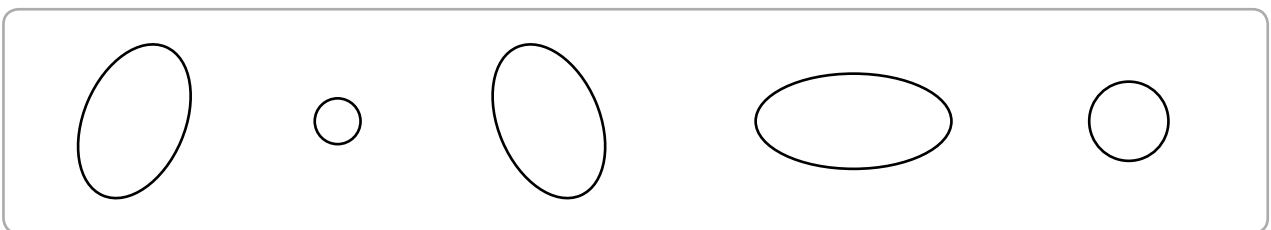
(1) รูปสี่เหลี่ยม



(2) รูปวงกลม



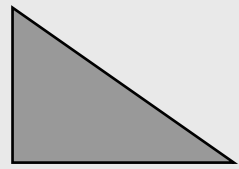
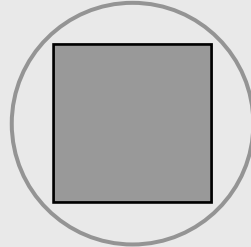
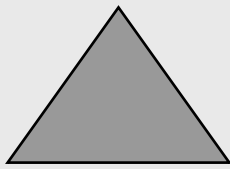
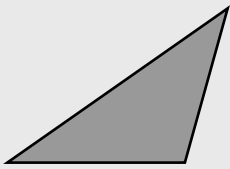
(3) รูปวงรี




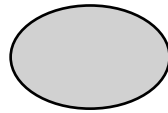
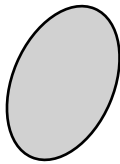



วงล้อมรอบรูปที่ไม่เข้าพวก

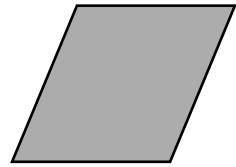

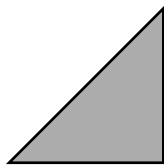

ตัวอย่าง



(1)



(2)



(3)

