

## 14.4 โจทย์ปัญหาการบวก

### โจทย์ปัญหาการบวก

เขียนประโยคสัญลักษณ์และหาคำตอบให้ถูกต้อง

#### ตัวอย่าง

นุ่นมีน้ำส้ม 4 ลิตร นิ่มมีน้ำส้ม 5 ลิตร ทั้งสองคนเทน้ำส้มลงในเหยือก  
เดียวกัน เหยือกจะมีน้ำส้มกี่ลิตร



ประโยคสัญลักษณ์ \_\_\_\_\_  $4 + 5 = \square$  \_\_\_\_\_

ตอบ \_\_\_\_\_ 9 ลิตร \_\_\_\_\_


(1) มีชาเขียวในกา 6 ลิตร อีฟดื่มไป 3 ลิตร เหลือชาเขียวอยู่ที่กี่ลิตร



ประโยคสัญลักษณ์ \_\_\_\_\_

ตอบ \_\_\_\_\_

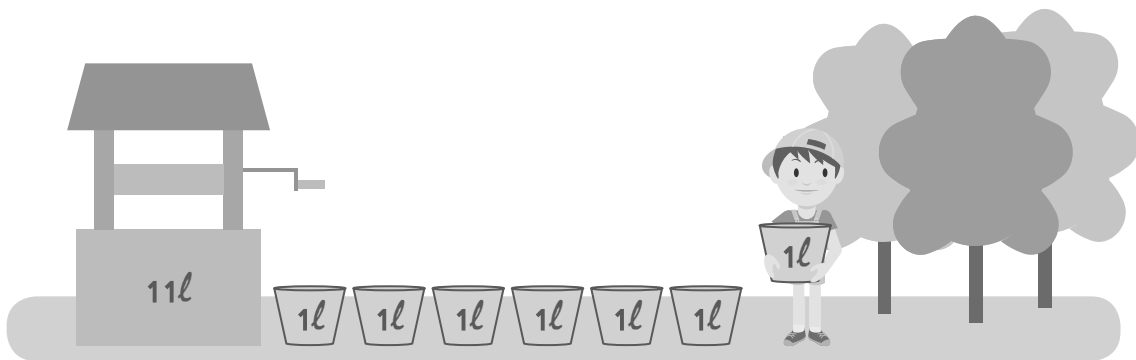
(2) ในโอ่งมีน้ำ 9 ลิตร เทน้ำใส่ในโอ่งเพิ่ม 4 ลิตร รวมในโอ่งมีน้ำทั้งหมดกี่ลิตร



ประโยคสัญลักษณ์ \_\_\_\_\_

ตอบ \_\_\_\_\_

(3) ในบ่อน้ำมีน้ำอยู่ 11 ลิตร ตักน้ำขึ้นมาใช้รดน้ำต้นไม้ 7 ลิตร จะเหลือน้ำในบ่อน้ำกี่ลิตร

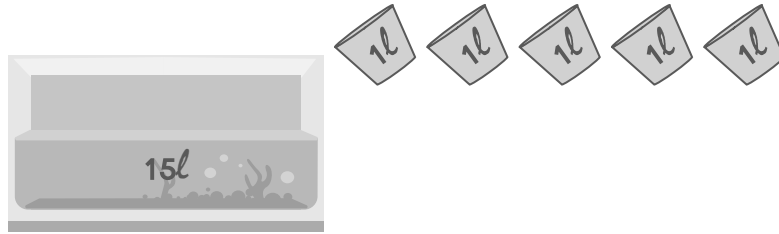


ประโยคสัญลักษณ์ \_\_\_\_\_

ตอบ \_\_\_\_\_




(4) ตู้ปลาที่มีน้ำอยู่ 15 ลิตร เอมเติมน้ำเพิ่มอีก 5 ลิตร ในตู้ปลาที่มีน้ำทั้งหมดกี่ลิตร



ประโยคสัญลักษณ์ \_\_\_\_\_

ตอบ \_\_\_\_\_

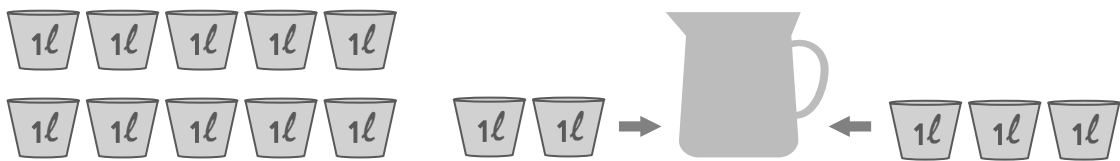
(5) ในกระติกน้ำมีน้ำอยู่ 19 ลิตร เอ็งดื่มน้ำในกระติกไป 14 ลิตร เหลือน้ำในกระติกอยู่ที่กี่ลิตร



ประโยคสัญลักษณ์ \_\_\_\_\_

ตอบ \_\_\_\_\_


- (6) สตรีคั้นน้ำส้ม 12 ลิตร สูดสวยคั้นน้ำส้ม 3 ลิตร เทน้ำส้มของทั้งสองคนลงในเหยือกรวมกัน เหยือกจะมีน้ำส้มกี่ลิตร



ประโยคสัญลักษณ์ \_\_\_\_\_

ตอบ \_\_\_\_\_

- (7) มีนํ้าเชื่อมไว้ 13 ลิตร มายคักนํ้าเชื่อมไป 7 ลิตร เหลือนํ้าเชื่อมกี่ลิตร

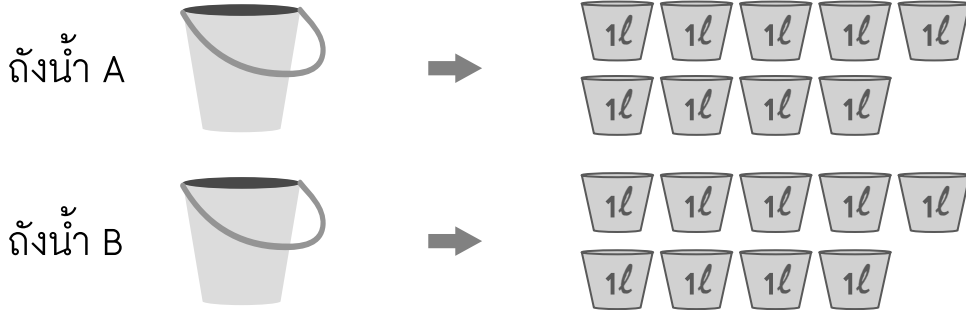


ประโยคสัญลักษณ์ \_\_\_\_\_

ตอบ \_\_\_\_\_



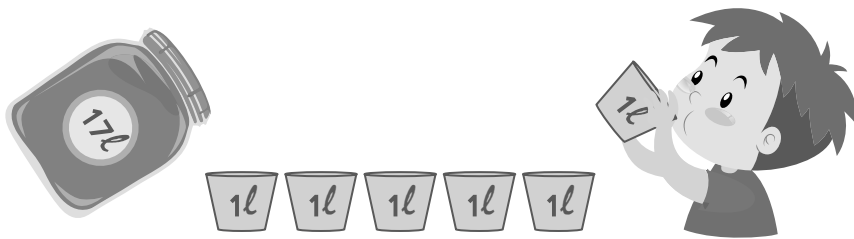
(8) ถังน้ำ A และ B มีน้ำอยู่ถังละ 9 ลิตร ทั้งสองถังมีน้ำรวมกันกี่ลิตร



ประโยคสัญลักษณ์ \_\_\_\_\_

ตอบ \_\_\_\_\_

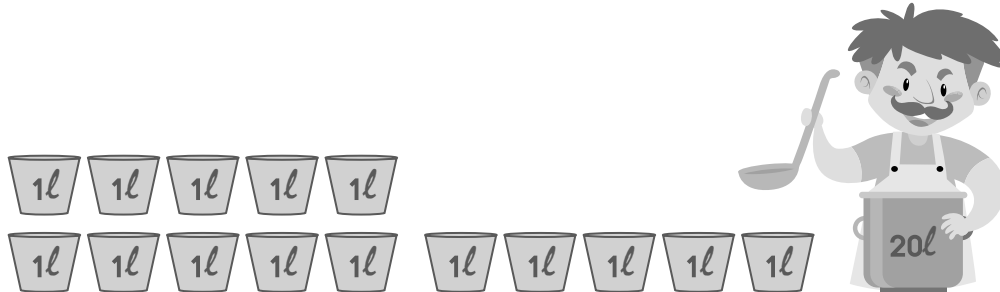
(9) มานะมีน้ำผึ้ง 17 ลิตร คิมไป 6 ลิตร มานะเหลือน้ำผึ้งกี่ลิตร



ประโยคสัญลักษณ์ \_\_\_\_\_

ตอบ \_\_\_\_\_

(10) พ่อครัวทำน้ำซุปรว้ 20 ลิตร ตักแบ่งให้ลูกค้าไป 15 ลิตร พ่อครัวเหลือน้ำซุปรว้กี่ลิตร



ประโยคสัญลักษณ์ \_\_\_\_\_

ตอบ \_\_\_\_\_

วาดรูป เขียนประโยคสัญลักษณ์ และหาคำตอบให้ถูกต้อง

**ตัวอย่าง**

ในถังมีน้ำ 8 ลิตร ในขวดมีน้ำ 1 ลิตร เทน้ำจากขวดใส่ในถัง ในถังจะมีน้ำทั้งหมดกี่ลิตร



กระดาษทด

$$\begin{array}{r} 8 \\ + \\ 1 \\ \hline 9 \end{array}$$

ประโยคสัญลักษณ์ \_\_\_\_\_  $8 + 1 = \square$

ตอบ \_\_\_\_\_ 9 ลิตร



(1) ถังใบหนึ่งบรรจุน้ำ 6 ลิตร ฟ้าใสต้กน้ำใส่ถังเพิ่มอีก 4 ลิตร ตอนนีถังบรรจุน้ำทั้งหมดกี่ลิตร

กระดาษทด

ประโยคสัญลักษณ์ \_\_\_\_\_

ตอบ \_\_\_\_\_

(2) จุกี้เตรียมน้ำผลไม้สำหรับงานปาร์ตี้ รินน้ำผลไม้แจกให้เพื่อน ๆ ไป 9 ลิตร เหลือน้ำผลไม้ 8 ลิตร จุกี้เตรียมน้ำผลไม้ไว้ในตอนแรกทั้งหมดกี่ลิตร

กระดาษทด

ประโยคสัญลักษณ์ \_\_\_\_\_

ตอบ \_\_\_\_\_

- (3) ไบรอันขายนมสดได้ 6 ลิตร เจนนี่ขายนมสดได้ 12 ลิตร เจนนี่ขายนมสดได้มากกว่าไบรอันกี่ลิตร

กระดาษทด

ประโยคสัญลักษณ์ \_\_\_\_\_

ตอบ \_\_\_\_\_

- (4) ไนแท็งก์มีน้ำทั้งหมด 13 ลิตร กานดาใช้รดน้ำต้นไม้ไปจนเหลือน้ำในแท็งก์ 9 ลิตร กานดาใช้น้ำไปทั้งหมดกี่ลิตร

กระดาษทด

ประโยคสัญลักษณ์ \_\_\_\_\_

ตอบ \_\_\_\_\_





(5) เหยือกน้ำใบที่หนึ่งบรรจุน้ำไว้ 11 ลิตร เหยือกน้ำใบที่สองบรรจุน้ำไว้ 9 ลิตร  
 เหยือกน้ำทั้งสองใบบรรจุน้ำรวมกันทั้งหมดกี่ลิตร

กระดาษทด

ประโยคสัญลักษณ์ \_\_\_\_\_

ตอบ \_\_\_\_\_

(6) ถังใบที่หนึ่งบรรจุน้ำได้ 18 ลิตร ถังใบที่สองบรรจุน้ำได้ 6 ลิตร จะต้องเติมน้ำ  
 ใส่ถังใบที่สองกี่ลิตร จึงจะทำให้มีน้ำเท่ากับถังใบที่หนึ่ง

กระดาษทด

ประโยคสัญลักษณ์ \_\_\_\_\_

ตอบ \_\_\_\_\_

- (7) สมทรงชงกาแฟใส่เหยือกไว้ 20 ลิตร แบ่งใส่กาต้มน้ำ 2 ใบ ใบที่หนึ่ง 5 ลิตร ใบที่สอง 4 ลิตร เหลือกาแฟในเหยือกกี่ลิตร

กระดาษทด

ประโยคสัญลักษณ์ \_\_\_\_\_

ตอบ \_\_\_\_\_

- (8) แกลลอนใบหนึ่งมีความจุ 19 ลิตร มีน้ำอยู่ในแกลลอน 4 ลิตร จะต้องเติมน้ำใส่แกลลอนเพิ่มอีกกี่ลิตร น้ำจึงจะเต็มแกลลอนพอดี

กระดาษทด

ประโยคสัญลักษณ์ \_\_\_\_\_

ตอบ \_\_\_\_\_



(9) กาต้มน้ำบรรจุน้ำ 16 ลิตร นำไปใช้ 3 ลิตร เหลือน้ำกี่ลิตร

กระดาษทด

ประโยคสัญลักษณ์ \_\_\_\_\_

ตอบ \_\_\_\_\_

(10) วันเสาร์ซักผ้าใช้น้ำไป 11 ลิตร วันอาทิตย์ซักผ้าใช้น้ำไป 7 ลิตร ทั้งสองวัน ซักผ้าใช้น้ำรวมกันทั้งหมดกี่ลิตร

กระดาษทด

ประโยคสัญลักษณ์ \_\_\_\_\_

ตอบ \_\_\_\_\_