



### 13.3 โจทย์ปัญหาการซั้ง

เขียนประโยคสัญลักษณ์และหาคำตอบให้ถูกต้อง

ตัวอย่าง

ไก่หนัก 10 หน่วย นกหนัก 5 หน่วย ไก่และนกหนักรวมกันกี่หน่วย

ประโยคสัญลักษณ์  $10 + 5 = \square$

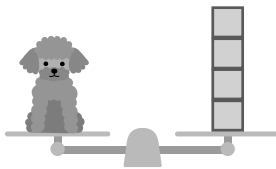



$$\begin{array}{r} 10 \\ + 5 \\ \hline 15 \end{array}$$

ตอบ 15 หน่วย

(1) แมวหนัก 15 หน่วย สุนัขหนัก 4 หน่วย แมวและสุนัขหนักรวมกันกี่หน่วย

ประโยคสัญลักษณ์ \_\_\_\_\_




$$\begin{array}{r} \underline{\hspace{2cm}} \\ \hline \hline \end{array}$$

ตอบ \_\_\_\_\_



(2) นิคหนัก 12 หน่วย น้อยหนัก 6 หน่วย ทั้งสองคนหนักรวมกันกี่หน่วย


ประโยคสัญลักษณ์ \_\_\_\_\_



ตอบ \_\_\_\_\_

(3) หมีหนัก 6 หน่วย ลิงหนัก 2 หน่วย หมีและลิงหนักรวมกันกี่หน่วย


ประโยคสัญลักษณ์ \_\_\_\_\_



ตอบ \_\_\_\_\_

(4) ซานต้าหนัก 9 หน่วย กวางเรนเดียร์หนัก 8 หน่วย ซานต้าและกวางเรนเดียร์หนักรวมกันกี่หน่วย


ประโยคสัญลักษณ์ \_\_\_\_\_



ตอบ \_\_\_\_\_

(5) สมนึกหนัก 5 หน่วย สมปองหนัก 8 หน่วย ทั้งสองคนหนักรวมกันกี่หน่วย

ประโยคสัญลักษณ์ \_\_\_\_\_




ตอบ \_\_\_\_\_



(6) ต้นกระบองเพชรหนัก 5 หน่วย ต้นทิวลิปหนัก 9 หน่วย ต้นกระบองเพชรและต้นทิวลิปหนักรวมกันกี่หน่วย


ประโยคสัญลักษณ์ \_\_\_\_\_



ตอบ \_\_\_\_\_

(7) เอกหนัก 17 หน่วย โอหนัก 11 หน่วย เอกหนักมากกว่าโอกี่หน่วย

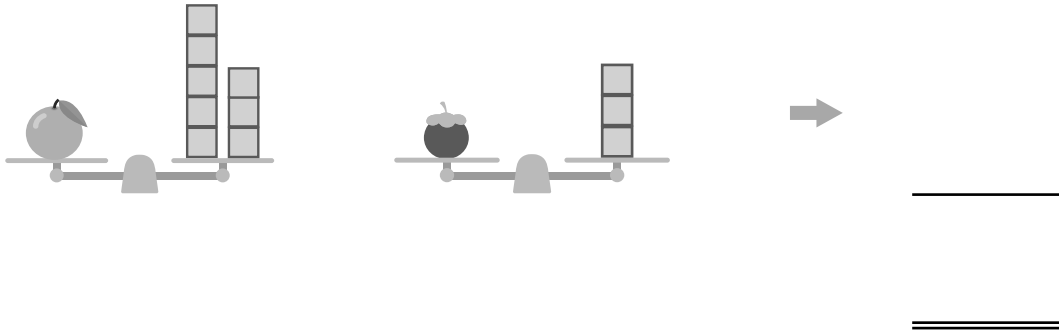
ประโยคสัญลักษณ์ \_\_\_\_\_



ตอบ \_\_\_\_\_

(8) แม่ค้ามีส้มโอหนัก 8 หน่วย มังคุดหนัก 3 หน่วย ส้มโอหนักมากกว่ามังคุดกี่หน่วย

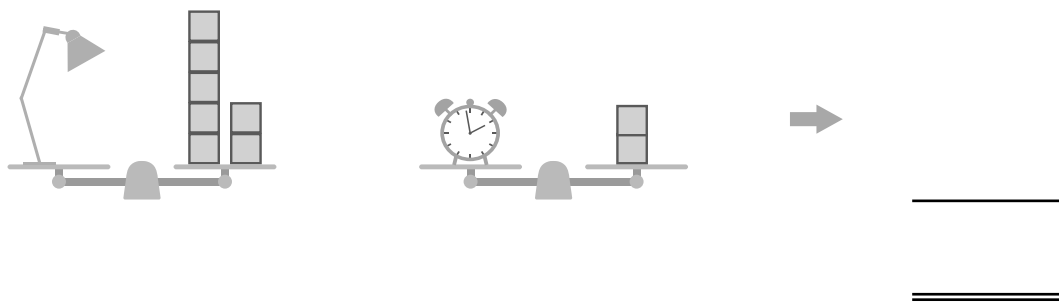
ประโยคสัญลักษณ์ \_\_\_\_\_



ตอบ \_\_\_\_\_

(9) นาฬิกาปลุกหนัก 2 หน่วย โคมไฟหนัก 7 หน่วย โคมไฟหนักกว่านาฬิกาปลุกกี่หน่วย

ประโยคสัญลักษณ์ \_\_\_\_\_

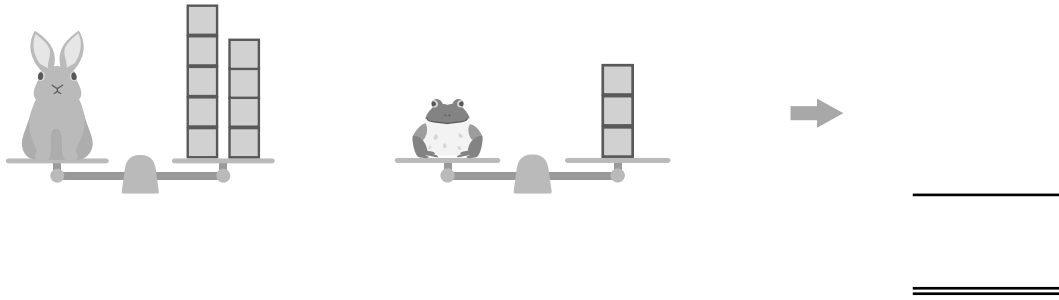


ตอบ \_\_\_\_\_



(10) กระดาษหนัก 9 หน่วย กบหนัก 3 หน่วย กระดาษหนักมากกว่ากบกี่หน่วย

ประโยคสัญลักษณ์ \_\_\_\_\_

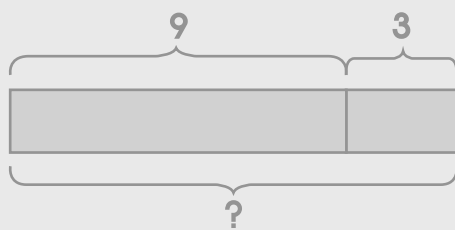


ตอบ \_\_\_\_\_

วาดรูป เขียนประโยคสัญลักษณ์ และหาคำตอบให้ถูกต้อง

**ตัวอย่าง**

กล่องเปล่าใบหนึ่งหนัก 9 หน่วย บรรจूस้มหนัก 3 หน่วย กล่องและส้มหนักรวมกันกี่หน่วย



กระดาษทด

9
+
3
—
12
—

ประโยคสัญลักษณ์ \_\_\_\_\_  $9 + 3 = \square$

ตอบ \_\_\_\_\_ 12 หน่วย

- (1) เศษขายทุเรียนได้ 10 หน่วย สมศักดิ์ขายทุเรียนได้ 8 หน่วย ทั้งสองคนขายทุเรียนรวมกันได้กี่หน่วย

กระดาษทด

ประโยคสัญลักษณ์ \_\_\_\_\_

ตอบ \_\_\_\_\_

- (2) ในการทำขนมเค้กต้องใช้แป้ง 15 หน่วย จอนสันมีแป้งอยู่ 7 หน่วย จอนสันต้องซื้อแป้งเพิ่มอีกกี่หน่วยจึงสามารถทำขนมเค้กได้

กระดาษทด

ประโยคสัญลักษณ์ \_\_\_\_\_

ตอบ \_\_\_\_\_



(3) ถังใบหนึ่งหนัก 4 หน่วย ใส่หินหนัก 9 หน่วย ลงในถัง ตอนนี้ถังหนักกี่หน่วย

กระดาษทด

ประโยคสัญลักษณ์ \_\_\_\_\_

ตอบ \_\_\_\_\_

(4) ร้านอาหารมีเนื้อหมูอยู่ 18 หน่วย วันอาทิตย์ขายเนื้อหมูไป 7 หน่วย วันจันทร์  
ร้านอาหารจะเหลือเนื้อหมูกี่หน่วย

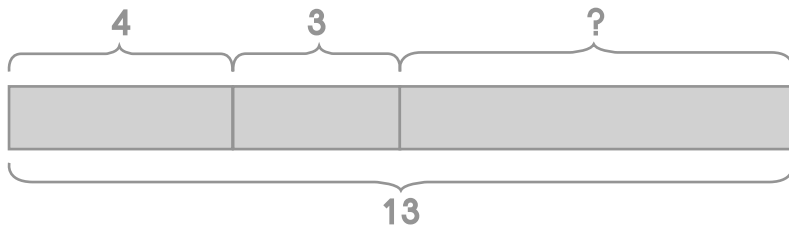
กระดาษทด

ประโยคสัญลักษณ์ \_\_\_\_\_

ตอบ \_\_\_\_\_



- (5) เอ็งซื้อแครอทหนัก 13 หน่วย ใช้แครอททำซूपไป 4 หน่วย และใช้แครอททำข้าวผัดไป 3 หน่วย เอ็งเหลือแครอทกี่หน่วย



กระดาษทด

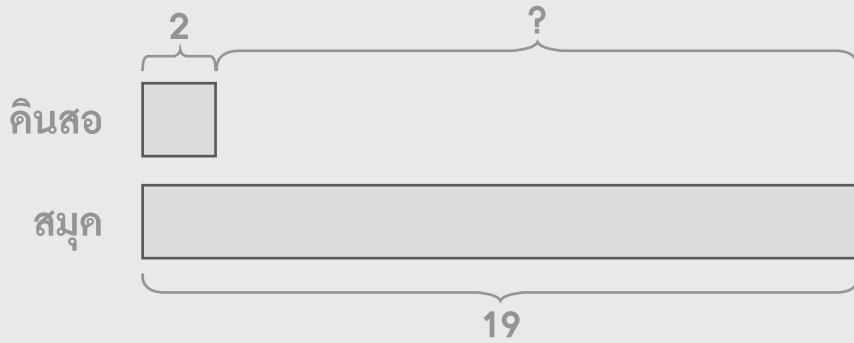
ประโยคสัญลักษณ์ \_\_\_\_\_

ตอบ \_\_\_\_\_



### ตัวอย่าง

ดินสอหนัก 2 หน่วย สมุดหนัก 19 หน่วย ดินสอเบากว่าสมุดเท่าไร



กระดาษทด

$$\begin{array}{r} 19 \\ - 2 \\ \hline 17 \end{array}$$

ประโยคสัญลักษณ์  $19 - 2 = \square$

ตอบ 17 หน่วย

- (6) แม่ใช้น้ำตาลทำขนมเค้กไป 5 หน่วย ใช้ทำคุกกี้ไป 8 หน่วย และใช้ชงกาแฟไป 2 หน่วย แม่ใช้น้ำตาลไปทั้งหมดกี่หน่วย

กระดาษทด

ประโยคสัญลักษณ์ \_\_\_\_\_

ตอบ \_\_\_\_\_

(7) แซลลี่หนัก 7 หน่วย แซลลี่เบากว่าคอลลี่ 2 หน่วย คอลลี่หนักกี่หน่วย

กระดาษทด

ประโยคสัญลักษณ์ \_\_\_\_\_

ตอบ \_\_\_\_\_

(8) ทอมหนัก 14 หน่วย เจอรี่หนัก 5 หน่วย ทั้งสองคนหนักต่างกันกี่หน่วย

กระดาษทด

ประโยคสัญลักษณ์ \_\_\_\_\_

ตอบ \_\_\_\_\_



(9) วันพุธโพนี้ขายข้าวได้ 15 หน่วย วันพุธขายข้าวได้น้อยกว่าวันพฤหัสบดี 4 หน่วย  
วันพฤหัสบดีโพนี้ขายข้าวได้กี่หน่วย

กระดาษทด

ประโยคสัญลักษณ์ \_\_\_\_\_

ตอบ \_\_\_\_\_

(10) ใบตองหนัก 12 หน่วย ฟ้าไสหนักกว่าใบตอง 6 หน่วย ฟ้าไสหนักกี่หน่วย

กระดาษทด

ประโยคสัญลักษณ์ \_\_\_\_\_

ตอบ \_\_\_\_\_