



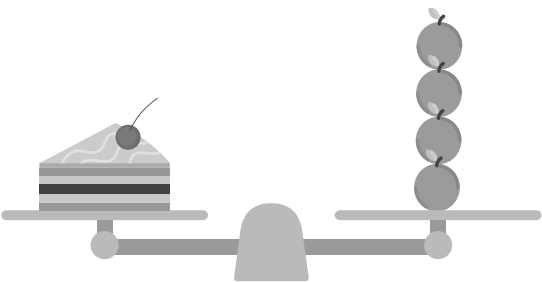
# 13.2 การชั่งน้ำหนักโดยใช้หน่วยที่ไม่ใช่หน่วยมาตรฐาน

จากภาพ เติมคำตอบลงในช่องว่างให้ถูกต้อง

**ตัวอย่าง**


หนังสือ 1 เล่มหนักเท่ากับ ส้ม 2 ผล

(1)



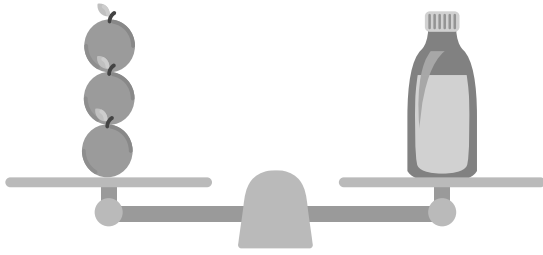
เค้ก 1 ชิ้นหนักเท่ากับ ส้ม \_\_\_\_\_ ผล

(2)



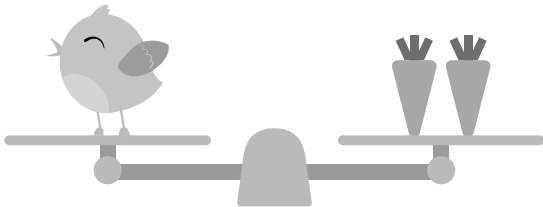
แตงโม 1 ผลหนักเท่ากับ ส้ม \_\_\_\_\_ ผล

(3)




ขวดน้ำ 1 ขวด หนักเท่ากับ ส้ม \_\_\_\_\_ ผล

(4)



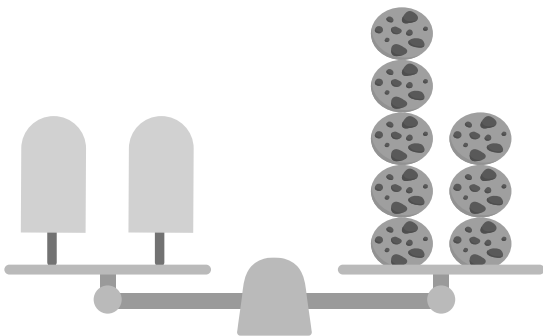
นก 1 ตัว หนักเท่ากับ แครอท \_\_\_\_\_ หัว

(5)



ลูกฟุตบอล 2 ลูก หนักเท่ากับ แครอท \_\_\_\_\_ หัว

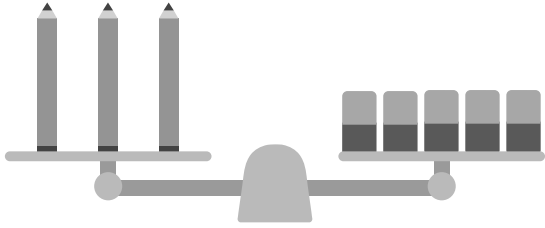
(6)



ไอศกรีม 2 แท่ง หนักเท่ากับ คุกกี้ \_\_\_\_\_ ชิ้น

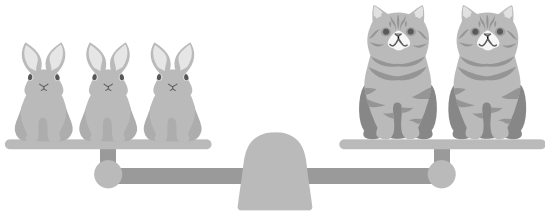


(7)



ดินสอ 3 แท่ง หนักเท่ากับ ยางลบ \_\_\_\_\_ ก้อน

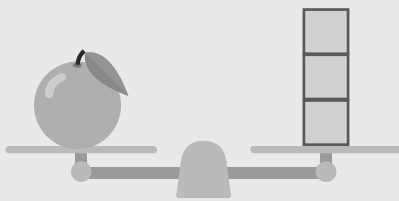
(8)



กระต่าย 3 ตัว หนักเท่ากับ แมว \_\_\_\_\_ ตัว

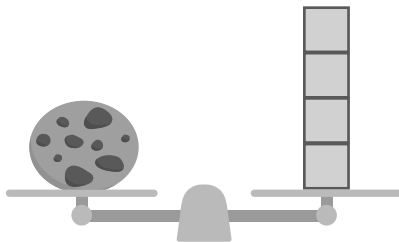
จากภาพ เติมคำตอบลงในช่องว่างให้ถูกต้อง (□ = 1 หน่วย)

ตัวอย่าง



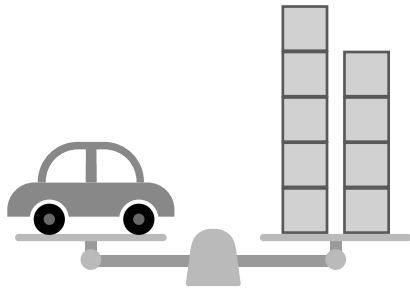
หนัก \_\_\_\_\_ 3 \_\_\_\_\_ หน่วย

(1)




หนัก \_\_\_\_\_ หน่วย

(2)




 หนัก.....หน่วย

(3)



 หนัก.....หน่วย

(4)



 หนัก.....หน่วย

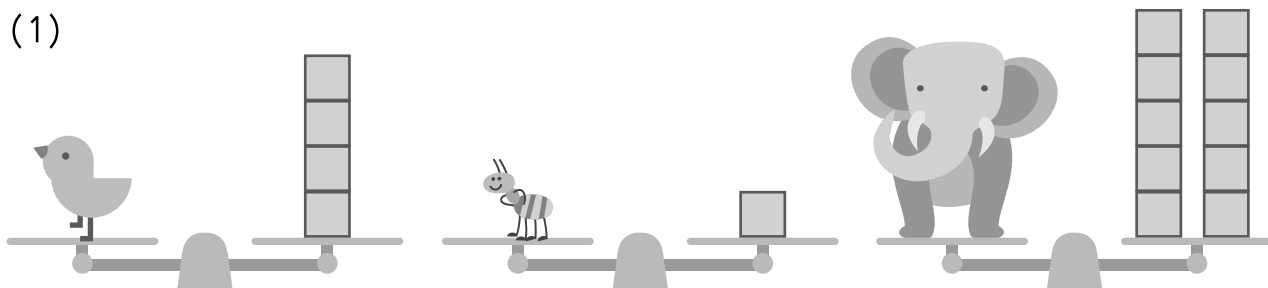


# วงล้อมรอบสิ่งที่หนักที่สุด


ตัวอย่าง



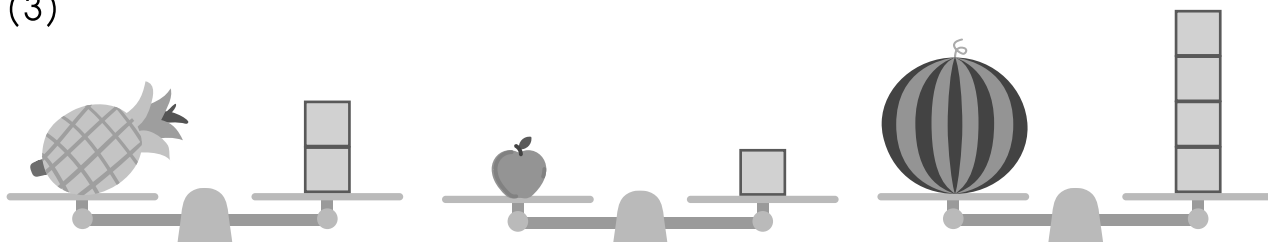
(1)



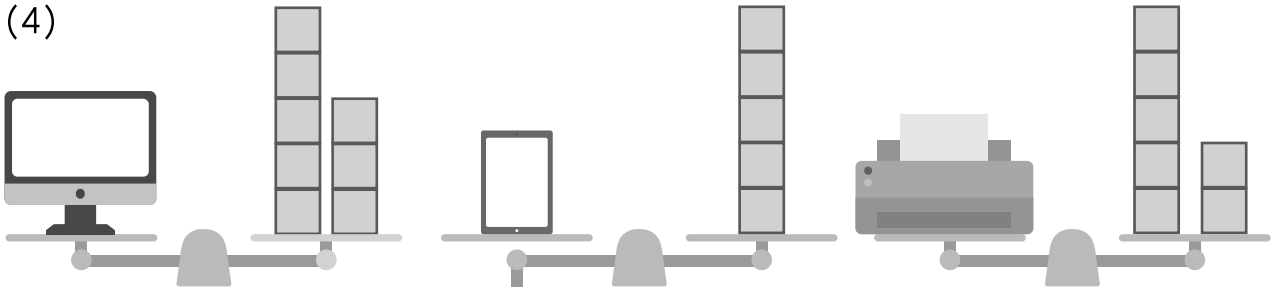
(2)



(3)

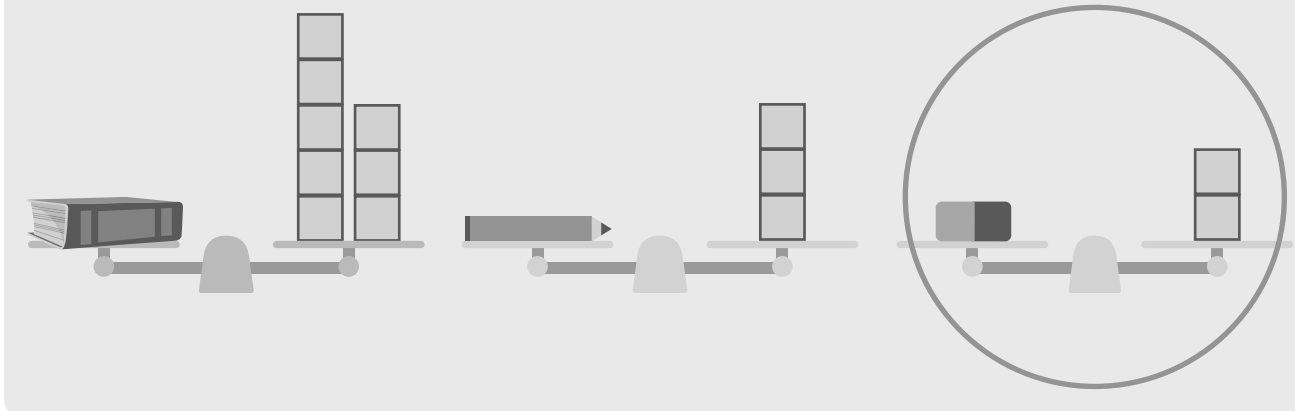


(4)

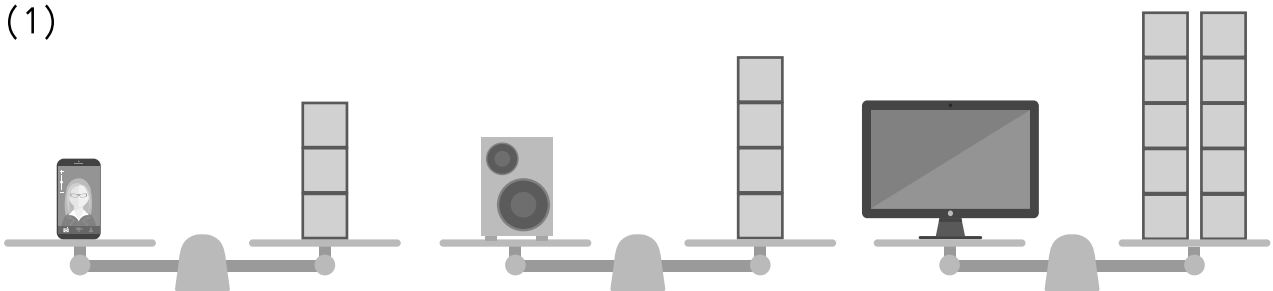


วงล้อมรอบสิ่งที่เบาที่สุด


ตัวอย่าง



(1)




(2)





(3)



(4)

