

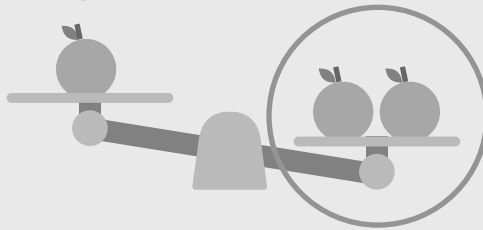
13

การชั่ง

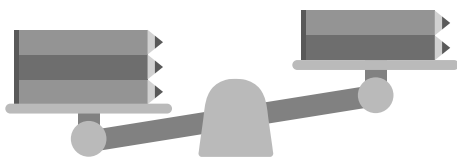
13.1 การเปรียบเทียบน้ำหนัก

วงล้อมรอบสิ่งที่หนักกว่า

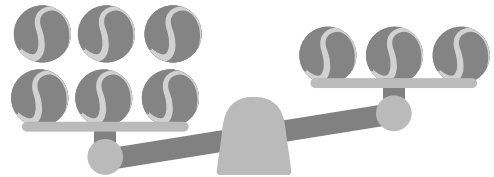
ตัวอย่าง



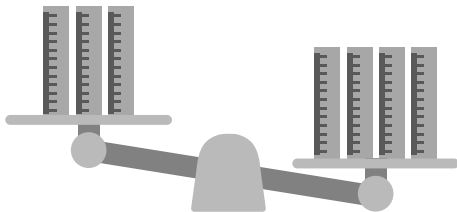
(1)



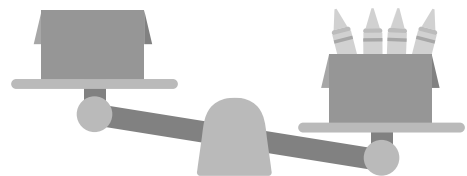
(2)



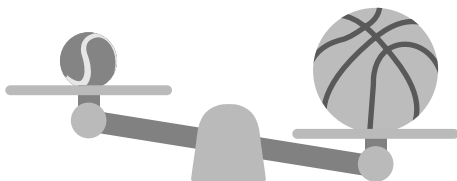
(3)




(4)



(5)

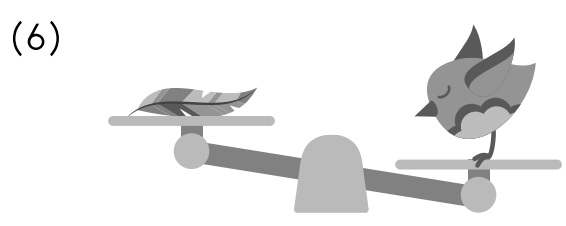
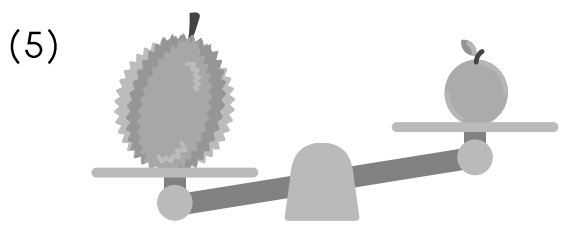


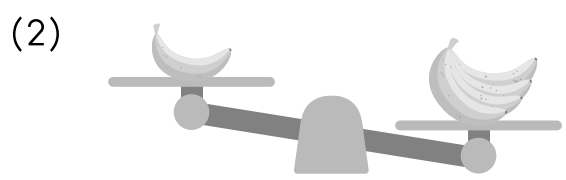
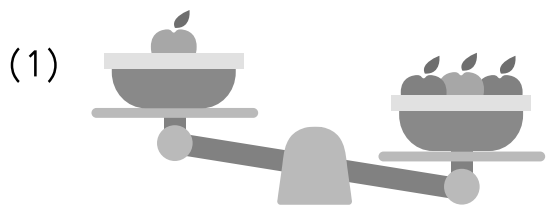
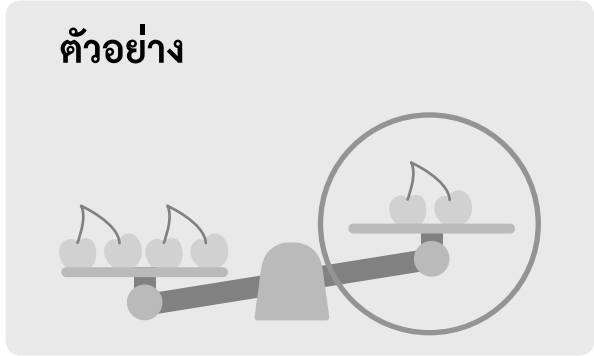


(6)





วงล้อมรอบสิ่งที่เบากว่า



จากภาพ ตอบคำถามต่อไปนี้ให้ถูกต้อง

ตัวอย่าง

ลูกเทนนิส

ลูกฟุตบอล

ลูกบาสเกตบอล

ลูกฟุตบอล



อะไรหนักที่สุด _____ ลูกบาสเกตบอล

(1)

ส้ม

ทุเรียน

แตงโม

ทุเรียน



ผลไม้ชนิดใดหนักที่สุด _____

(2)

โทรทัศน์

ลำโพง

มือถือ

ลำโพง



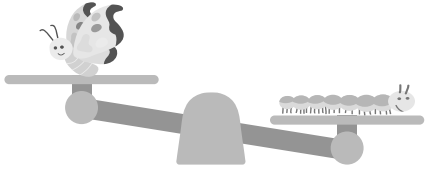
อะไรหนักที่สุด _____



(3)

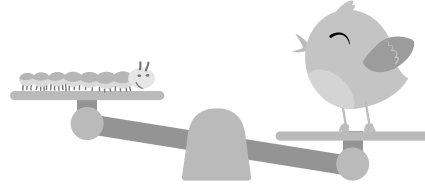
ผีเสื้อ

หนอน



หนอน

นก

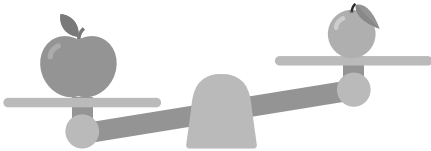


สัตว์ชนิดใดหนักที่สุด _____

(4)

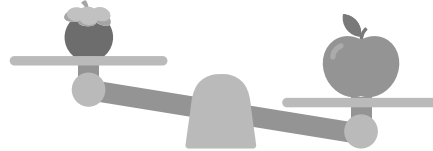
แอปเปิล

ส้ม



มังคุด

แอปเปิล



ผลไม้ชนิดใดหนักที่สุด _____

(5)

ยางลบ

ดินสอ




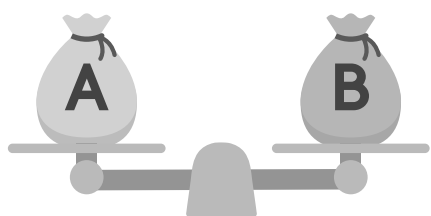
กล่องดินสอ

ดินสอ



อะไรเบาที่สุด _____

(6)



ถุงใดเบาที่สุด _____

(7)

ขนมปัง

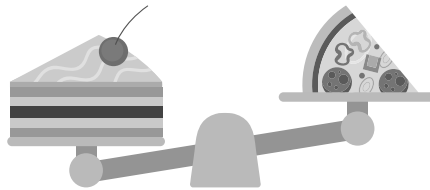
พิซซ่า

ขนมเค้ก

โดนัท



ขนมเค้ก



พิซซ่า

อะไรหนักที่สุด _____

(8)

กระต่าย

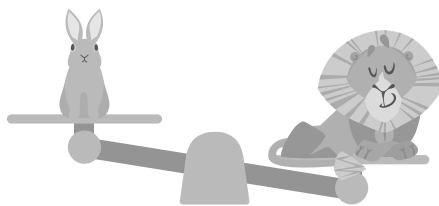
เต่า

สิงโต

เสือ



กระต่าย



สิงโต

สัตว์ชนิดใดหนักที่สุด _____