

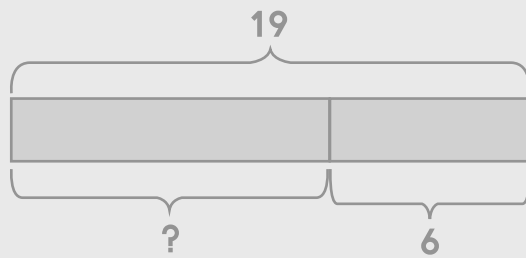


โจทย์ปัญหาการลบ

วาดรูป เขียนประโยคสัญลักษณ์ และหาคำตอบให้ถูกต้อง

ตัวอย่าง

เค้นเลี้ยงนก 19 ตัว ขายให้เพื่อน 6 ตัว เค้นเหลือนกกี่ตัว



ประโยคสัญลักษณ์ $19 - 6 = \square$

ตอบ 13 ตัว

กระดาษทด

$$\begin{array}{r} 19 \\ - 6 \\ \hline 13 \end{array}$$

(1) แวต้อองการมะม่วง 16 ผล แวมีอยู่แล้ว 8 ผล แวต้อองซื้อเพิ่มกี่ผล

กระดาษทด

ประโยคสัญลักษณ์ _____

ตอบ _____

(2) หนังสือเล่มหนึ่งมี 14 หน้า ปุ้ยอ่านไปแล้ว 9 หน้า ปุ้ยยังไม่ได้อ่านอีกกี่หน้า

กระดาษทด

ประโยคสัญลักษณ์ _____

ตอบ _____

(3) ครูมีดินสอ 17 แท่ง แจกให้นักเรียน 13 แท่ง ครูเหลือดินสอกี่แท่ง

กระดาษทด

ประโยคสัญลักษณ์ _____

ตอบ _____

(4) เควินมีแจกัน 18 ใบ ทำแตกไป 12 ใบ เควินเหลือแจกันอยู่ที่ใบ

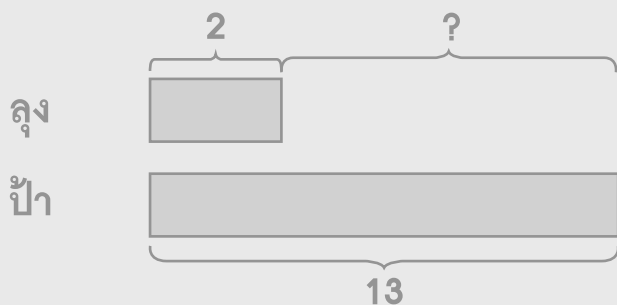
กระดาษทด

ประโยคสัญลักษณ์ _____

ตอบ _____

ตัวอย่าง

ลุงมีน้ำส้ม 2 ขวด ป้ามีน้ำส้ม 13 ขวด ลุงมีน้ำส้มน้อยกว่าป้ากี่ขวด



ประโยคสัญลักษณ์ $13 - 2 = \square$

ตอบ 11 ขวด

กระดาษทด

$$\begin{array}{r} 13 \\ - \quad 2 \\ \hline 11 \end{array}$$

(5) หยกมีดินสอ 9 แท่ง กิ๊กมีดินสอ 11 แท่ง กิ๊กมีดินสอมากกว่าหยกกี่แท่ง

กระดาษทด

ประโยคสัญลักษณ์ _____

ตอบ _____

(6) ในห้องสมุดมีหนังสือนิทาน 12 เล่ม หนังสือการ์ตูน 5 เล่ม มีหนังสือการ์ตูนน้อยกว่าหนังสือนิทานกี่เล่ม

กระดาษทด

ประโยคสัญลักษณ์ _____

ตอบ _____

- (7) จีวมีปลากระป๋อง 20 กระป๋อง มีปลากระป๋องมากกว่าผักกาดคอง 11 กระป๋อง
จีวมีผักกาดคองกี่กระป๋อง

กระดาษทด

ประโยคสัญลักษณ์ _____

ตอบ _____

- (8) โจววิ่งรอบสนามได้ 15 รอบ ขวัญใจวิ่งได้น้อยกว่าโจ 12 รอบ ขวัญใจวิ่ง
รอบสนามได้กี่รอบ

กระดาษทด

ประโยคสัญลักษณ์ _____

ตอบ _____

- (9) ในบ้านมีห้องนอน 15 ห้อง ตอนเช้าทำความสะอาดไป 3 ห้อง ตอนบ่ายทำ
ความสะอาดไป 2 ห้อง เหลือห้องนอนที่ยังไม่ได้ทำความสะอาดกี่ห้อง

กระดาษทด

ประโยคสัญลักษณ์ _____

ตอบ _____



(10) อ้อยมีเงิน 20 บาท ซื้อขนมไป 5 บาท ซื้อลูกอมไป 7 บาท อ้อยเหลือเงินกี่บาท

กระดาษทด

ประโยคสัญลักษณ์ _____

ตอบ _____

(11) ในบ่อปลา มีปลานู๋ 17 ตัว เอื้อยตกปลานู๋ได้ 9 ตัว อ้ายตกปลานู๋ 3 ตัว
ในบ่อปลาเหลือปลานู๋กี่ตัว

กระดาษทด

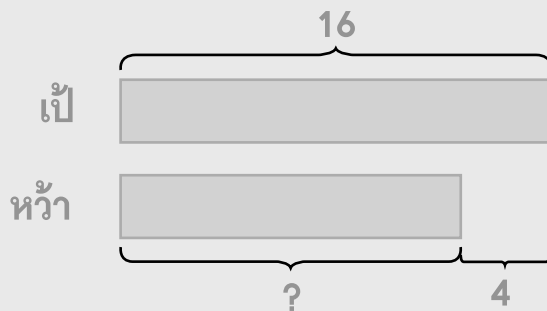
ประโยคสัญลักษณ์ _____

ตอบ _____

ตัวอย่าง

เป้มีเงิน 16 บาท หว่ามีเงินน้อยกว่าเป้ 4 บาท แก้มมีเงินน้อยกว่าหว่า 5 บาท
แก้มมีเงินกี่บาท

ขั้นที่ 1 หว่ามีเงินกี่บาท



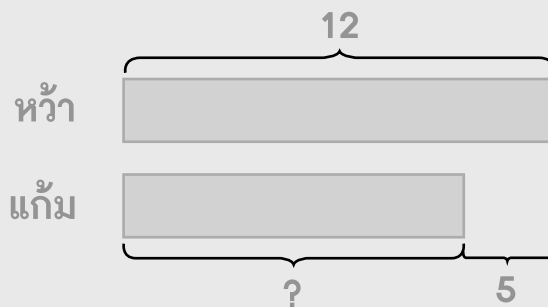
ประโยคสัญลักษณ์ $16 - 4 = \square$

ตอบ 12 บาท

กระดาษทด

$$\begin{array}{r} 16 \\ - 4 \\ \hline 12 \end{array}$$

ขั้นที่ 2 แก้มมีเงินกี่บาท



ประโยคสัญลักษณ์ $12 - 5 = \square$

ตอบ 7 บาท

กระดาษทด

$$\begin{array}{r} 12 \\ - 5 \\ \hline 7 \end{array}$$



(12) แม่ซื้อไข่ไก่ 19 ฟอง ซื้อไข่ไก่มากกว่าไข่เป็ด 11 ฟอง ซื้อไข่เป็ด
 มากกว่าไข่นกกระทา 2 ฟอง แม่ซื้อไข่นกกระทากี่ฟอง
ขั้นที่ 1 แม่ซื้อไข่เป็ดกี่ฟอง

กระดาษทด

ประโยคสัญลักษณ์ _____

ตอบ _____

ขั้นที่ 2 แม่ซื้อไข่นกกระทากี่ฟอง

กระดาษทด

ประโยคสัญลักษณ์ _____

ตอบ _____

(13) ฝ้ายปลูกต้นกล้วย 18 ต้น ปลูกต้นมะพร้าวน้อยกว่าต้นกล้วย 12 ต้น
ปลูกต้นปาล์มน้อยกว่าต้นมะพร้าว 4 ต้น ฝ้ายปลูกต้นปาล์มกี่ต้น
ขั้นที่ 1 ฝ้ายปลูกต้นมะพร้าวกี่ต้น

กระดาษทด

ประโยคสัญลักษณ์ _____


ตอบ _____

ขั้นที่ 2 ฝ้ายปลูกต้นปาล์มกี่ต้น

กระดาษทด

ประโยคสัญลักษณ์ _____

ตอบ _____

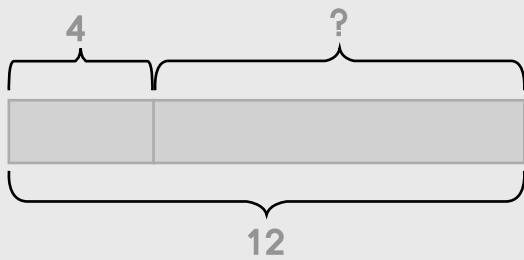




ตัวอย่าง

ลาวทองและวันทองมีของเล่นรวมกัน 12 ชิ้น ลาวทองมีของเล่น 4 ชิ้น
ลาวทองมีของเล่นน้อยกว่าวันทองกี่ชิ้น

ขั้นที่ 1 วันทองมีของเล่นกี่ชิ้น



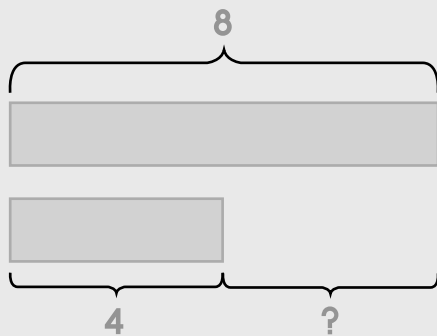
กระดาษทด

$$\begin{array}{r} 12 \\ - 4 \\ \hline 8 \end{array}$$

ประโยคสัญลักษณ์ $12 - 4 = \square$

ตอบ 8 ชิ้น

ขั้นที่ 2 ลาวทองมีของเล่นน้อยกว่าวันทองกี่ชิ้น



กระดาษทด

$$\begin{array}{r} 8 \\ - 4 \\ \hline 4 \end{array}$$

ประโยคสัญลักษณ์ $8 - 4 = \square$

ตอบ 4 ชิ้น

(14) ป้าวรรณและป้ารุจมีกระดาษทิชชูรวมกัน 17 ม้วน ป้ารุจมีกระดาษทิชชู 5 ม้วน ป้าวรรณมีกระดาษทิชชูมากกว่าป้ารุจกี่ม้วน

ขั้นที่ 1 ป้าวรรณมีทิชชูกี่ม้วน

กระดาษทิชชู

ประโยคสัญลักษณ์ _____

ตอบ _____

ขั้นที่ 2 ป้าวรรณมีกระดาษทิชชูมากกว่าป้ารุจกี่ม้วน

กระดาษทิชชู

ประโยคสัญลักษณ์ _____

ตอบ _____





(15) เฮียผาและธิดามีเงินรวมกัน 20 บาท ธิดามีเงิน 6 บาท ธิดามีเงินน้อยกว่าเฮียผากี่บาท

ขั้นที่ 1 เฮียผามีเงินกี่บาท

กระดาษทด

ประโยคสัญลักษณ์ _____

ตอบ _____

ขั้นที่ 2 ธิดามีเงินน้อยกว่าเฮียผากี่บาท

กระดาษทด

ประโยคสัญลักษณ์ _____

ตอบ _____

เขียนประโยคสัญลักษณ์ แสดงวิธีทำ และหาคำตอบให้ถูกต้อง

ตัวอย่าง

ในกล่องมีดินสอ 14 แท่ง ให้เพื่อนยืมไป 4 แท่ง เหลือดินสอในกล่องกี่แท่ง

ประโยคสัญลักษณ์ $14 - 4 = \square$

ในกล่องมีดินสอ	14	แท่ง
	-	
ให้เพื่อนยืมไป	4	แท่ง
เหลือดินสอในกล่อง	10	แท่ง

ตอบ 10 แท่ง

(1) เจไคมีคาบ 11 เล่ม โยคาหักคาบเจไคทิ้งไป 6 เล่ม เจไคเหลือคาบกี่เล่ม

ประโยคสัญลักษณ์ _____

เจไคมีคาบ		เล่ม
โยคาหักคาบเจไคทิ้งไป	_____	เล่ม
เจไคเหลือคาบ	_____	เล่ม

ตอบ _____



(2) เลอามีดอกไม้ 17 ดอก ดอกไม้เหี่ยวไป 14 ดอก เลอาเหลือดอกไม้ที่ดอก

ประโยคสัญลักษณ์ _____

เลอามีดอกไม้ ดอก

ดอกไม้เหี่ยวไป _____ ดอก

เลอาเหลือดอกไม้ _____ ดอก

ตอบ _____

(3) เตยมีดอกกุหลาบ 19 ดอก มีดอกกุหลาบมากกว่าดอกลิลลี่ 4 ดอก
เตยมีดอกลิลลี่กี่ดอก

ประโยคสัญลักษณ์ _____

เตยมีดอกกุหลาบ ดอก

มีดอกกุหลาบมากกว่าดอกลิลลี่ _____ ดอก

เตยมีดอกลิลลี่ _____ ดอก

ตอบ _____

(4) ในห้องมีเก้าอี้ 16 ตัว มีโต๊ะน้อยกว่าเก้าอี้ 12 ตัว ในห้องมีโต๊ะกี่ตัว

ประโยคสัญลักษณ์ _____

ในห้องมีเก้าอี้ ตัว

มีโต๊ะน้อยกว่าเก้าอี้ _____ ตัว

ในห้องมีโต๊ะ _____ ตัว

ตอบ _____

(5) ศาลมีลูกปิงปอง 15 ลูก ศาลมีลูกปิงปองมากกว่าป้อม 7 ลูก ป้อมมีลูกปิงปองมากกว่าตีว⁺ 3 ลูก ตีว⁺มีลูกปิงปองกี่ลูก

ขั้นที่ 1 ป้อมมีลูกปิงปองกี่ลูก

ประโยคสัญลักษณ์ _____

ศาลมีลูกปิงปอง _____ ลูก

ศาลมีลูกปิงปองมากกว่าป้อม _____ ลูก

ป้อมมีลูกปิงปอง _____ ลูก

ตอบ _____

ขั้นที่ 2 ตีว⁺มีลูกปิงปองกี่ลูก

ประโยคสัญลักษณ์ _____

ป้อมมีลูกปิงปอง _____ ลูก

ป้อมมีลูกปิงปองมากกว่าตีว⁺ _____ ลูก

ตีว⁺มีลูกปิงปอง _____ ลูก

ตอบ _____