

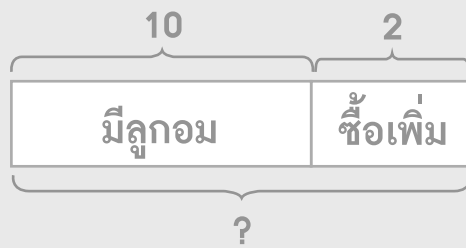


โจทย์ปัญหาการบวก

วาดรูป เขียนประโยคสัญลักษณ์ และหาคำตอบให้ถูกต้อง

ตัวอย่าง

ปลามีลูกอม 10 เม็ด ซื้อเพิ่มมาอีก 2 เม็ด ปลามีลูกอมรวมทั้งหมดกี่เม็ด



กระดาษทด	
1	0
	+
	2

1	2

ประโยคสัญลักษณ์ _____ $10 + 2 = \square$

ตอบ _____ 12 เม็ด

(1) แม่เลี้ยงเป็ด 13 ตัว เลี้ยงหมู 4 ตัว แม่เลี้ยงเป็ดและหมูรวมกันกี่ตัว


กระดาษทด	

ประโยคสัญลักษณ์ _____

ตอบ _____

(2) สวนสัตว์แห่งหนึ่งมีสิงโต 7 ตัว เสือ 5 ตัว สวนสัตว์แห่งนี้มีสิงโตและเสือรวมกันกี่ตัว

ประโยคสัญลักษณ์ _____



=====

ตอบ _____

(3) อาร์มมีลูกฟุตบอล 6 ลูก ไ้ตมี 9 ลูก ทั้งสองคนมีลูกฟุตบอลรวมกันกี่ลูก

ประโยคสัญลักษณ์ _____



=====

ตอบ _____



(4) ซาคิซายซื้อเค้ก 2 ชิ้น โคนัท 5 ชิ้น ลูกก็ 4 ชิ้น รวมซื้อขนมทั้งหมดกี่ชิ้น

ประโยคสัญลักษณ์ _____




=====

ตอบ _____

(5) แม่ค้าขายน้ำได้ 5 ขวด ต่อมาขายได้อีก 7 ขวด และ 8 ขวด แม่ค้าขายน้ำได้ทั้งหมดกี่ขวด

ประโยคสัญลักษณ์ _____



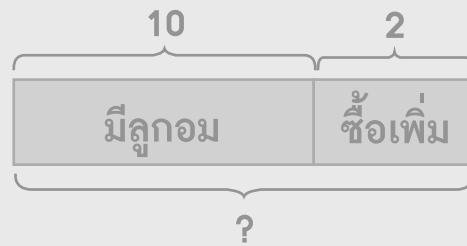
=====

ตอบ _____

วาดรูป เขียนประโยคสัญลักษณ์ และหาคำตอบให้ถูกต้อง

ตัวอย่าง

ปลามีลูกอม 10 เม็ด ซื้อเพิ่มมาอีก 2 เม็ด ปลามีลูกอมรวมทั้งหมดกี่เม็ด



กระดาษทด	
1	0
	+
	<u>2</u>
<u>1</u>	<u>2</u>

ประโยคสัญลักษณ์ _____ $10 + 2 = \square$ _____

ตอบ _____ 12 เม็ด _____

(1) แม่เลี้ยงเป็ด 13 ตัว เลี้ยงหมู 4 ตัว แม่เลี้ยงเป็ดและหมูรวมกันกี่ตัว

กระดาษทด	

ประโยคสัญลักษณ์ _____

ตอบ _____



(2) โหม่ซื้อแพนเค้ก 12 ชิ้น ซื้อพายไก่ 3 ชิ้น โหม่ซื้อแพนเค้กและพายไก่
รวมกันกี่ชิ้น

กระดาษทด

ประโยคสัญลักษณ์ _____

ตอบ _____

(3) พ่อเลี้ยงนก 14 ตัว ปู่ให้นกพ่อมาอีก 5 ตัว พ่อมีนกทั้งหมดกี่ตัว

กระดาษทด

ประโยคสัญลักษณ์ _____

ตอบ _____

(4) มีนชายไข่ไก่ 15 ฟอง ไข่เป็ด 5 ฟอง มีนชายไข่รวมทั้งหมดกี่ฟอง

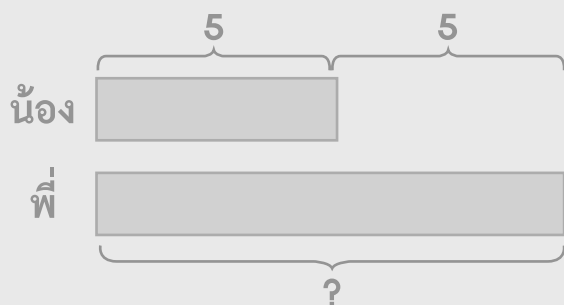
กระดาษทด

ประโยคสัญลักษณ์ _____

ตอบ _____

ตัวอย่าง

น้องมีขนม 5 ชิ้น พี่มีขนมมากกว่าน้อง 5 ชิ้น พี่มีขนมกี่ชิ้น



กระดาษทด

$$\begin{array}{r} 5 \\ + \\ \hline 5 \\ \hline 10 \end{array}$$

ประโยคสัญลักษณ์ _____ $5 + 5 = \square$

ตอบ _____ 10 ชิ้น

- (5) แดงปลูกต้นไม้ 4 ต้น เขียวปลูกต้นไม้มากกว่าแดง 9 ต้น เขียวปลูกต้นไม้กี่ต้น

กระดาษทด

ประโยคสัญลักษณ์ _____

ตอบ _____



(6) สุคามีขนม 7 ห่อ สุคามีขนมน้อยกว่ามานะ 8 ห่อ มานะมีขนมกี่ห่อ

กระดาษทด

ประโยคสัญลักษณ์ _____

ตอบ _____

(7) ฟ้าเลี้ยงแมว 9 ตัว มิวเลี้ยงแมวมากกว่าฟ้า 3 ตัว มิวเลี้ยงแมวกี่ตัว

กระดาษทด

ประโยคสัญลักษณ์ _____

ตอบ _____

(8) แหม่มมีปลา 12 ตัว แหม่มมีปลาน้อยกว่าก้อง 6 ตัว ก้องมีปลากี่ตัว

กระดาษทด

ประโยคสัญลักษณ์ _____

ตอบ _____

(9) อิงอ่านหนังสือได้ 14 หน้า เอิงอ่านได้มากกว่าอิง 2 หน้า เอิงอ่านหนังสือได้กี่หน้า

กระดาษทด

ประโยคสัญลักษณ์ _____

ตอบ _____

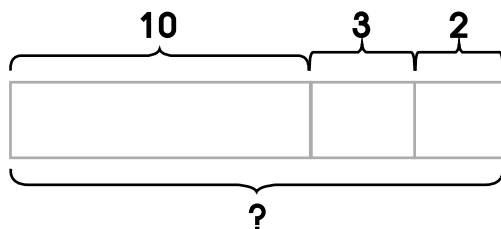
(10) วุ้นมีลูกโป่ง 10 ลูก วุ้นมีลูกโป่งน้อยกว่าวิน 10 ลูก วินมีลูกโป่งกี่ลูก

กระดาษทด

ประโยคสัญลักษณ์ _____

ตอบ _____

(11) แดงมีขนม 10 ห่อ ซื้อเพิ่มมาอีก 3 ห่อ เพื่อนให้มาอีก 2 ห่อ แดงมีขนมทั้งหมดกี่ห่อ



กระดาษทด

ประโยคสัญลักษณ์ _____

ตอบ _____



(12) ปลามีคินสอ 14 แห่ง มีปากกา 2 แห่ง มียางลบ 4 ก้อน ปลามีคินสอ ปากกา และยางลบรวมกันทั้งหมดเท่าไร

กระดาษทด

ประโยคสัญลักษณ์ _____

ตอบ _____

(13) เมย์มีดอกไม้ 13 ดอก มีดอกดาวเรือง 4 ดอก มีดอกกุหลาบ 1 ดอก เมย์มีดอกไม้ทั้งหมดกี่ดอก

กระดาษทด

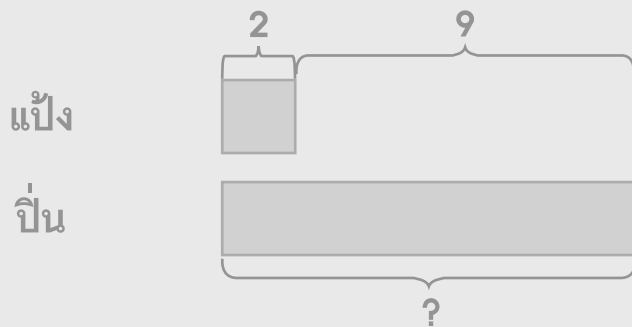
ประโยคสัญลักษณ์ _____

ตอบ _____

ตัวอย่าง

แป้งอ่านหนังสือได้ 2 หน้า ปิ่นอ่านหนังสือได้มากกว่าแป้ง 9 หน้า
แป้งและปิ่นอ่านหนังสือรวมกันได้กี่หน้า

ขั้นที่ 1 ปิ่นอ่านหนังสือได้กี่หน้า



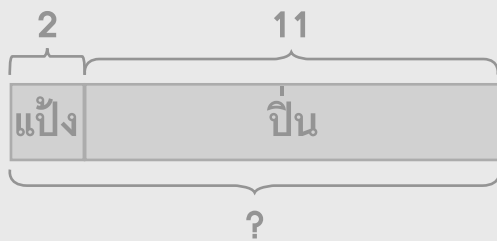
กระดาษทด

$$\begin{array}{r} 2 \\ + \\ \hline 9 \\ \hline 1 \quad 1 \end{array}$$

ประโยคสัญลักษณ์ $2 + 9 = \square$

ตอบ 11 หน้า

ขั้นที่ 2 แป้งและปิ่นอ่านหนังสือรวมกันได้กี่หน้า



กระดาษทด

$$\begin{array}{r} 2 \\ + \\ \hline 1 \quad 1 \\ \hline 1 \quad 3 \end{array}$$

ประโยคสัญลักษณ์ $2 + 11 = \square$

ตอบ 13 หน้า



(14) ปูชี้พร้อมสีคำ 5 คัน ชี้อพร้อมสีแดงมากกว่าสีคำ 7 คัน ปูชี้พร้อมสีคำและพร้อมสีแดงรวมกันกี่คัน

ขั้นที่ 1 ปูชี้พร้อมสีแดงกี่คัน

กระดาษทด

ประโยคสัญลักษณ์ _____

ปูชี้พร้อมสีแดง _____ คัน

ขั้นที่ 2 ปูชี้พร้อมสีคำและพร้อมสีแดงรวมกันกี่คัน

กระดาษทด

ประโยคสัญลักษณ์ _____

ปูชี้พร้อมสีคำและสีแดงรวมกัน _____ คัน

(15) แก้วเลี้ยงปลาทอง 4 ตัว เลี้ยงปลาหางนกยูงมากกว่าปลาทอง 3 ตัว
แก้วเลี้ยงปลาทองและปลาหางนกยูงรวมกันกี่ตัว

ขั้นที่ 1 แก้วเลี้ยงปลาหางนกยูงกี่ตัว

กระดาษทด

ประโยคสัญลักษณ์ _____

แก้วเลี้ยงปลาหางนกยูง _____ ตัว

ขั้นที่ 2 แก้วเลี้ยงปลาทองและปลาหางนกยูงรวมกันกี่ตัว

กระดาษทด

ประโยคสัญลักษณ์ _____

แก้วเลี้ยงปลาทองและปลาหางนกยูงรวมกัน _____ ตัว

เขียนประโยคสัญลักษณ์และแสดงวิธีทำให้ถูกต้อง

ตัวอย่าง

แม่มีเสื้อ 10 ตัว มีกระโปรง 3 ตัว แม่มีเสื้อและกระโปรงรวมกันกี่ตัว

ประโยคสัญลักษณ์ $10 + 3 = \square$

แม่มีเสื้อ	1	0	ตัว
		+	
มีกระโปรง		3	ตัว
	<hr/>		
แม่มีเสื้อและกระโปรงรวมกัน	1	3	ตัว
	<hr/> <hr/>		

ตอบ 13 ตัว

(1) ไบทองมีเพื่อนผู้หญิง 8 คน มีเพื่อนผู้ชาย 7 คน ไบทองมีเพื่อนทั้งหมดกี่คน

ประโยคสัญลักษณ์ _____

ไบทองมีเพื่อนผู้หญิง _____ คน

มีเพื่อนผู้ชาย _____ คน

ไบทองมีเพื่อนทั้งหมด _____ คน

ตอบ _____

(2) ชะเอมมีมะม่วง 7 ผล และมีส้ม 5 ผล ชะเอมมีผลไม้ทั้งหมดกี่ผล

ประโยคสัญลักษณ์ _____

ชะเอมมีมะม่วง ผล

มีส้ม _____ ผล

ชะเอมมีผลไม้ทั้งหมด ===== ผล

ตอบ _____

(3) พอใจมีขนมในจาน 13 ชิ้น ในกล่อง 4 ชิ้น พอใจมีขนมทั้งหมดกี่ชิ้น

ประโยคสัญลักษณ์ _____

พอใจมีขนมในจาน ชิ้น

ในกล่อง _____ ชิ้น

พอใจมีขนมทั้งหมด ===== ชิ้น

ตอบ _____

(4) แอนมีคินสอ 9 แท่ง บুমมีคินสอมากกว่าแอน 9 แท่ง บুমมีคินสอกี่แท่ง

ประโยคสัญลักษณ์ _____

แอนมีคินสอ แท่ง

บুমมีคินสอมากกว่าแอน _____ แท่ง

บুমมีคินสอ ===== แท่ง

ตอบ _____

ตัวอย่าง

แม่รีขายน้ำอุ่นได้ 2 แก้ว ขายน้ำส้มได้มากกว่าน้ำอุ่น 8 แก้ว แม่รีขายน้ำ
ได้ทั้งหมดกี่แก้ว

ขั้นที่ 1 แม่รีขายน้ำส้มได้กี่แก้ว

ประโยคสัญลักษณ์ $2 + 8 = \square$

แม่รีขายน้ำอุ่นได้	2	แก้ว
	+	
ขายน้ำส้มได้มากกว่าน้ำอุ่น	<u>8</u>	แก้ว
แม่รีขายน้ำส้มได้	<u>10</u>	แก้ว

ตอบ 10 แก้ว

ขั้นที่ 2 แม่รีขายน้ำได้ทั้งหมดกี่แก้ว

ประโยคสัญลักษณ์ $2 + 10 = \square$

แม่รีขายน้ำอุ่นได้	2	แก้ว
	+	
แม่รีขายน้ำส้มได้	<u>10</u>	แก้ว
แม่รีขายน้ำได้ทั้งหมด	<u>12</u>	แก้ว

ตอบ 12 แก้ว

(5) แม่ค้าขายไข่เป็ด 6 ฟอง ขายไข่ไก่มากกว่าไข่เป็ด 5 ฟอง แม่ค้าขายไข่เป็ด และไข่ไก่รวมกันกี่ฟอง

ขั้นที่ 1 แม่ค้าขายไข่ไก่กี่ฟอง

ประโยคสัญลักษณ์ _____

แม่ม้าขายไข่เป็ด ฟอง

ขายไข่ไก่มากกว่าไข่เป็ด _____ ฟอง

แม่ม้าขายไข่ไก่ ===== ฟอง

ตอบ _____

ขั้นที่ 2 แม่ม้าขายไข่เป็ดและไข่ไก่รวมกันกี่ฟอง

ประโยคสัญลักษณ์ _____

แม่ม้าขายไข่เป็ด ฟอง

แม่ม้าขายไข่ไก่ _____ ฟอง

แม่ม้าขายไข่เป็ดและไข่ไก่รวมกัน ===== ฟอง

ตอบ _____