

8

การบวก (ผลบวกไม่เกิน 20) (ตอนที่ 2)

8.1 การบวกด้วยคำว่า "ผลรวม" และ "เพิ่ม"

วงล้อมรอบกลุ่มที่มีจำนวนเท่ากับ 10 และหาผลรวมโดยเติมตัวเลขลงในช่องว่างให้ถูกต้อง

ตัวอย่าง

ผลรวมของ 9 และ 4 คือเท่าไร




$$9 + 4 = \boxed{13}$$

(1) ผลรวมของ 7 และ 5 คือเท่าไร



$$7 + 5 = \boxed{}$$

(2) ผลรวมของ 6 และ 8 คือเท่าไร



$$6 + 8 = \boxed{}$$




(3) ผลรวมของ 8 และ 3 คือเท่าไร



8 + 3 =

(4) ผลรวมของ 9 และ 6 คือเท่าไร



9 + 6 =

(5) ผลรวมของ 8 และ 5 คือเท่าไร



8 + 5 =

(6) ผลรวมของ 9 และ 8 คือเท่าไร




9 + 8 =

(7) ผลรวมของ 6 และ 6 คือเท่าไร




$$6 + 6 = \square$$

(8) ผลรวมของ 7 และ 7 คือเท่าไร



$$7 + 7 = \square$$

(9) ผลรวมของ 8 และ 8 คือเท่าไร



$$8 + 8 = \square$$

(10) ผลรวมของ 9 และ 9 คือเท่าไร



$$9 + 9 = \square$$


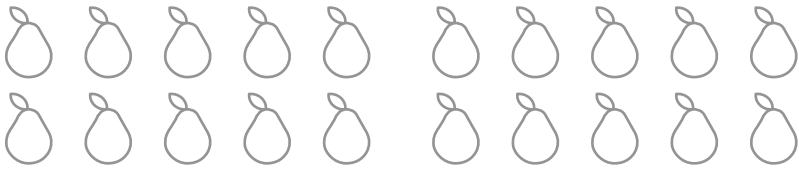
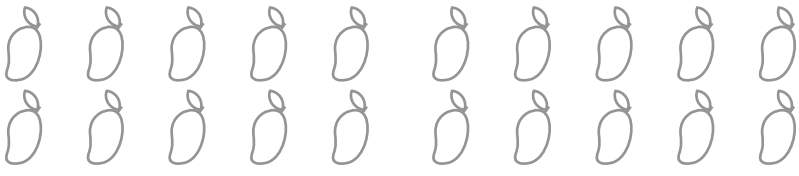




ระบายสีรูปภาพให้เท่ากับผลบวกตามที่โจทย์กำหนดให้

ตัวอย่าง

10 เพิ่ม 5	
------------	--

(1)	18 เพิ่ม 1	
(2)	12 เพิ่ม 4	
(3)	15 เพิ่ม 3	
(4)	13 เพิ่ม 4	

(5)	18 เพิ่ม 2	
(6)	14 เพิ่ม 5	
(7)	13 เพิ่ม 3	
(8)	11 เพิ่ม 4	
(9)	12 เพิ่ม 6	
(10)	10 เพิ่ม 10	