



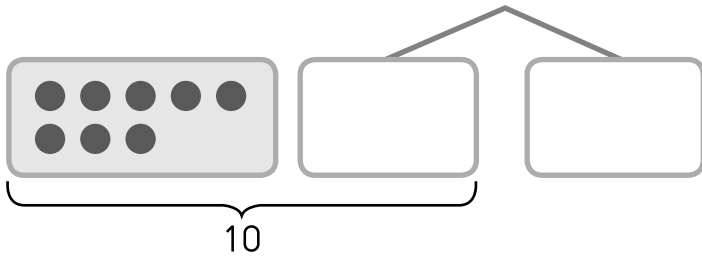
7.2 การบวกโดยใช้ Number Bonds

วาดรูปและเติมคำตอบลงในช่องว่างให้ถูกต้อง

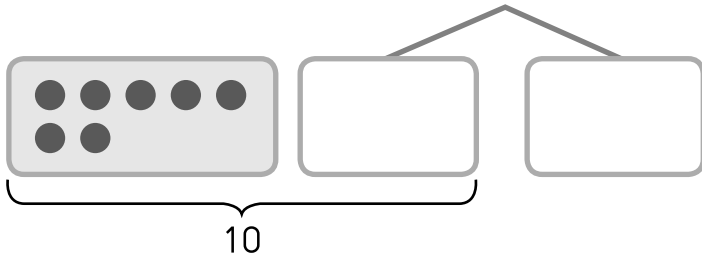
ตัวอย่าง

$$9 + 6 = 15$$

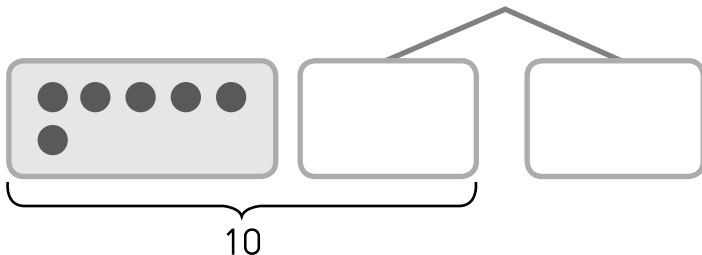
(1) $8 + 5 =$



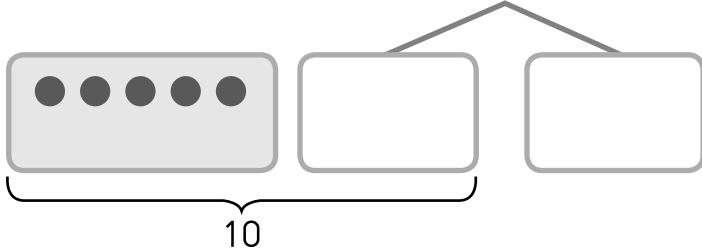
(2) $7 + 7 =$



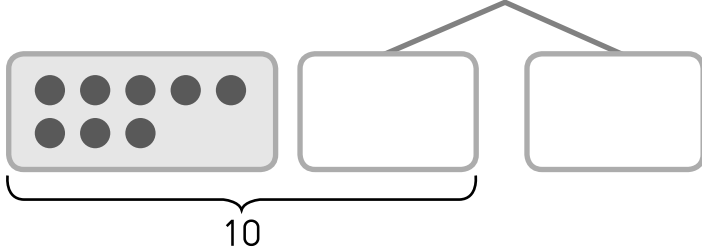
(3) $6 + 5 =$



(4) 5 + 7 =

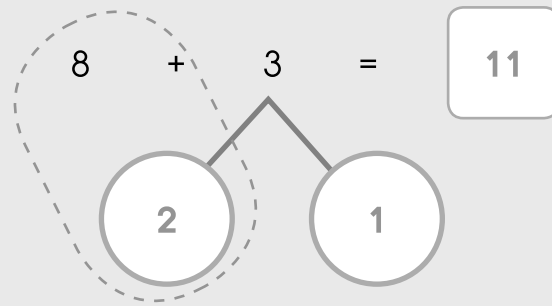


(5) 8 + 9 =

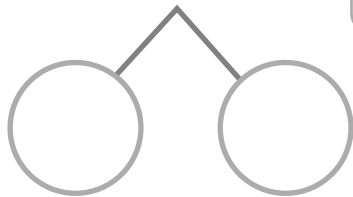


เติมคำตอบลงในช่องว่างให้ถูกต้อง

ตัวอย่าง



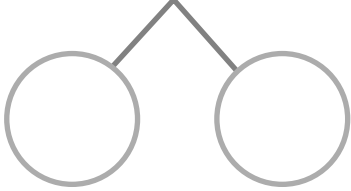
(1) 7 + 6 =





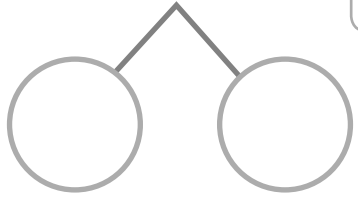
(2)

$6 + 9 =$



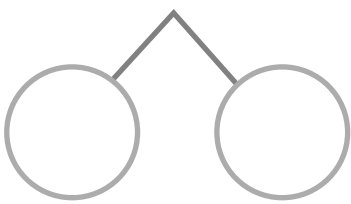
(3)

$9 + 9 =$



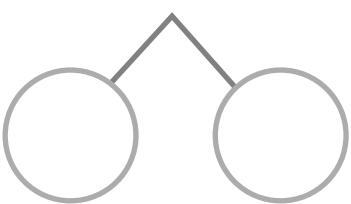
(4)

$6 + 8 =$



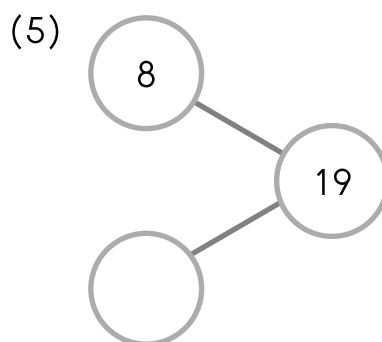
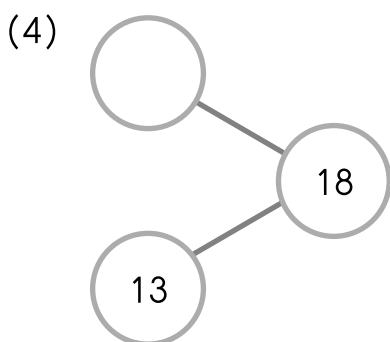
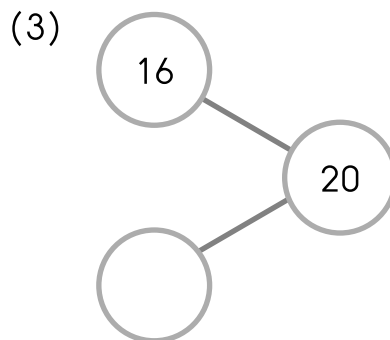
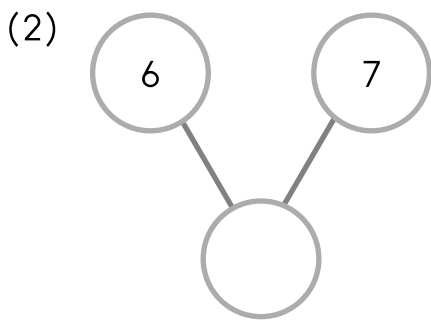
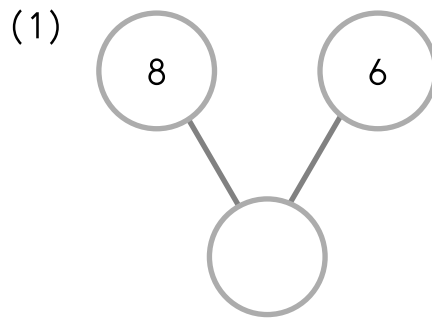
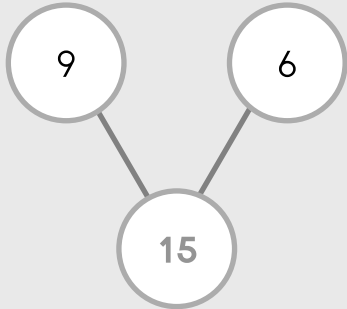
(5)

$12 + 5 =$



เติมคำตอบลงในช่องว่างให้ถูกต้อง


ตัวอย่าง





เติมคำตอบลงในช่องว่างให้ถูกต้องโดยใช้วิธีจับกลุ่มให้ครบ 10 ก่อน

ตัวอย่าง



(1) $9 + 8 + 1 = \square$

(2) $6 + 2 + 8 = \square$

(3) $5 + 5 + 9 = \square$

(4) $4 + 6 + 4 = \square$

(5) $7 + 3 + 6 = \square$