

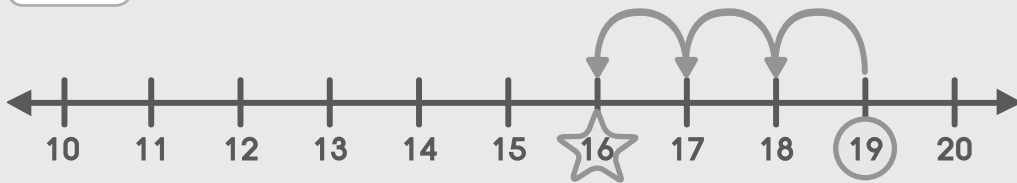


### 6.3 การเปรียบเทียบด้วยคำว่า "น้อยกว่า"

เติมคำตอบลงในช่องว่างให้ถูกต้องโดยใช้เส้นจำนวน

ตัวอย่าง

น้อยกว่า 19 อยู่ 3



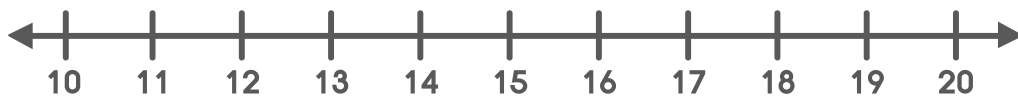
(1)  น้อยกว่า 15 อยู่ 5



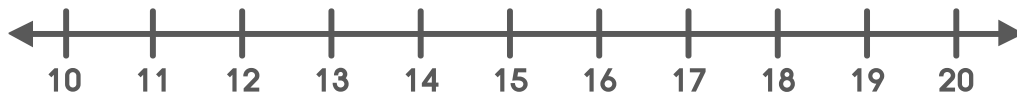
(2)  น้อยกว่า 16 อยู่ 4



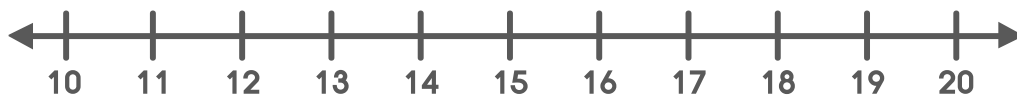
(3)  น้อยกว่า 14 อยู่ 3



(4)  น้อยกว่า 18 อยู่ 5



(5)  น้อยกว่า 19 อยู่ 6



(6) 17 น้อยกว่า  อยู่ 3



(7) 12 น้อยกว่า  อยู่ 7

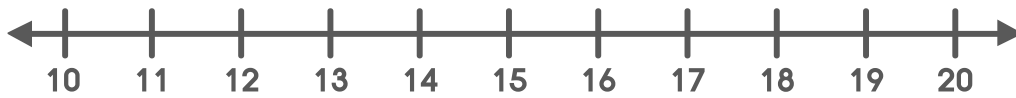


(8) 13 น้อยกว่า  อยู่ 4





(9) 15 น้อยกว่า  อยู่ 3



(10) 16 น้อยกว่า  อยู่ 4



(11) 11 น้อยกว่า 16 อยู่



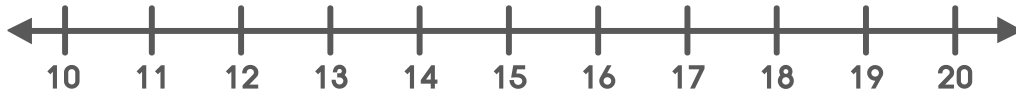
(12) 13 น้อยกว่า 17 อยู่



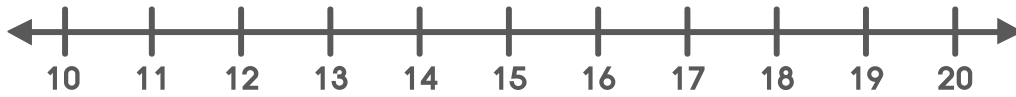
(13) 15 น้อยกว่า 18 อยู่



(14) 16 น้อยกว่า 19 อยู่




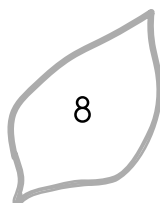


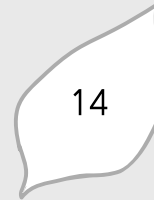
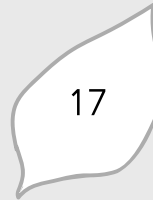
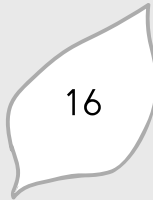


(15) 17 น้อยกว่า 20 อยู่


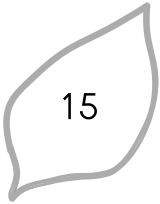





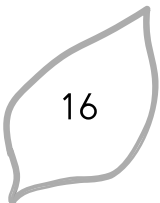



ระบายสีจำนวนที่มีค่าน้อยกว่าจำนวนค้ำซ่ายอยู่ 2

ตัวอย่าง





(3)     

(4)     

(5)  