



6.2 การเปรียบเทียบด้วยคำว่า "มากกว่า"

เติมคำตอบลงในช่องว่างให้ถูกต้องโดยใช้เส้นจำนวน

ตัวอย่าง

มากกว่า 11 อยู่ 5

(1) มากกว่า 17 อยู่ 2



(2) มากกว่า 11 อยู่ 3

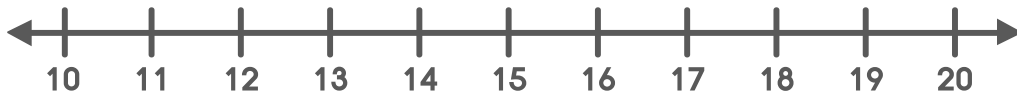


(3) มากกว่า 15 อยู่ 3





(4) มากกว่า 14 อยู่ 6



(5) มากกว่า 12 อยู่ 3



(6) 16 มากกว่า อยู่ 3



(7) 17 มากกว่า อยู่ 5



(8) 15 มากกว่า อยู่ 4



(9) 18 มากกว่า อยู่ 4



(10) 20 มากกว่า อยู่ 2



(11) 20 มากกว่า 14 อยู่



(12) 14 มากกว่า 10 อยู่



(13) 19 มากกว่า 16 อยู่





(14) 12 มากกว่า 11 อยู่




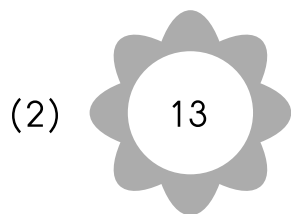

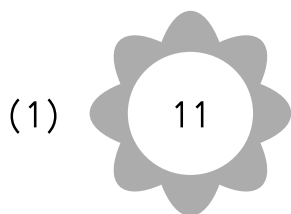


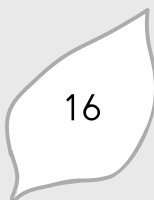








(15) 17 มากกว่า 13 อยู่








ระบายสีจำนวนที่มีค่ามากกว่าจำนวนด้านซ้ายอยู่ 3

ตัวอย่าง



(3)     

(4)     

(5) 