

6

จำนวนนับ 11-20 (ตอนที่ 2)

6.1 การเรียงลำดับจำนวน

เรียงลำดับจำนวนจากน้อยที่สุดไปมากที่สุด

ตัวอย่าง

13 12 15 14



ตอบ 12, 13, 14, 15

(1) 17 11 14 15



ตอบ _____

(2) 14 18 12 19



ตอบ _____

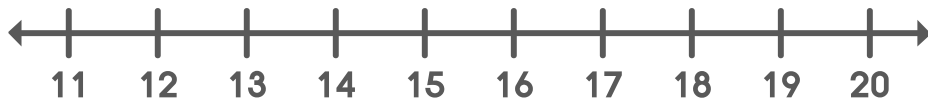
(3) 15 13 17 12



ตอบ _____



(4) 15 11 16 18 17



ตอบ _____

(5) 13 16 14 19 11

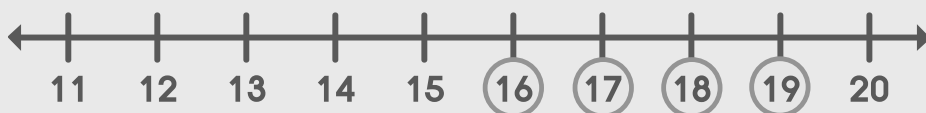


ตอบ _____

เรียงลำดับจำนวนจากมากที่สุดไปน้อยที่สุด

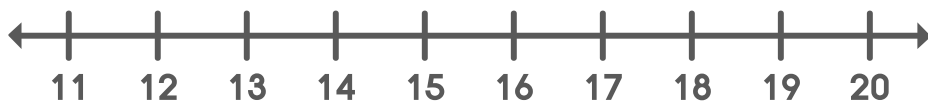
ตัวอย่าง

17 19 16 18



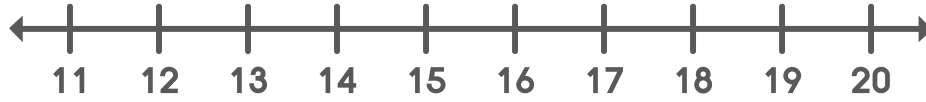
ตอบ _____ 19, 18, 17, 16

(1) 14 12 11 18



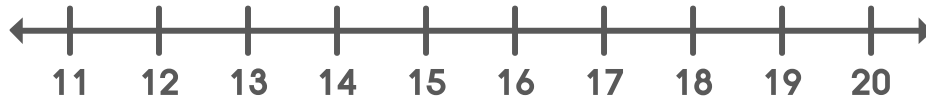
ตอบ _____

(2) 15 19 18 13



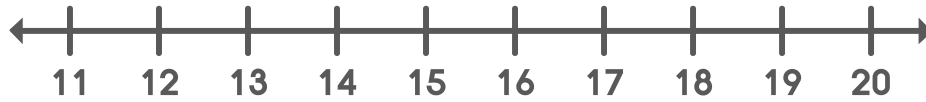
ตอบ _____

(3) 17 14 16 12



ตอบ _____

(4) 16 11 13 18 20



ตอบ _____

(5) 14 12 15 17 19

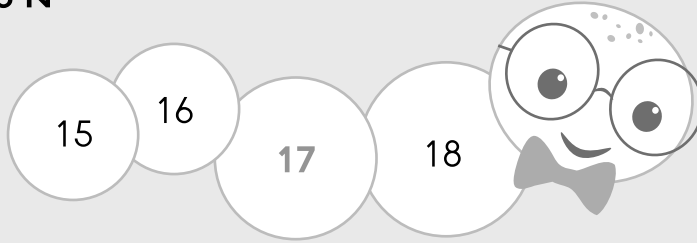


ตอบ _____

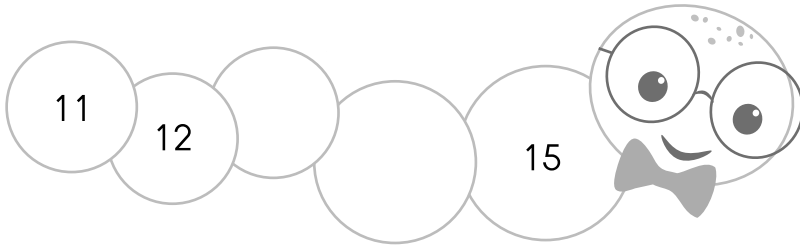


เติมตัวเลขที่หายไปลงในช่องว่างให้ถูกต้อง

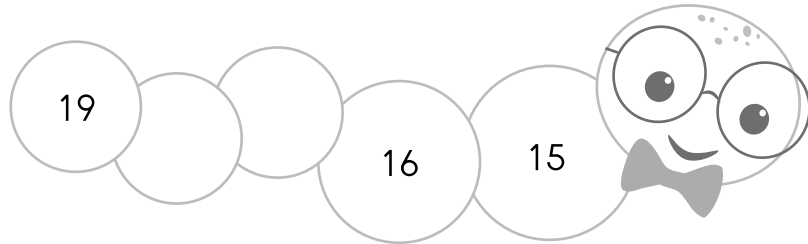
ตัวอย่าง



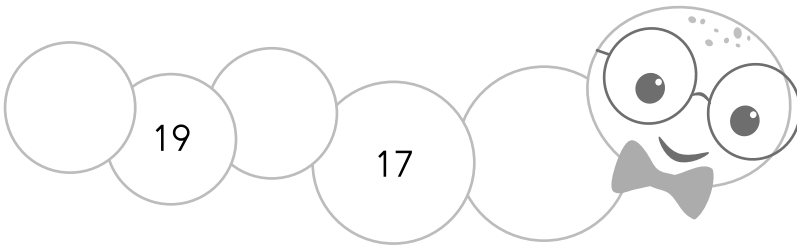
(1)



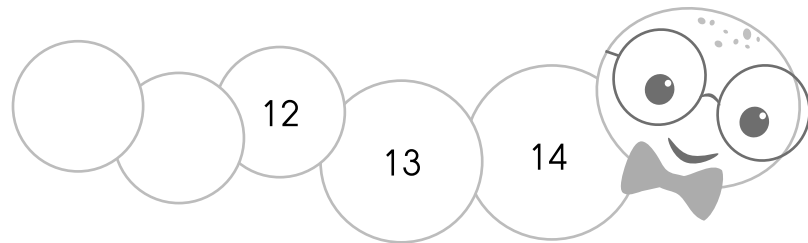
(2)



(3)



(4)



(5)

