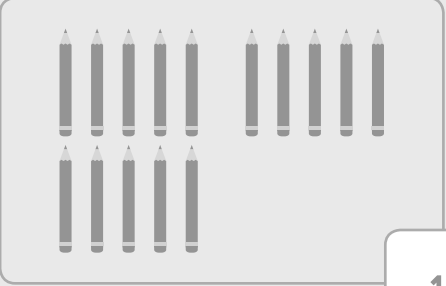







5.2 การเปรียบเทียบจำนวน

เขียนตัวเลขแสดงจำนวนและเปรียบเทียบโดยการเติม $>$, $<$
หรือ $=$ ลงในช่องว่างให้ถูกต้อง

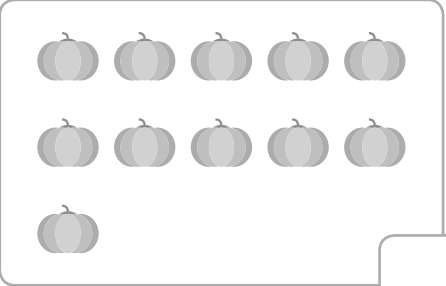
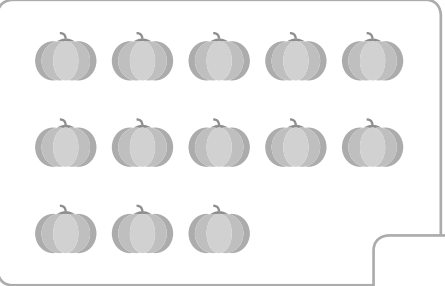
ตัวอย่าง

	<div style="border: 1px solid black; padding: 5px; width: 30px; height: 30px; display: flex; align-items: center; justify-content: center;"> $>$ </div>	
<div style="border: 1px solid black; padding: 5px; width: 40px; height: 40px; display: flex; align-items: center; justify-content: center;"> 15 </div>		<div style="border: 1px solid black; padding: 5px; width: 40px; height: 40px; display: flex; align-items: center; justify-content: center;"> 14 </div>

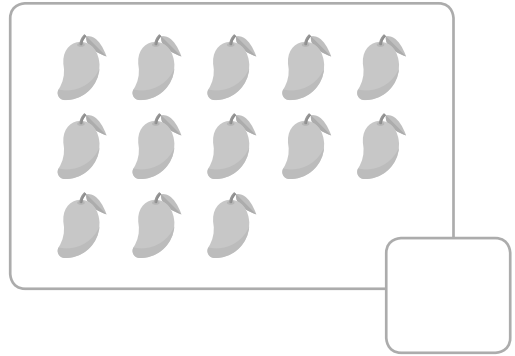
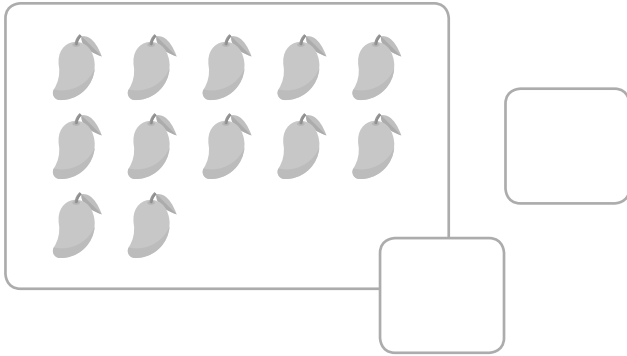
(1)

	<div style="border: 1px solid black; width: 30px; height: 30px; margin: 0 auto;"></div>	
<div style="border: 1px solid black; width: 40px; height: 40px; margin: 0 auto;"></div>		<div style="border: 1px solid black; width: 40px; height: 40px; margin: 0 auto;"></div>


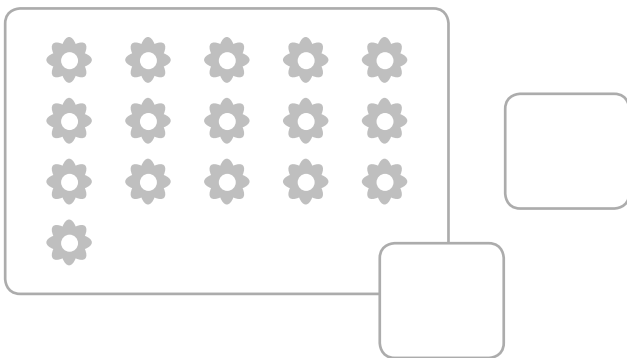
(2)

	<div style="border: 1px solid black; width: 30px; height: 30px; margin: 0 auto;"></div>	
<div style="border: 1px solid black; width: 40px; height: 40px; margin: 0 auto;"></div>		<div style="border: 1px solid black; width: 40px; height: 40px; margin: 0 auto;"></div>

(3)



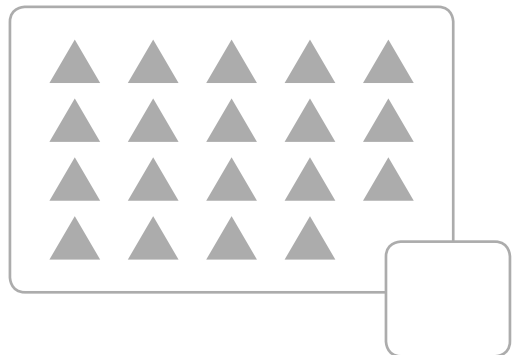
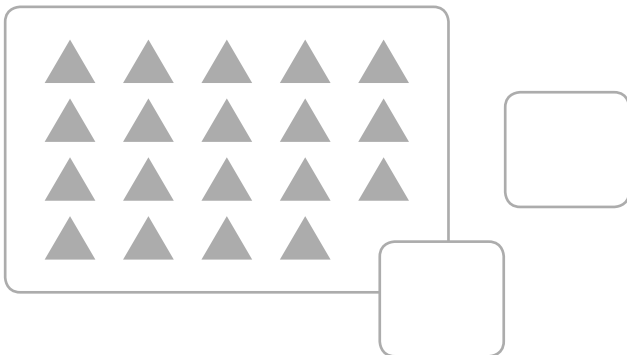
(4)



(5)





(6)






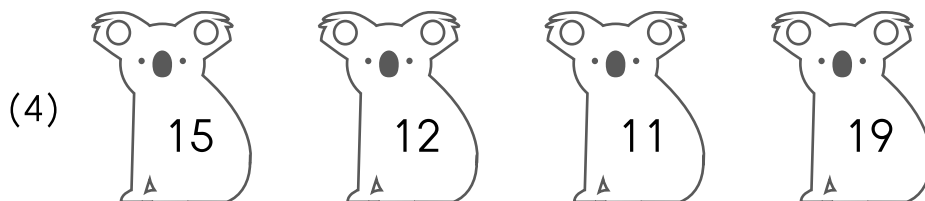


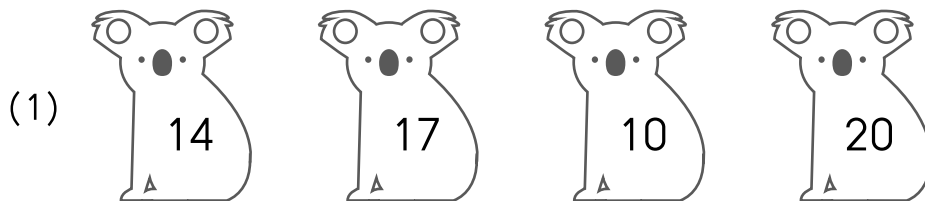
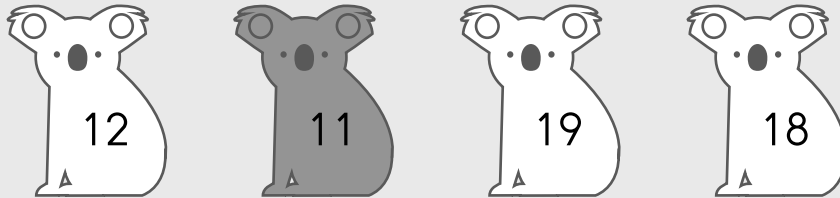
ระบายสีตัวเลขที่มีค่ามากที่สุด

ตัวอย่าง



ระบายสีตัวเลขที่มีค่าน้อยที่สุด

ตัวอย่าง





เติมคำตอบลงในช่องว่างให้ถูกต้อง

ตัวอย่าง

จำนวนใดบ้างที่น้อยกว่า 19 แต่มากกว่า 15

ตอบ _____ 16, 17, 18 _____

(1) จำนวนใดบ้างที่น้อยกว่า 16 แต่มากกว่า 9

ตอบ _____

(2) จำนวนใดบ้างน้อยกว่า 18 แต่มากกว่า 12

ตอบ _____

(3) จำนวนใดบ้างที่มากกว่า 14 แต่น้อยกว่า 20

ตอบ _____

(4) จำนวนใดบ้างที่มากกว่า 11 แต่น้อยกว่า 18

ตอบ _____