

## 4.4 โจทย์ปัญหาการลบ

เขียนประโยคสัญลักษณ์และหาคำตอบให้ถูกต้อง

**ตัวอย่าง**

หนูคีมีส้มอยู่ 5 ผล กินไป 2 ผล หนูคีเหลือส้มกี่ผล

ประโยคสัญลักษณ์  $5 - 2 = \square$




$$\begin{array}{r} 5 \\ - 2 \\ \hline 3 \end{array}$$

ตอบ 3 ผล

(1) หนูนามีดอกไม้ 6 ดอก ขายไป 4 ดอก หนูนาคือเหลือดอกไม้กี่ดอก

ประโยคสัญลักษณ์ \_\_\_\_\_



$$\begin{array}{r} \_\_\_\_\_\_ \\ - \_\_\_\_\_\_ \\ \hline \_\_\_\_\_\_ \end{array}$$

ตอบ \_\_\_\_\_

(2) หนูนิคมีเงิน 9 บาท ซื้อขนมไป 2 บาท หนูนิคเหลือเงินกี่บาท

ประโยคสัญลักษณ์ \_\_\_\_\_




$$\begin{array}{r} \_\_\_\_\_\_ \\ - \_\_\_\_\_\_ \\ \hline \_\_\_\_\_\_ \end{array}$$

ตอบ \_\_\_\_\_



(3) มีหนู 7 ตัว โคนแมวจับไป 2 ตัว เหลือหนูกี่ตัว

ประโยคสัญลักษณ์ \_\_\_\_\_

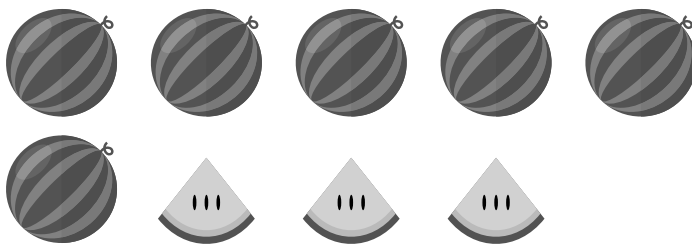


\_\_\_\_\_  
=====

ตอบ \_\_\_\_\_

(4) พ่อค้ามีแตงโม 9 ลูก กินไป 3 ลูก พ่อค้าเหลือแตงโมกี่ลูก

ประโยคสัญลักษณ์ \_\_\_\_\_




\_\_\_\_\_  
=====

ตอบ \_\_\_\_\_

(5) ลุลาอ่านหนังสือภาษาไทยได้ 10 หน้า อ่านหนังสือภาษาอังกฤษได้ 6 หน้า  
ลุลาอ่านหนังสือภาษาไทยได้มากกว่าหนังสือภาษาอังกฤษกี่หน้า

ประโยคสัญลักษณ์ \_\_\_\_\_



\_\_\_\_\_  
=====

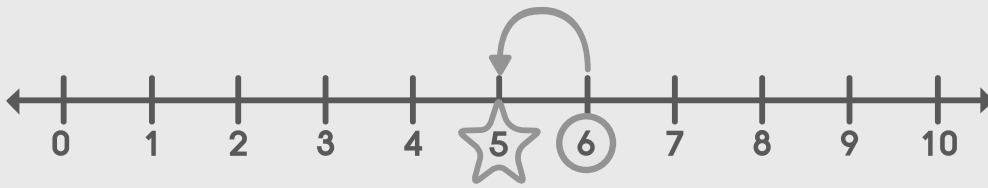
ตอบ \_\_\_\_\_

## เขียนประโยคสัญลักษณ์และหาคำตอบให้ถูกต้อง

### ตัวอย่าง

ในห้องเรียนมีนักเรียน 6 คน ลาป่วย 1 คน เหลือนักเรียนในห้องกี่คน

ประโยคสัญลักษณ์  $6 - 1 = \square$



ตอบ 5 คน

(1) สมทรงมีถุงเท้า 5 คู่ ใส่ไปแล้ว 4 คู่ สมทรงเหลือถุงเท้ากี่คู่

ประโยคสัญลักษณ์ \_\_\_\_\_



ตอบ \_\_\_\_\_

(2) มีหนังสือการ์ตูน 9 เล่ม อ่านไปแล้ว 2 เล่ม เหลือหนังสือการ์ตูนที่ยังไม่ได้อ่านกี่เล่ม

ประโยคสัญลักษณ์ \_\_\_\_\_



ตอบ \_\_\_\_\_



(3) แวนโก๊ะวาดรูปไว้ 8 ภาพ ข่ายรูปวาดไป 5 ภาพ แวนโก๊ะเหลือรูปวาดกี่ภาพ  
 ประโยคสัญลักษณ์ \_\_\_\_\_



ตอบ \_\_\_\_\_

(4) มีลูกโป่งสีม่วง 4 ลูก ลูกโป่งสีเขียว 2 ลูก มีลูกโป่งสีม่วงมากกว่าสีเขียวกี่ลูก  
 ประโยคสัญลักษณ์ \_\_\_\_\_



ตอบ \_\_\_\_\_

(5) มีเด็กผู้หญิง 3 คน มีเด็กผู้ชาย 7 คน มีเด็กผู้หญิงน้อยกว่าเด็กผู้ชายกี่คน  
 ประโยคสัญลักษณ์ \_\_\_\_\_



ตอบ \_\_\_\_\_

(6) มีไข่ไก่ 9 ฟอง มีไข่ไก่มากกว่าไข่เป็ด 3 ฟอง มีไข่เป็ดกี่ฟอง

ประโยคสัญลักษณ์ \_\_\_\_\_



ตอบ \_\_\_\_\_

(7) มีกระเป๋าสีดำ 10 ใบ กระเป๋าสีขาวน้อยกว่ากระเป๋าสีดำ 2 ใบ  
มีกระเป๋าสีขาวกี่ใบ

ประโยคสัญลักษณ์ \_\_\_\_\_



ตอบ \_\_\_\_\_

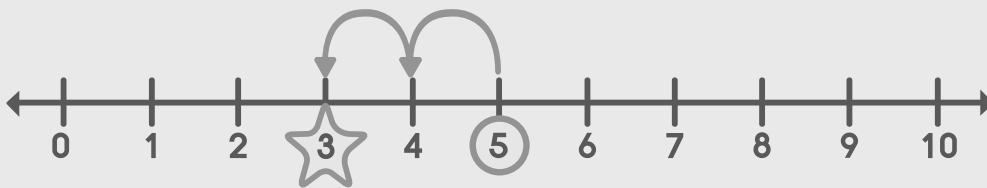


### ตัวอย่าง

มีต้นชบาและต้นมะลิรวม 5 ต้น เป็นต้นมะลิ 2 ต้น มีต้นชบามากกว่าต้นมะลิกี่ต้น

ขั้นที่ 1 มีต้นชบาก็ต้น

ประโยคสัญลักษณ์ \_\_\_\_\_  $5 - 2 = \square$  \_\_\_\_\_



ตอบ \_\_\_\_\_ 3 ต้น \_\_\_\_\_

ขั้นที่ 2 มีต้นชบามากกว่าต้นมะลิกี่ต้น

ประโยคสัญลักษณ์ \_\_\_\_\_  $3 - 2 = \square$  \_\_\_\_\_



ตอบ \_\_\_\_\_ 1 ต้น \_\_\_\_\_

(8) ปูเป็ขายข้าวได้ 9 กระสอบ ขายข้าวหอมมะลิได้ 1 กระสอบ ขายข้าวกล้องได้มากกว่าข้าวหอมมะลิกี่กระสอบ

ขั้นที่ 1 ปูเป็ขายข้าวกล้องได้กี่กระสอบ

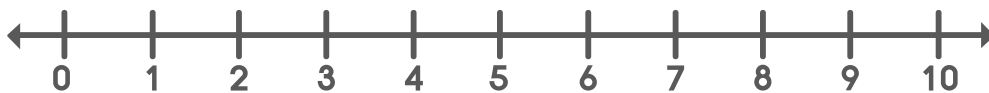
ประโยคสัญลักษณ์ \_\_\_\_\_



ตอบ \_\_\_\_\_

ขั้นที่ 2 ปูเป็ขายข้าวกล้องได้มากกว่าข้าวหอมมะลิกี่กระสอบ

ประโยคสัญลักษณ์ \_\_\_\_\_



ตอบ \_\_\_\_\_



(9) แม่และพ่อทำงานรวมกันได้ 8 ชั่วโมง พ่อทำงานได้ 2 ชั่วโมง แม่ทำงานได้มากกว่าพ่อกี่ชั่วโมง

ขั้นที่ 1 แม่ทำงานได้กี่ชั่วโมง

ประโยคสัญลักษณ์ \_\_\_\_\_



ตอบ \_\_\_\_\_

ขั้นที่ 2 แม่ทำงานได้มากกว่าพ่อกี่ชั่วโมง

ประโยคสัญลักษณ์ \_\_\_\_\_



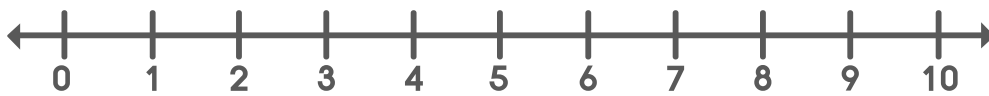
ตอบ \_\_\_\_\_



(10) หนุ่หึนมีไม้กวาดและไม้ถูพื้นรวมกัน 10 อัน มีไม้กวาด 4 อัน มีไม้กวาดน้อยกว่าไม้ถูพื้นกี่อัน

ขั้นที่ 1 มีไม้ถูพื้นกี่อัน

ประโยคสัญลักษณ์ \_\_\_\_\_



ตอบ \_\_\_\_\_

ขั้นที่ 2 มีไม้กวาดน้อยกว่าไม้ถูพื้นกี่อัน

ประโยคสัญลักษณ์ \_\_\_\_\_



ตอบ \_\_\_\_\_

## เขียนประโยคสัญลักษณ์ แสดงวิธีทำ และหาคำตอบให้ถูกต้อง

### ตัวอย่าง

หนูคีมีคินสอ 5 แท่ง ให้น้องยิ้มไป 4 แท่ง หนูคีเหลือคินสอกี่แท่ง

ประโยคสัญลักษณ์  $5 - 4 = \square$

หนูคีมีคินสอ 5 แท่ง

ให้น้องยิ้มไป 4 แท่ง

หนูคีเหลือคินสอ 1 แท่ง

ตอบ 1 แท่ง

- (1) แม่เลี้ยงปลา 9 ตัว ตายไป 5 ตัว เหลือปลากี่ตัว

ประโยคสัญลักษณ์ \_\_\_\_\_

แม่เลี้ยงปลา \_\_\_\_\_ ตัว

ตายไป \_\_\_\_\_ ตัว

เหลือปลา            ตัว

ตอบ \_\_\_\_\_

- (2) มีนกเกาะบนกิ่งไม้ 7 ตัว บินหนีไป 4 ตัว เหลือนกกี่ตัว

ประโยคสัญลักษณ์ \_\_\_\_\_

มีนกเกาะบนกิ่งไม้ \_\_\_\_\_ ตัว

บินหนีไป \_\_\_\_\_ ตัว

เหลือนก            ตัว

ตอบ \_\_\_\_\_

(3) พ่อใจมีเงิน 8 บาท ชื้อน้ำไป 3 บาท พ่อใจเหลือเงินกี่บาท

**ประโยคสัญลักษณ์** \_\_\_\_\_

พ่อใจมีเงิน \_\_\_\_\_ บาท

ชื้อน้ำไป \_\_\_\_\_ บาท

พ่อใจเหลือเงิน \_\_\_\_\_ บาท

**ตอบ** \_\_\_\_\_

(4) ใจปลุกต้นหอม 9 ต้น ปลุกผักชี 7 ต้น ใจปลุกต้นหอมมากกว่าผักชีกี่ต้น

**ประโยคสัญลักษณ์** \_\_\_\_\_

ใจปลุกต้นหอม \_\_\_\_\_ ต้น

ปลุกผักชี \_\_\_\_\_ ต้น

ใจปลุกต้นหอมมากกว่าผักชี \_\_\_\_\_ ต้น

**ตอบ** \_\_\_\_\_



(5) นายทองดีขายหมูปิ้งและไก่ย่างรวมกัน 7 ไม้ ขายหมูปิ้งได้ 2 ไม้  
ขายไก่ย่างได้มากกว่าหมูปิ้งก็ไม้

**ขั้นที่ 1** นายทองดีขายไก่ย่างได้กี่ไม้

**ประโยคสัญลักษณ์** \_\_\_\_\_

นายทองดีขายหมูปิ้งและไก่ย่างรวมกันได้	ไม้
ขายหมูปิ้งได้	_____ ไม้
นายทองดีขายไก่ย่างได้	===== ไม้

**ตอบ** \_\_\_\_\_

**ขั้นที่ 2** นายทองดีขายไก่ย่างได้มากกว่าหมูปิ้งก็ไม้

**ประโยคสัญลักษณ์** \_\_\_\_\_

นายทองดีขายไก่ย่างได้	ไม้
ขายหมูปิ้งได้	_____ ไม้
นายทองดีขายไก่ย่างได้มากกว่าหมูปิ้ง	===== ไม้

**ตอบ** \_\_\_\_\_