

4

การลบ (ตัวตั้งไม่เกิน 10)

4.1

การลบโดยใช้รูปภาพและเส้นจำนวน

การลบโดยใช้รูปภาพ

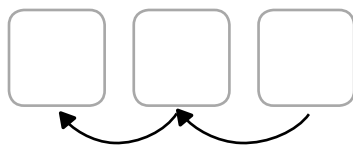

เติมคำตอบลงในช่องว่างให้ถูกต้อง

ตัวอย่าง

นับลดลงทีละ 1

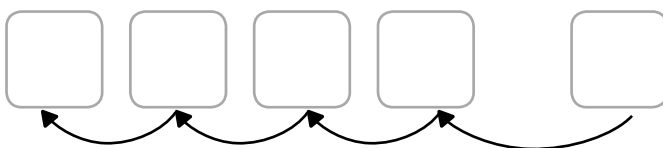
$$2 - 1 = 1$$

(1)



$$5 - 2 = \underline{\quad}$$

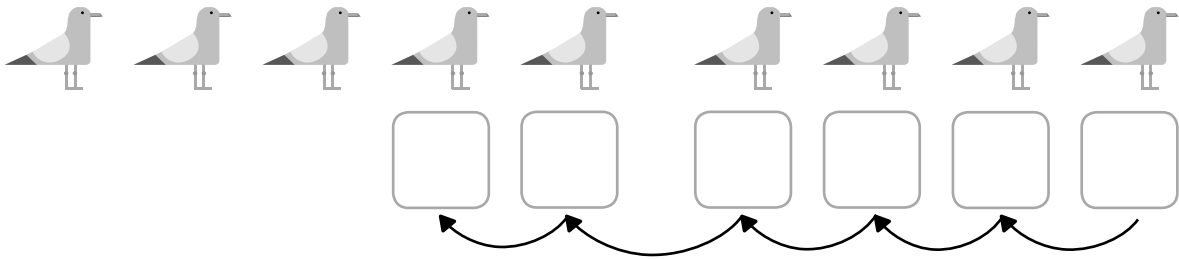
(2)



$$6 - 4 = \underline{\quad}$$

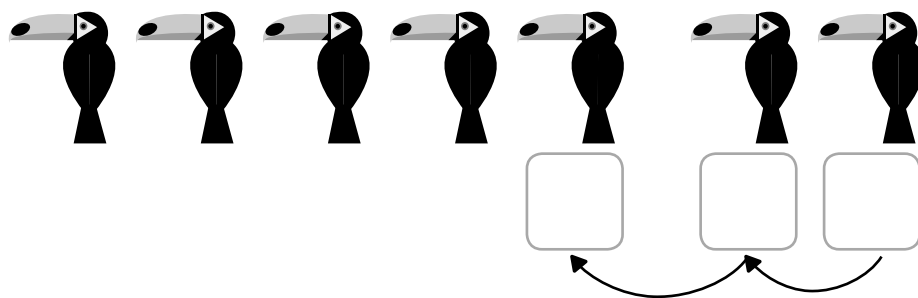


(3)



$9 - 5 = \underline{\hspace{2cm}}$


(4)



$7 - 2 = \underline{\hspace{2cm}}$


เติมคำตอบลงในช่องว่างให้ถูกต้อง

ตัวอย่าง




$8 - 1 = \underline{\hspace{1cm}7\hspace{1cm}}$

(1)




$5 - 3 = \underline{\hspace{2cm}}$

(2)




$8 - 4 = \underline{\hspace{2cm}}$

(3)




$9 - 3 = \underline{\hspace{2cm}}$

(4)



$7 - 2 = \underline{\quad}$

(5)



$10 - 7 = \underline{\quad}$

เติมคำตอบลงในช่องว่างให้ถูกต้อง

ตัวอย่าง



(1)



(2)



(3)



(4)



(5)

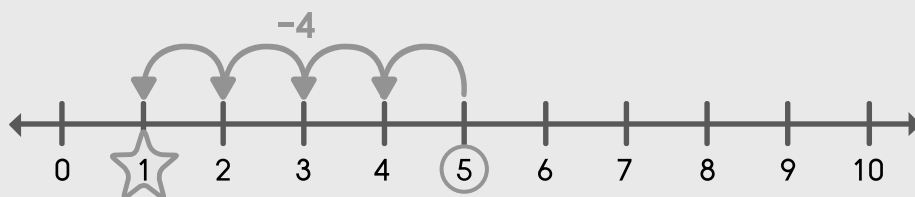


การลบโดยใช้เส้นจำนวน

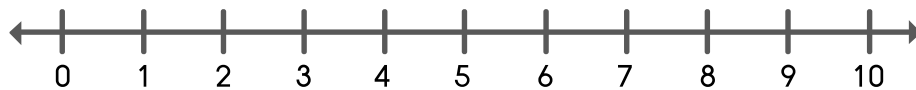
เติมคำตอบลงในช่องว่างให้ถูกต้องโดยใช้เส้นจำนวน

ตัวอย่าง

$$5 - 4 = \boxed{1}$$



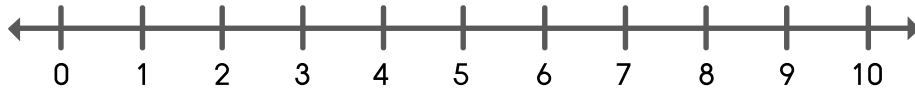
(1) $6 - 3 =$



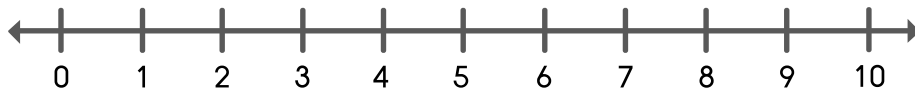
(2) $9 - 5 =$



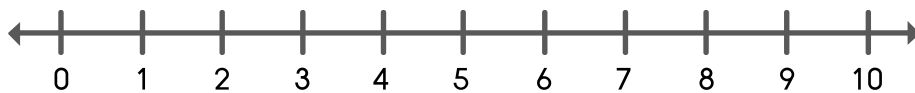
(3) $8 - 2 =$



(4) $10 -$ $= 7$



(5) $7 -$ $= 6$



(6) $10 -$ $= 5$

