


### 3.4 โจทย์ปัญหาการบวก

เขียนประโยคสัญลักษณ์และหาคำตอบให้ถูกต้อง

**ตัวอย่าง**

หนูคีมีส้ม 3 ผล ซื้อมาเพิ่มอีก 2 ผล หนูคีมีส้มทั้งหมดกี่ผล

ประโยคสัญลักษณ์  $3 + 2 = \square$



$$\begin{array}{r} 3 \\ + \\ 2 \\ \hline 5 \end{array}$$




อย่าลืมเขียนหน่วย  
ด้วยนะคะเด็ก ๆ

ตอบ 5 ผล


- (1) หนูนิคมีเหรียญ 5 เหรียญ หน่อยให้เพิ่มอีก 4 เหรียญ หนูนิคมีเหรียญทั้งหมดกี่เหรียญ

ประโยคสัญลักษณ์ \_\_\_\_\_




$$\begin{array}{r} \underline{\hspace{2cm}} \\ \underline{\hspace{2cm}} \end{array}$$

ตอบ \_\_\_\_\_



(2) หนูแดงปลูกต้นมะพร้าว 2 ต้น ปลูกต้นกล้วย 4 ต้น หนูแดงปลูกต้นไม้ทั้งหมดกี่ต้น

ประโยคสัญลักษณ์ \_\_\_\_\_




\_\_\_\_\_

=====

ตอบ \_\_\_\_\_

(3) พิมมีไอศกรีม 5 แท่ง ซื้อมาอีก 3 แท่ง พิมมีไอศกรีมทั้งหมดกี่แท่ง

ประโยคสัญลักษณ์ \_\_\_\_\_




\_\_\_\_\_

=====

ตอบ \_\_\_\_\_

(4) พ่อค้าขายเสื้อสีขาวได้ 6 ตัว ขายเสื้อสีดำได้ 1 ตัว พ่อค้าขายเสื้อ  
ได้ทั้งหมดกี่ตัว

ประโยคสัญลักษณ์ \_\_\_\_\_




\_\_\_\_\_

=====

ตอบ \_\_\_\_\_

(5) เจนและจูนมีลูกอมคนละ 5 เม็ด ทั้งสองคนมีลูกอมรวมกันกี่เม็ด

ประโยคสัญลักษณ์ \_\_\_\_\_



\_\_\_\_\_

=====

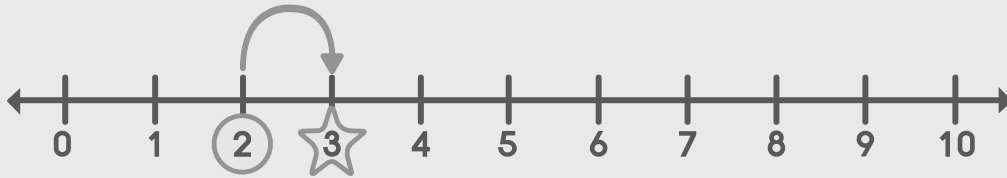
ตอบ \_\_\_\_\_

## เขียนประโยคสัญลักษณ์และหาคำตอบให้ถูกต้อง

### ตัวอย่าง

อรรณขาขายถั่วได้ 2 ถุง ตอนกลางวันขายเพิ่มได้อีก 1 ถุง อรรณขาขายถั่ว  
ได้ทั้งหมดกี่ถุง

ประโยคสัญลักษณ์  $2 + 1 = \square$



ตอบ 3 ถุง

- (1) เซอรีเป่าลูกโป่งได้ 4 ใบ การ์ตูนเป่าลูกโป่งได้ 5 ใบ ทั้งสองคนเป่าลูกโป่ง  
รวมกันได้กี่ใบ

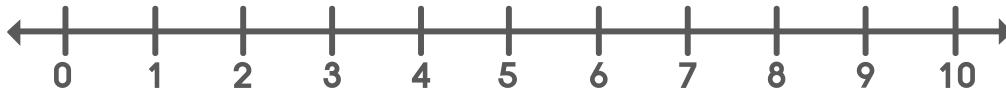
ประโยคสัญลักษณ์ \_\_\_\_\_



ตอบ \_\_\_\_\_

(2) ในห้องมีเด็กผู้หญิง 2 คน เด็กผู้ชาย 3 คน ในห้องนี้มีคนทั้งหมดกี่คน

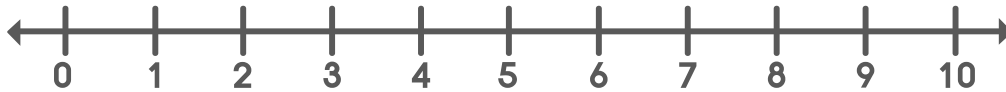
ประโยคสัญลักษณ์ \_\_\_\_\_



ตอบ \_\_\_\_\_

(3) มีคนนั่งอยู่บนรถตู้ 3 คน รับเพิ่มอีก 7 คน มีคนนั่งอยู่บนรถตู้ทั้งหมดกี่คน

ประโยคสัญลักษณ์ \_\_\_\_\_



ตอบ \_\_\_\_\_

(4) มีหนังสือนิทาน 4 เล่ม มีหนังสือการ์ตูนมากกว่าหนังสือนิทาน 3 เล่ม  
มีหนังสือการ์ตูนกี่เล่ม

ประโยคสัญลักษณ์ \_\_\_\_\_



ตอบ \_\_\_\_\_



(5) มีลูกโป่งสีน้ำเงิน 1 ลูก มีลูกโป่งสีน้ำเงินน้อยกว่าสีแดง 5 ลูก  
มีลูกโป่งสีแดงกี่ลูก

ประโยคสัญลักษณ์ \_\_\_\_\_



ตอบ \_\_\_\_\_

(6) มีมังคุด 4 ผล มีมะม่วงมากกว่ามังคุด 4 ผล มีมะม่วงกี่ผล

ประโยคสัญลักษณ์ \_\_\_\_\_



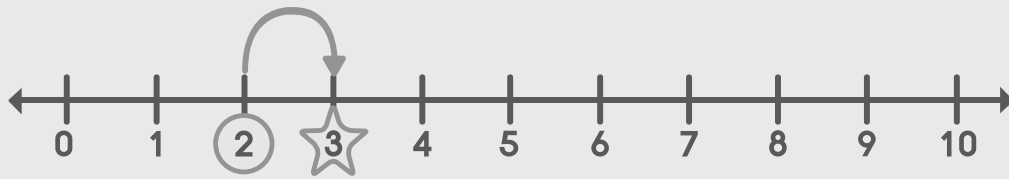
ตอบ \_\_\_\_\_

### ตัวอย่าง

มีน้ำมะนาว 2 แก้ว มีน้ำส้มมากกว่าน้ำมะนาว 1 แก้ว มีน้ำผลไม้รวมกันกี่แก้ว

ขั้นที่ 1 มีน้ำส้มกี่แก้ว

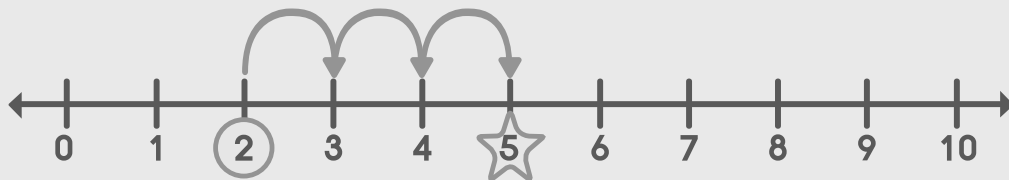
ประโยคสัญลักษณ์ \_\_\_\_\_  $2 + 1 = \square$  \_\_\_\_\_



ตอบ \_\_\_\_\_ 3 แก้ว \_\_\_\_\_

ขั้นที่ 2 มีน้ำผลไม้รวมกันกี่แก้ว

ประโยคสัญลักษณ์ \_\_\_\_\_  $2 + 3 = \square$  \_\_\_\_\_



ตอบ \_\_\_\_\_ 5 แก้ว \_\_\_\_\_



(9) น้องอายุ 1 ปี น้องอายุน้อยกว่าฉัน 6 ปี ฉันและน้องอายุรวมกันกี่ปี

ขั้นที่ 1 ฉันอายุกี่ปี

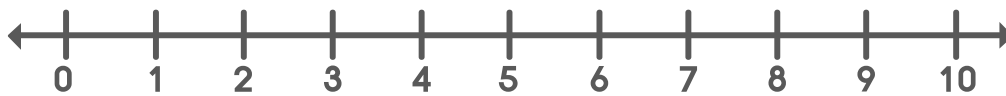
ประโยคสัญลักษณ์ \_\_\_\_\_



ตอบ \_\_\_\_\_

ขั้นที่ 2 ฉันและน้องอายุรวมกันกี่ปี

ประโยคสัญลักษณ์ \_\_\_\_\_



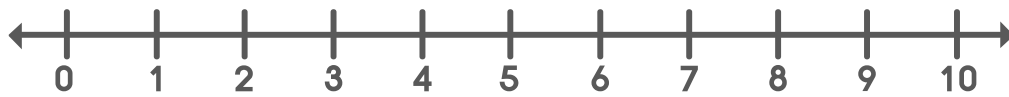
ตอบ \_\_\_\_\_



(10) ลุงทำงาน 1 ชั่วโมง ป้าทำงานมากกว่าลุง 2 ชั่วโมง ทั้งสองคนทำงานรวมกันกี่ชั่วโมง

**ขั้นที่ 1** ป้าทำงานกี่ชั่วโมง

ประโยคสัญลักษณ์ \_\_\_\_\_



ตอบ \_\_\_\_\_

**ขั้นที่ 2** ลุงและป้าทำงานรวมกันกี่ชั่วโมง

ประโยคสัญลักษณ์ \_\_\_\_\_



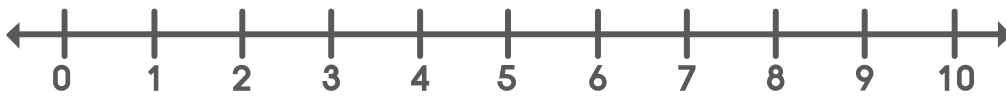
ตอบ \_\_\_\_\_



(11) เศษเล็ยงปลาถักค 3 ถัว เล็ยงปลาถักคน้อยกวาปลาทอง 4 ถัว เศษเล็ยงปลา  
ทั้งหมดถักคี่ถัว

**ขั้นที่ 1** เศษเล็ยงปลาทองถักคี่ถัว

ประโยคสัญลักษณ์ \_\_\_\_\_



ตอบ \_\_\_\_\_

**ขั้นที่ 2** เศษเล็ยงปลาทั้งหมดถักคี่ถัว

ประโยคสัญลักษณ์ \_\_\_\_\_



ตอบ \_\_\_\_\_

## เขียนประโยคสัญลักษณ์และแสดงวิธีทำให้ถูกต้อง

### ตัวอย่าง

ก้องมีลูกโป่งสีแดง 2 ลูก ลูกโป่งสีฟ้า 1 ลูก ก้องมีลูกโป่งทั้งหมดกี่ลูก

ประโยคสัญลักษณ์  $2 + 1 = \square$

ก้องมีลูกโป่งสีแดง	2	+	ลูก
ลูกโป่งสีฟ้า	<u>1</u>		ลูก
ก้องมีลูกโป่งทั้งหมด	<u><u>3</u></u>		ลูก

ตอบ 3 ลูก

(1) เมื่อวานปอขายขนมได้ 2 ถุง วันนี้ขายได้อีก 5 ถุง ปอขายขนมได้ทั้งหมดกี่ถุง

ประโยคสัญลักษณ์ \_\_\_\_\_

เมื่อวานปอขายขนมได้	_____	ถุง
วันนี้ขายได้อีก	_____	ถุง
ปอขายขนมได้ทั้งหมด	<u><u>_____</u></u>	ถุง

ตอบ \_\_\_\_\_





(2) แม่ค้าขายส้มได้ 4 ผล ขายมังคุดได้ 2 ผล แม่ค้าขายผลไม้ได้ทั้งหมดกี่ผล

**ประโยคสัญลักษณ์** \_\_\_\_\_

แม่ค้าขายส้มได้ \_\_\_\_\_ ผล

ขายมังคุดได้ \_\_\_\_\_ ผล

แม่ค้าขายผลไม้ได้ทั้งหมด \_\_\_\_\_ ผล

**ตอบ** \_\_\_\_\_

(3) แม่มีดอกกุหลาบ 3 ดอก พ่อให้อีก 6 ดอก แม่มีดอกกุหลาบทั้งหมดกี่ดอก

**ประโยคสัญลักษณ์** \_\_\_\_\_

แม่มีดอกกุหลาบ \_\_\_\_\_ ดอก

พ่อให้อีก \_\_\_\_\_ ดอก

แม่มีดอกกุหลาบทั้งหมด \_\_\_\_\_ ดอก

**ตอบ** \_\_\_\_\_

(4) มีดอกกุหลาบสีแดง 3 ดอก ดอกกุหลาบสีขาวมากกว่าสีแดง 2 ดอก มีดอกกุหลาบสีขาวกี่ดอก

**ประโยคสัญลักษณ์** \_\_\_\_\_

มีดอกกุหลาบสีแดง \_\_\_\_\_ ดอก

มีดอกกุหลาบสีขาวมากกว่าสีแดง \_\_\_\_\_ ดอก

มีดอกกุหลาบขาว \_\_\_\_\_ ดอก

**ตอบ** \_\_\_\_\_

(5) พลอยทำข้อสอบได้ 3 คะแนน เอิ้งทำข้อสอบได้มากกว่าพลอย 2 คะแนน  
ทั้งสองคนได้คะแนนรวมกันกี่คะแนน

**ขั้นที่ 1** เอิ้งทำข้อสอบได้กี่คะแนน

**ประโยคสัญลักษณ์** \_\_\_\_\_

พลอยทำข้อสอบได้ \_\_\_\_\_ คะแนน

เอิ้งทำข้อสอบได้มากกว่าพลอย \_\_\_\_\_ คะแนน

เอิ้งทำข้อสอบได้ \_\_\_\_\_  
===== คะแนน

**ตอบ** \_\_\_\_\_

**ขั้นที่ 2** ทั้งสองคนได้คะแนนรวมกันกี่คะแนน

**ประโยคสัญลักษณ์** \_\_\_\_\_

พลอยทำข้อสอบได้ \_\_\_\_\_ คะแนน

เอิ้งทำข้อสอบได้ \_\_\_\_\_ คะแนน

ทั้งสองคนได้คะแนนรวมกัน \_\_\_\_\_  
===== คะแนน

**ตอบ** \_\_\_\_\_