

3

การบวก (ผลบวกไม่เกิน 10)

3.1 การบวกโดยใช้รูปภาพและเส้นจำนวน

การบวกโดยใช้รูปภาพ

เติมคำตอบลงในช่องว่างให้ถูกต้อง

ตัวอย่าง

นับเพิ่มทีละ 1


$$1 + 2 = 3$$

(1)

$$\underline{\quad} + \underline{\quad} = \underline{\quad}$$

(2)

$$\underline{\quad} + \underline{\quad} = \underline{\quad}$$



(3)





_____ + _____ = _____

(4)



_____ + _____ = _____


(5)



_____ + _____ = _____


เติมคำตอบลงในช่องว่างให้ถูกต้อง

ตัวอย่าง



4

+

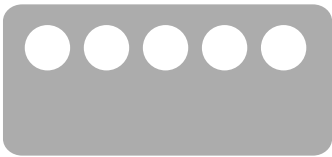


1

=


5

(1)



5


+



3

=

(2)



4


+



2


=

(3)



6

+



3


=

(4)



2


+



5


=

(5)



7

+



3

=

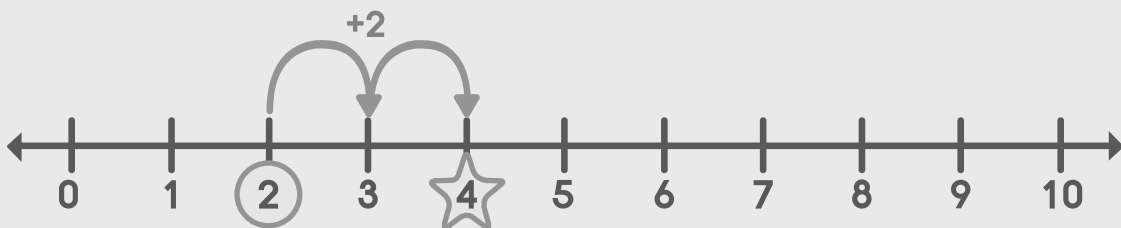


การบวกโดยใช้เส้นจำนวน

เติมคำตอบลงในช่องว่างให้ถูกต้องโดยใช้เส้นจำนวน

ตัวอย่าง

$$2 + 2 = \boxed{4}$$



(1) $6 + 3 = \boxed{}$



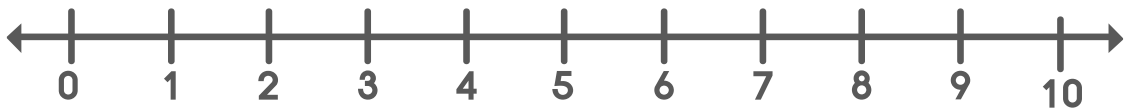
(2) $4 + 3 = \boxed{}$



(3) $1 + 4 = \boxed{}$

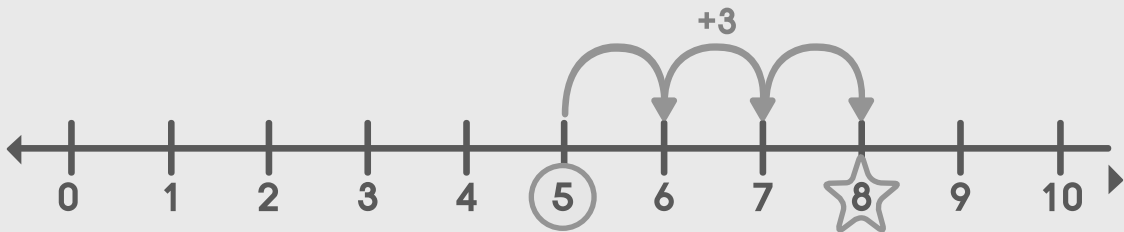


(4) $5 + 5 = \square$



ตัวอย่าง

$5 + \square = 8$



(5) $2 + \square = 3$



(6) $3 + \square = 8$





การสลับที่การบวก

เติมคำตอบลงในช่องว่างให้ถูกต้อง

ตัวอย่าง

3	+	2	=	5	}	คั้งนั้น	3 + 2	=	2 + 3
2	+	3	=	5			3 + 2	=	2 + 3

(1)	5	+	3	=		}	คั้งนั้น	5 + 3		3 + 5
	3	+	5	=				5 + 3	=	3 + 5

(2)	4	+	3	=		}	คั้งนั้น	4 + 3		3 + 4
	3	+	4	=				4 + 3	=	3 + 4

(3)	8	+	2	=		}	คั้งนั้น	8 + 2		2 + 8
	2	+	8	=				8 + 2	=	2 + 8

(4)	5	+	4	=		}	คั้งนั้น	5 + 4		4 + 5
	4	+	5	=				5 + 4	=	4 + 5