



## 2.2 ลำดับของตัวเลข

เติมตัวเลขที่มาก่อนตัวเลขที่กำหนดให้ พร้อมกับวาดภาพแสดงจำนวน

ตัวอย่าง




2




3

(1)



4

(2)



7

เติมตัวเลขในลำดับต่อไป พร้อมกับวาดภาพแสดงจำนวน

ตัวอย่าง



5

6

(1)



2



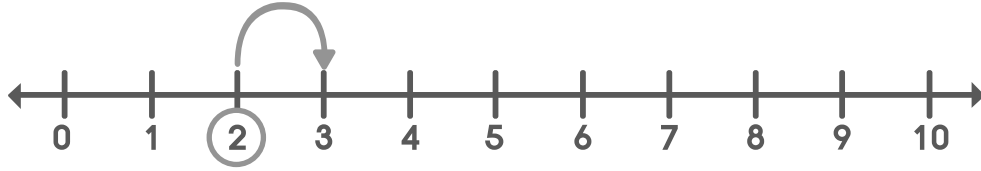
(2)



3



# ระบายสีจำนวนที่หายไปให้ถูกต้อง




## ตัวอย่าง

2	?
---	---





(1)

7	?
---	---



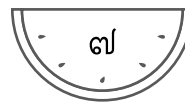
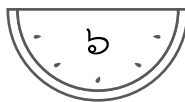
(2)

3	?	5
---	---	---



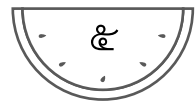
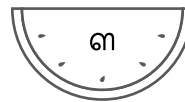
(3)

๘	?	๑๐
---	---	----



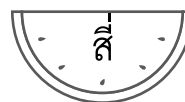
(4)

?	๑
---	---




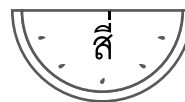
(5)

?	ห้า
---	-----



(6)




















หนึ่ง	?	สาม
-------	---	-----



เติมคำตอบลงในช่องว่างให้ถูกต้อง

ตัวอย่าง



- (1)    
- (2)     
- (3)     
- (4)     

- (5) เลข \_\_\_\_\_ มาก่อนเลข 5 แต่อยู่หลังเลข 3
- (6) เลข \_\_\_\_\_ อยู่หลังเลข 8 แต่มาก่อนเลข 10
- (7) เลข 1 มาก่อนเลข \_\_\_\_\_ แต่อยู่หลังเลข \_\_\_\_\_
- (8) เลข \_\_\_\_\_ อยู่ระหว่างเลข 4 กับเลข 6
- (9) เลข 1, 2, 3, 4 อยู่ระหว่างเลข \_\_\_\_\_ กับเลข \_\_\_\_\_
- (10) เลข \_\_\_\_\_ อยู่ระหว่างเลข 4 กับเลข 9