

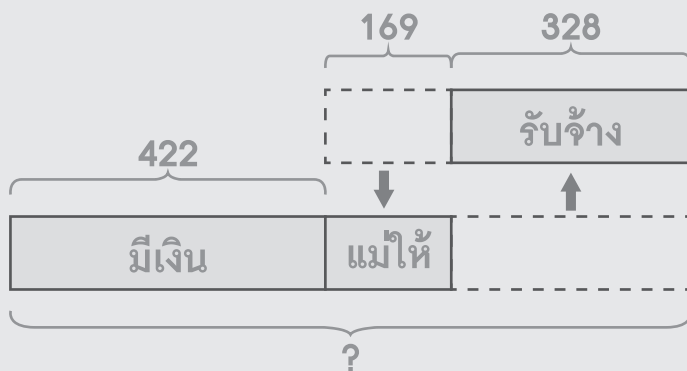


19.2 โจทย์ปัญหาหระคน

วาดรูป เขียนประโยคสัญลักษณ์ และหาคำตอบให้ถูกต้อง

ตัวอย่าง

พงษ์มีเงิน 422 บาท แม่ให้มาอีก 169 บาท ซื้อข้าวสาร 328 บาท
พงษ์เหลือเงินกี่บาท



กระดาษทด

$$\begin{array}{r}
 422 \\
 + 169 \\
 \hline
 328 \\
 \hline
 263
 \end{array}$$

ประโยคสัญลักษณ์ $422 + 169 - 328 = \square$

ตอบ 263 บาท



- (1) สายป่านมีเงิน 110 บาท แม่ให้เพิ่ม 135 บาท ซื้อหนังสือ 140 บาท
สายป่านเหลือเงินเท่าไร

กระดาษทด

ประโยคสัญลักษณ์ _____

ตอบ _____

- (2) สุมีเงิน 360 บาท ขายลูกชิ้นได้เงิน 75 บาท ซื้อหนังสือ 86 บาท
สุเหลือเงินกี่บาท

กระดาษทด

ประโยคสัญลักษณ์ _____

ตอบ _____



- (3) ชาวสวนมีต้นไม้ 460 ต้น เป็นต้นเงาะ 120 ต้น ต้นมะม่วง 94 ต้น ที่เหลือเป็นต้นกล้วย ชาวสวนมีต้นกล้วยกี่ต้น

กระดาษทด

ประโยคสัญลักษณ์ _____

ตอบ _____

- (4) ปอนด์มีรูปภาพ 238 ภาพ ปริมมีรูปภาพมากกว่าปอนด์ 172 ภาพ ป้อมมีรูปภาพน้อยกว่าปริม 79 ภาพ ป้อมมีรูปภาพกี่ภาพ

กระดาษทด

ประโยคสัญลักษณ์ _____

ตอบ _____

- (5) ครูมียางลบ 127 ก้อน ขายไป 100 ก้อน ที่เหลือแบ่งให้นักเรียน 3 คน คนละเท่า ๆ กัน นักเรียนได้ยางลบคนละกี่ก้อน

กระดาษทด

ประโยคสัญลักษณ์ _____

ตอบ _____

- (6) แม่ให้เงินมา 300 บาท เอาไปซื้อหนังสือ 3 เล่ม ราคาเล่มละ 12 บาท จะเหลือเงินเท่าไร

กระดาษทด

ประโยคสัญลักษณ์ _____

ตอบ _____



- (7) ร้านค้ามีผ้าเช็ดหน้า 72 ผืน ขายไป 18 ผืน ที่เหลือจัดใส่กล่อง 9 กล่อง เท่า ๆ กัน แต่ละกล่องมีผ้าเช็ดหน้ากี่ผืน

กระดาษทด

ประโยคสัญลักษณ์ _____

ตอบ _____

- (8) ป้าศรีซื้อเงาะมา 5 กิโลกรัม ราคา กิโลกรัมละ 37 บาท ป้าศรีจ่ายเงินไป 200 บาท ป้าศรีจะได้เงินทอนเท่าไร

กระดาษทด

ประโยคสัญลักษณ์ _____

ตอบ _____

(9) สุซามีลูกอม 342 เม็ด ขายไป 310 เม็ด ที่เหลือแบ่งให้น้อง 4 คน คนละเท่า ๆ กัน น้องจะได้ลูกอมคนละกี่เม็ด

กระดาษทด

ประโยคสัญลักษณ์ _____

ตอบ _____

(10) หนูคีมีเงิน 650 บาท ซื้อเสื้อ 6 ตัว ราคาตัวละ 89 บาท หนูคีเหลือเงินกี่บาท

กระดาษทด

ประโยคสัญลักษณ์ _____

ตอบ _____



เขียนประโยคสัญลักษณ์ แสดงวิธีทำ และหาคำตอบให้ถูกต้อง

ตัวอย่าง

น้อยมีเงิน 578 บาท ใช้ไป 189 บาท แม่ให้มาอีก 287 บาท น้อยมีเงินกี่บาท

ประโยคสัญลักษณ์ $(578 - 189) + 287 = \square$

น้อยมีเงิน	5 7 8	บาท
	-	
ใช้ไป	<u>1 8 9</u>	บาท
น้อยเหลือเงิน	3 8 9	บาท
	+	
แม่ให้มาอีก	<u>2 8 7</u>	บาท
น้อยมีเงิน	<u><u>6 7 6</u></u>	บาท

ตอบ 676 บาท



- (1) ร้านค้ามีลูกอม 247 เม็ด ขายไป 87 เม็ด ซื้อมาเพิ่มอีก 100 เม็ด
ร้านค้ามีลูกอมทั้งหมดเท่าไร

ประโยคสัญลักษณ์ _____

ร้านค้ามีลูกอม		เม็ด
ขายไป	_____	เม็ด
เหลือลูกอม		เม็ด
ซื้อมาเพิ่มอีก	_____	เม็ด
ร้านค้ามีลูกอมทั้งหมด	=====	เม็ด

ตอบ _____

- (2) เป้มีเงิน 400 บาท ซื้อหนังสือไป 127 บาท แม่ให้เงินอีก 52 บาท
เป้มีเงินกี่บาท

ประโยคสัญลักษณ์ _____

เป้มีเงิน		บาท
ซื้อหนังสือไป	_____	บาท
เป้เหลือเงิน		บาท
แม่ให้เงินอีก	_____	บาท
เป้มีเงิน	=====	บาท

ตอบ _____



- (3) ถุงแป้งมีหนังสือ 324 เล่ม ขายไป 135 เล่ม ซื้อมาเพิ่มอีก 127 เล่ม
ถุงแป้งมีหนังสือกี่เล่ม

ประโยคสัญลักษณ์ _____

ถุงแป้งมีหนังสือ	_____	เล่ม
ขายไป	_____	เล่ม
ถุงแป้งเหลือหนังสือ	_____	เล่ม
ซื้อมาเพิ่มอีก	_____	เล่ม
ถุงแป้งมีหนังสือ	=====	เล่ม

ตอบ _____

- (4) แม่มีเงิน 370 บาท พ่อมีเงินน้อยกว่าแม่ 175 บาท ทั้งสองคนมีเงินรวมกัน
กี่บาท

ประโยคสัญลักษณ์ _____

แม่มีเงิน	_____	บาท
พ่อมีเงินน้อยกว่าแม่	_____	บาท
พ่อมีเงิน	_____	บาท
แม่มีเงิน	_____	บาท
ทั้งสองคนมีเงินรวมกัน	=====	บาท


ตอบ _____

- (5) ต้นสนมีแสดมปี 307 ควง ไบปาล์มมีแสดมปีมากกว่าต้นสน 195 ควง
กิ่งมีแสดมปีน้อยกว่าไบปาล์ม 176 ควง กิ่งมีแสดมปีกี่ควง

ประโยคสัญลักษณ์ _____

ต้นสนมีแสดมปี		ควง
ไบปาล์มมีแสดมปีมากกว่าต้นสน	_____	ควง
ไบปาล์มมีแสดมปี		ควง
กิ่งมีแสดมปีน้อยกว่าไบปาล์ม	_____	ควง
กิ่งมีแสดมปี	=====	ควง

ตอบ _____





(6) กิ๊ฟมีเงิน 200 บาท ซื้อเค้ก 8 ชิ้น ชิ้นละ 24 บาท กิ๊ฟเหลือเงินกี่บาท

ประโยคสัญลักษณ์ _____

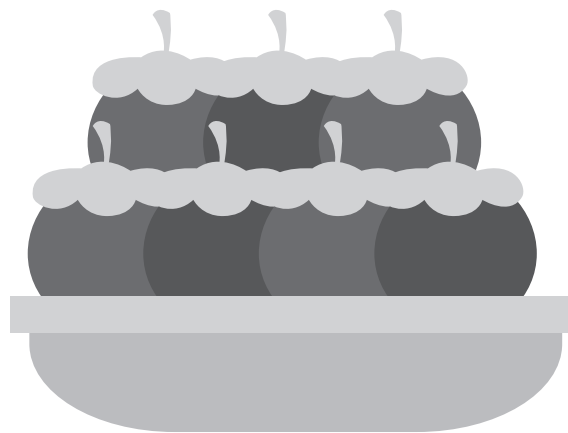
ตอบ _____



(7) ตะกร้าใบแรกมีมังคุด 31 ผล ตะกร้าใบที่สองมีมังคุด 50 ผล นำมังคุด
ทั้งสองตะกร้ามารวมกันแล้วแบ่งใส่ถุง ถุงละ 9 ผล จะได้กี่ถุง

ประโยคสัญลักษณ์ _____

ตอบ _____





- (8) แดงไทยราคา กิโลกรัมละ 23 บาท ตอนเช้าแม่ซื้อมา 2 กิโลกรัม
ตอนบ่ายซื้อเพิ่มอีก 7 กิโลกรัม แม่จ่ายเงินซื้อแดงไทยทั้งหมดกี่บาท

ประโยคสัญลักษณ์ _____

ตอบ _____



(9) สุภาใจมีเงิน 20 บาท แม่ให้อีก 40 บาท แล้วนำเงินไปซื้อสมุดเล่มละ 6 บาท
สุภาใจจะซื้อสมุดได้กี่เล่ม

ประโยคสัญลักษณ์ _____

ตอบ _____





(10) แม่ทำคุกกี้ไว้ 45 ชิ้น แบ่งใส่ถุง ถุงละ 5 ชิ้น แล้วนำไปขายถุงละ 20 บาท
แม่จะได้เงินกี่บาท

ประโยคสัญลักษณ์ _____

ตอบ _____

