

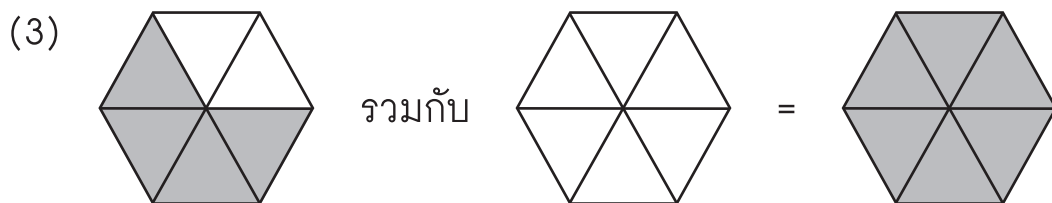
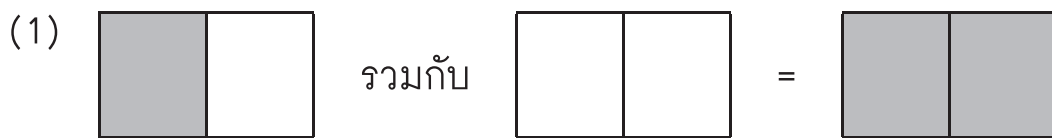
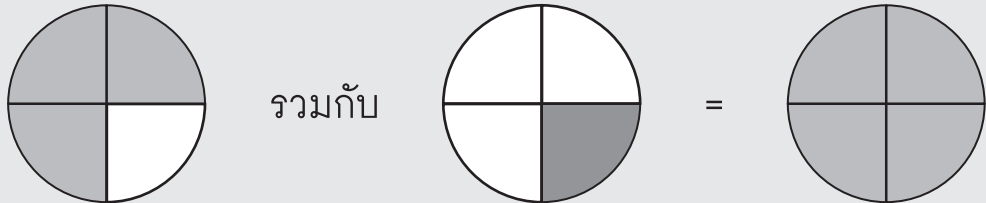




15.2 เศษส่วนกับจำนวนเต็ม

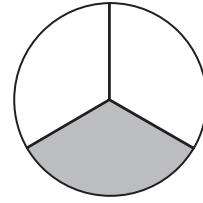
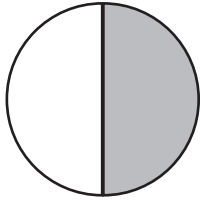
ระบายสีให้ได้ผลรวมเท่ากับ 1

ตัวอย่าง

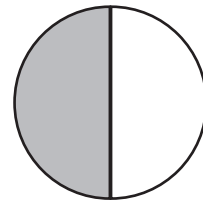
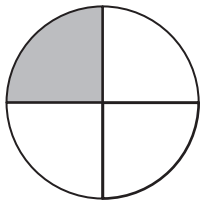


จับคู่เศษส่วนที่รวมกันแล้วมีค่าเท่ากับ 1

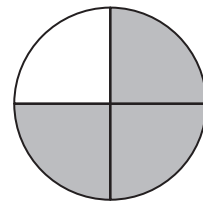
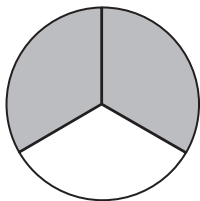
ตัวอย่าง



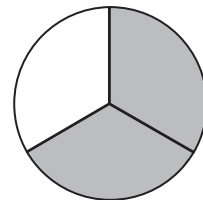
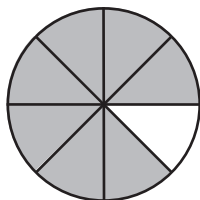
(1)



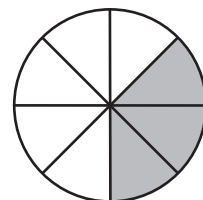
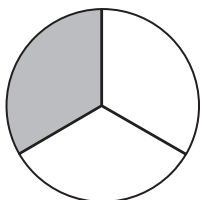
(2)



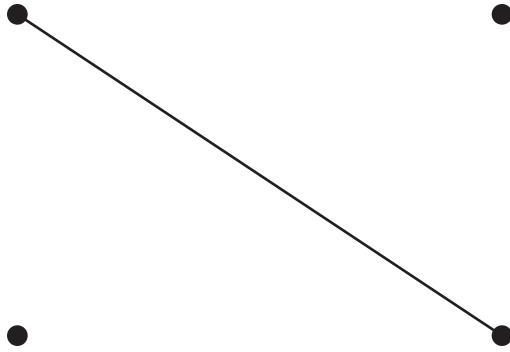
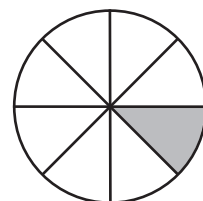
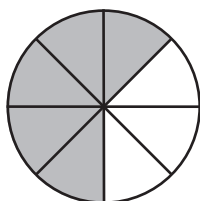
(3)



(4)



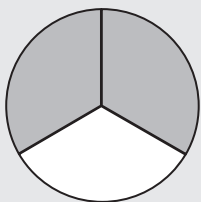
(5)





เติมคำตอบลงในช่องว่างให้ถูกต้อง

ตัวอย่าง

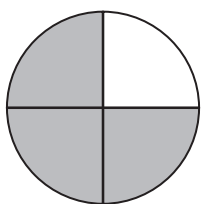


$\frac{2}{3}$ รวมกับ



$= \frac{3}{3} = 1$

(1)




$\frac{3}{4}$ รวมกับ



$= \frac{4}{4} = 1$

(2)

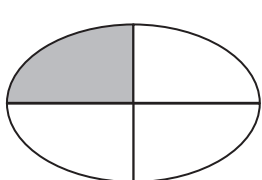


$\frac{1}{2}$ รวมกับ



$= \frac{2}{2} = 1$

(3)

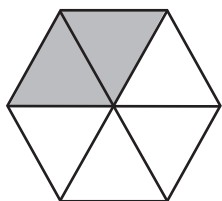


$\frac{1}{4}$ รวมกับ



$= \frac{4}{4} = 1$

(4)

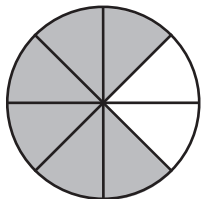


$\frac{2}{6}$ รวมกับ



$= \frac{6}{6} = 1$

(5)



$\frac{6}{8}$ รวมกับ



$= \frac{8}{8} = 1$

เติมคำตอบลงในช่องว่างให้ถูกต้อง

ตัวอย่าง

$$\frac{1}{3} \text{ รวมกับ } \frac{2}{3} = 1$$

$$(1) \frac{2}{4} \text{ รวมกับ } \boxed{} = 1$$

$$(2) \frac{5}{6} \text{ รวมกับ } \boxed{} = 1$$

$$(3) \frac{8}{12} \text{ รวมกับ } \boxed{} = 1$$

$$(4) \frac{5}{7} \text{ รวมกับ } \boxed{} = 1$$

$$(5) \boxed{} \text{ รวมกับ } \frac{3}{5} = 1$$

