

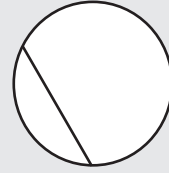
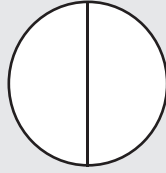
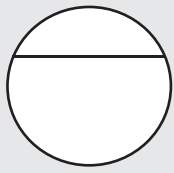
15

เศษส่วน (ตอนที่ 1)

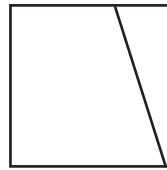
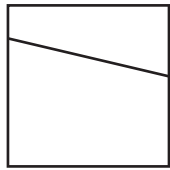

15.1 แนะนำเศษส่วนเบื้องต้น

ทำเครื่องหมาย ✓ บนรูปที่แบ่งส่วนเท่า ๆ กัน

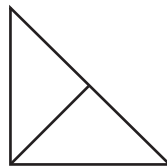
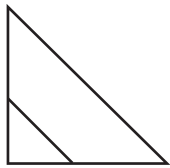
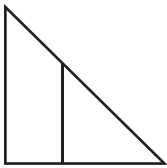
ตัวอย่าง



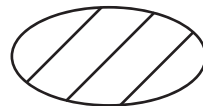
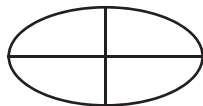
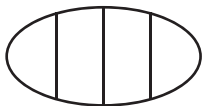
(1)



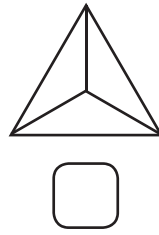
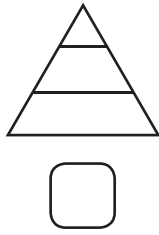
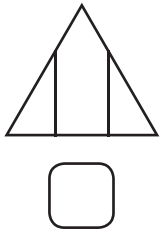
(2)



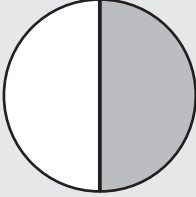
(3)


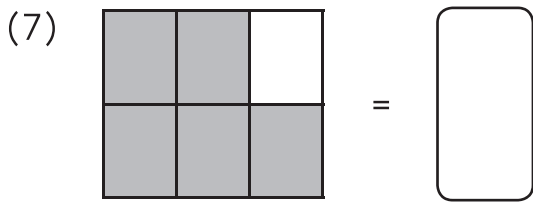
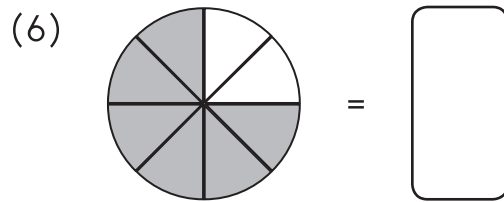
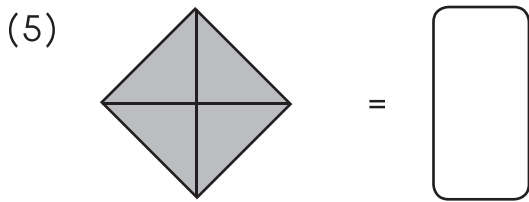
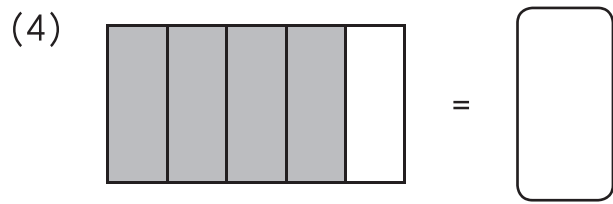
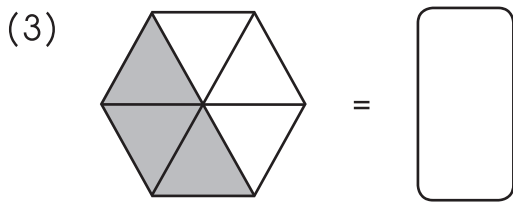
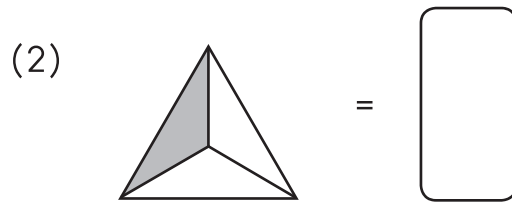
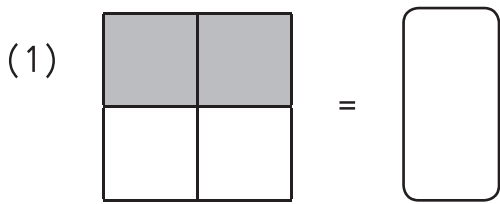


(4)



เขียนส่วนที่ระบายสีเป็นเศษส่วน

ตัวอย่าง  = $\frac{1}{2}$






เติมคำตอบลงในช่องว่างให้ถูกต้อง

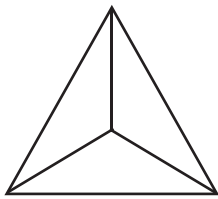
	รูป	เศษส่วน (ส่วนที่ระบายสี)	เขียนเป็นตัวเลข
ตัวอย่าง		$\frac{2}{10}$	เศษสองส่วนสิบ
(1)			
(2)			
(3)			
(4)			

ระบายสีรูปภาพให้สอดคล้องกับเศษส่วนที่โจทย์กำหนด

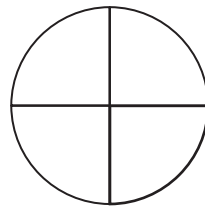
ตัวอย่าง ส่วนที่ระบายสี = $\frac{1}{2}$



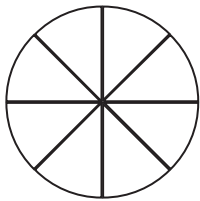
(1) ส่วนที่ระบายสี = $\frac{3}{3}$



(2) ส่วนที่ระบายสี = $\frac{2}{4}$



(3) ส่วนที่ระบายสี = $\frac{5}{8}$



(4) ส่วนที่ระบายสี = $\frac{4}{10}$

