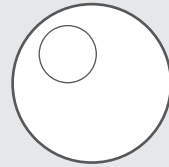
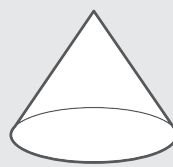
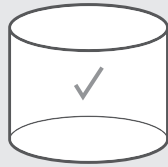
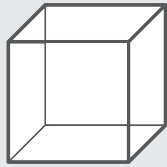




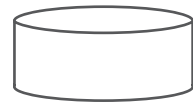

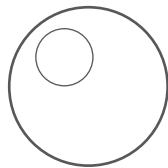
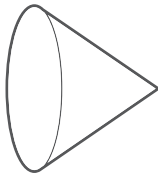
## 14.2 รูปเรขาคณิต (3 มิติ)

เขียนเครื่องหมาย ✓ ลงในรูปเรขาคณิตสามมิติตามที่โจทย์กำหนด

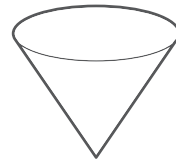
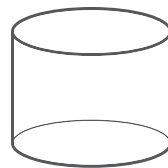
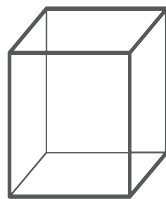
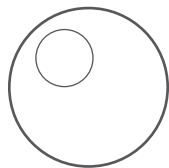
ตัวอย่าง ทรงกระบอก



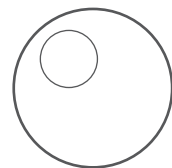

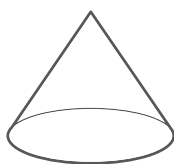
(1) ทรงกรวย



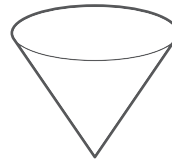

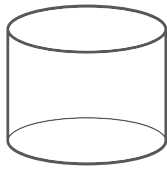
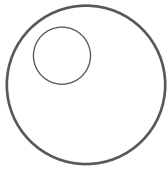
(2) ทรงสี่เหลี่ยมมุมฉาก



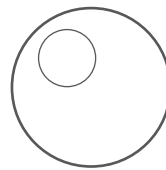
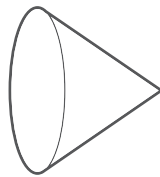
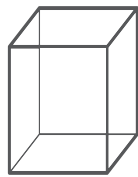
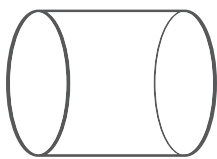
(3) ทรงกลม



(4) ทรงสี่เหลี่ยมมุมฉาก



(5) ทรงกระบอก




เขียนชื่อรูปเรขาคณิตสามมิติ

ตัวอย่าง



ทรงกรวย

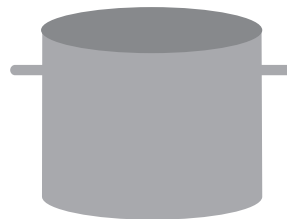
(1)



(2)

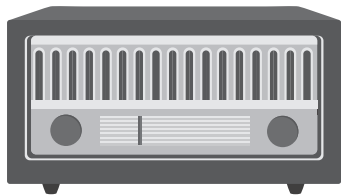


(3)





(4)



---

(5)



---

(6)




---

(7)



---

(8)



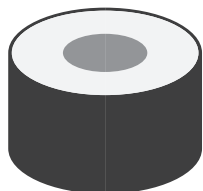
---

(9)



---

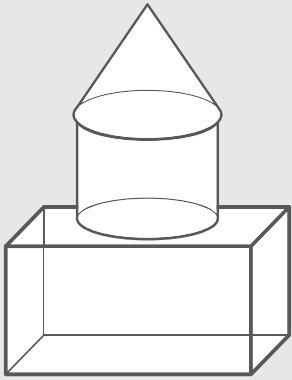
(10)



---

จากภาพ ประกอบด้วยรูปทรงอะไรบ้างและมีอย่างละกี่อัน

ตัวอย่าง



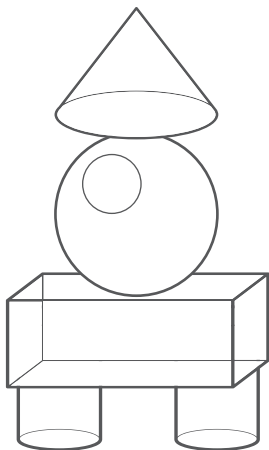
ทรงกรวย \_\_\_\_\_ 1 \_\_\_\_\_ อัน

ทรงกระบอก \_\_\_\_\_ 1 \_\_\_\_\_ อัน

ทรงสี่เหลี่ยมมุมฉาก \_\_\_\_\_ 1 \_\_\_\_\_ อัน

ทรงกลม \_\_\_\_\_ 0 \_\_\_\_\_ อัน

(1)



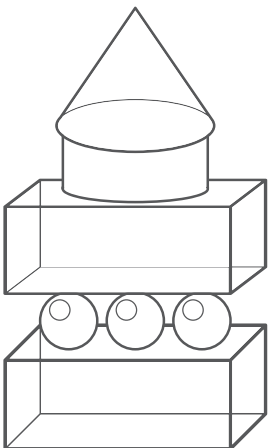
ทรงกรวย \_\_\_\_\_ อัน

ทรงกระบอก \_\_\_\_\_ อัน

ทรงสี่เหลี่ยมมุมฉาก \_\_\_\_\_ อัน

ทรงกลม \_\_\_\_\_ อัน

(2)



ทรงกรวย \_\_\_\_\_ อัน

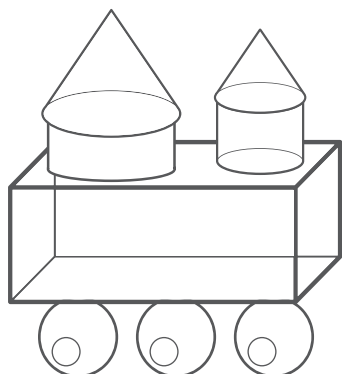
ทรงกระบอก \_\_\_\_\_ อัน

ทรงสี่เหลี่ยมมุมฉาก \_\_\_\_\_ อัน

ทรงกลม \_\_\_\_\_ อัน



(3)



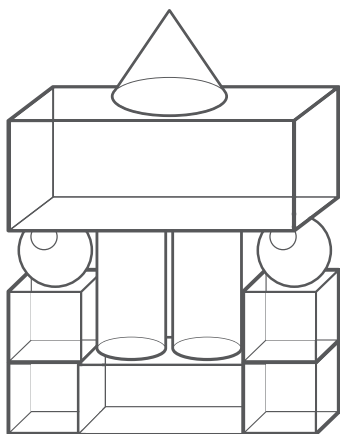
ทรงกรวย \_\_\_\_\_ อัน

ทรงกระบอก \_\_\_\_\_ อัน

ทรงสี่เหลี่ยมมุมฉาก \_\_\_\_\_ อัน

ทรงกลม \_\_\_\_\_ อัน

(4)



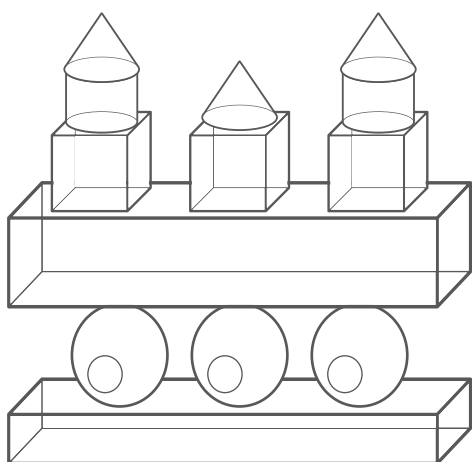
ทรงกรวย \_\_\_\_\_ อัน

ทรงกระบอก \_\_\_\_\_ อัน

ทรงสี่เหลี่ยมมุมฉาก \_\_\_\_\_ อัน

ทรงกลม \_\_\_\_\_ อัน

(5)



ทรงกรวย \_\_\_\_\_ อัน

ทรงกระบอก \_\_\_\_\_ อัน

ทรงสี่เหลี่ยมมุมฉาก \_\_\_\_\_ อัน

ทรงกลม \_\_\_\_\_ อัน