

14

รูปเรขาคณิต

14.1 รูปเรขาคณิต (2 มิติ)

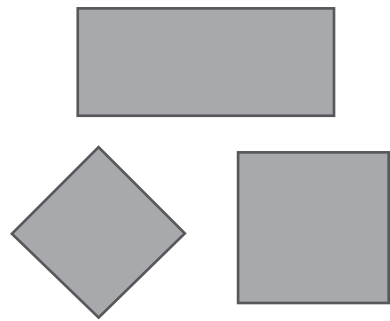
เขียนบอกจำนวนด้านและมุมของรูปเรขาคณิต 2 มิติแต่ละข้อ

ตัวอย่าง

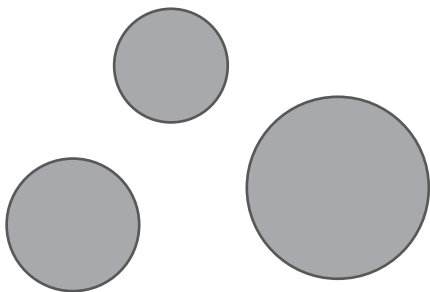


 ด้าน 3 ด้าน มุม 3 มุม

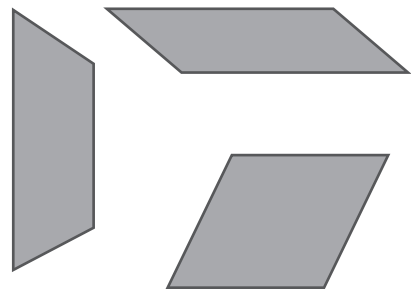
(1)




(2)



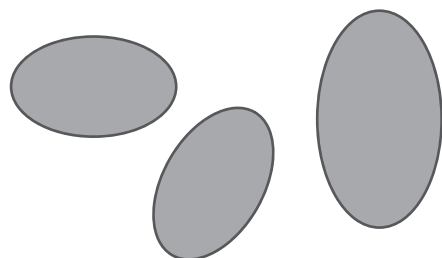
(3)



(4)



(5)



ระบายสีตามที่กำหนดให้


รูปสามเหลี่ยม = สีเขียว

รูปสี่เหลี่ยม = สีเหลือง

รูปวงกลม = สีแดง

รูปวงรี = สีฟ้า

รูปครึ่งวงกลม = สีส้ม



(1) รูปสี่เหลี่ยม _____ รูป

(2) รูปสามเหลี่ยม _____ รูป

(3) รูปวงกลม _____ รูป

(4) รูปวงรี _____ รูป

(5) รูปครึ่งวงกลม _____ รูป




จำแนกรูปเรขาคณิต พร้อมเขียนตัวเลขแสดงจำนวนรูปเรขาคณิต


	รูป	สี่เหลี่ยม (รูป)	สามเหลี่ยม (รูป)	วงกลม (รูป)	วงรี (รูป)
ตัวอย่าง		8	3	-	-
(1)					
(2)					
(3)					
(4)					
(5)					

วาดรูปสิ่งของในชีวิตประจำวัน ให้ตรงกับรูปเรขาคณิตสองมิติที่กำหนดให้

ตัวอย่าง รูปวงกลม




(1) รูปสามเหลี่ยม



(2) รูปสี่เหลี่ยม



(3) รูปวงกลม



(4) รูปวงรี



(5) รูปครึ่งวงกลม

