

2

จำนวนนับ 1-10 (ตอนที่ 2)

2.1 การเปรียบเทียบโดยใช้สัญลักษณ์


เติมเครื่องหมาย $>$, $<$ หรือ $=$ ลงในช่องว่างให้ถูกต้อง


ตัวอย่าง




- (1)
- (2)
- (3)
- (4)
- (5)




(6) 

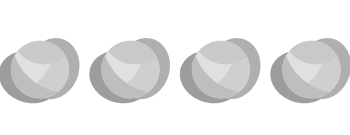


(7) 

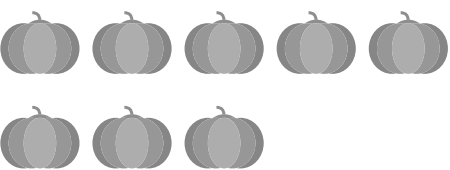



(8) 



(9) 



(10) 



เติมเครื่องหมาย > , < หรือ = ลงในช่องว่างให้ถูกต้อง

ตัวอย่าง

$$\textcircled{3} < \square{6}$$

(1) $\textcircled{5} \square{1}$

(2) $\textcircled{3} \square{7}$

(3) $\textcircled{9} \square{8}$

(4) $\textcircled{7} \square{8}$

(5) $\textcircled{3} \square{2}$

(6) $\textcircled{6} \square{9}$

(7) $\textcircled{10} \square{7}$

(8) $\textcircled{0} \square{2}$

(9) $\textcircled{8} \square{4}$

(10) $\textcircled{\text{ห้า}} \square{5}$