

13.3 โจทย์ปัญหาเรื่องเงิน

เขียนประโยคสัญลักษณ์และหาคำตอบให้ถูกต้อง

ตัวอย่าง

สายป่านมีเงิน 70 บาท ซื้อคินสอราคา 12 บาท สายป่านเหลือเงินกี่บาท



กระดาษทด	
7	0
	-
<u>1</u>	<u>2</u>
<u>5</u>	<u>8</u>

ประโยคสัญลักษณ์ _____ $70 - 12 = \square$ _____

ตอบ _____ 58 บาท _____

(1) โคนันท์มีเงิน 28 บาท แพนเค้กมีเงิน 15 บาท ทั้งสองคนมีเงินรวมกันกี่บาท



กระดาษทด	

ประโยคสัญลักษณ์ _____

ตอบ _____



- (2) ส้มโอมเงินได้ 240 บาท โกโก้อมเงินได้ 180 บาท ทั้งสองคน
มีเงินรวมกันกี่บาท



กระดาษทด

ประโยคสัญลักษณ์ _____

ตอบ _____

- (3) รองเท้าราคา 200 บาท กระเป๋าราคา 500 บาท รองเท้าราคาน้อยกว่า
กระเป๋าเท่าไร




กระดาษทด

ประโยคสัญลักษณ์ _____

ตอบ _____

(4) นันทมีเงิน 700 บาท นนทมีเงินน้อยกว่านันท 450 บาท นนทมีเงินกี่บาท

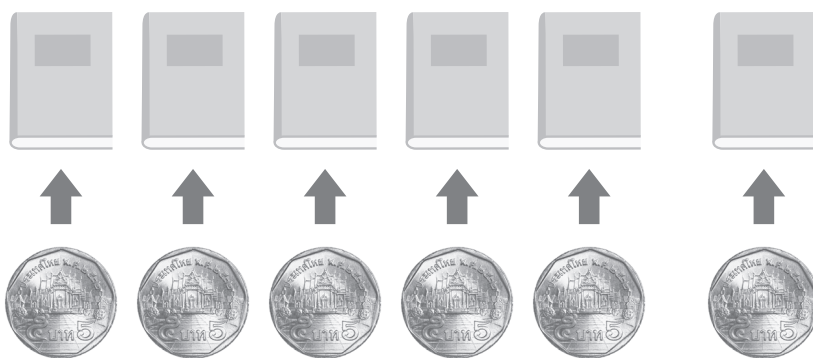


กระดาษทด

ประโยคสัญลักษณ์ _____

ตอบ _____

(5) กานดาซื้อหนังสือการ์ตูน 6 เล่ม เล่มละ 5 บาท กานดาต้องจ่ายเงินเท่าไร



กระดาษทด

ประโยคสัญลักษณ์ _____

ตอบ _____



(6) โฟกัสและน้อยหน้าจ่ายเงินค่ารถเมล์คนละ 6.50 บาท ทั้งสองคนจ่ายเงินรวมกันเท่าไร




กระดาษทด

ประโยคสัญลักษณ์ _____

ตอบ _____

(7) ซื้อกระโปรงราคา 175 บาท ให้ธนบัตรใบละหนึ่งร้อยบาท 2 ใบ จะได้รับเงินทอนเท่าไร



175 บาท


กระดาษทด

ประโยคสัญลักษณ์ _____

ตอบ _____



(1) แม่ซื้อนมรสช็อกโกแลตราคา 67.25 บาท ซื้อนมรสสตรอว์เบอร์รีราคา 89 บาท แม่ต้องจ่ายเงินเท่าไร



บาท	สตางค์

ประโยคสัญลักษณ์ _____

ตอบ _____

(2) ฝ่ายมีเงิน 95.75 บาท ซื้อเสื้อฝ้ายราคา 24 บาท ฝ่ายเหลือเงินกี่บาท



95.75 บาท



24 บาท

บาท	สตางค์

ประโยคสัญลักษณ์ _____

ตอบ _____



(3) จักรยานราคา 585.50 บาท หุ่นยนต์ราคา 340 บาท จักรยานราคามากกว่าหุ่นยนต์กี่บาท



585.50 บาท



340 บาท

บาท	สตางค์

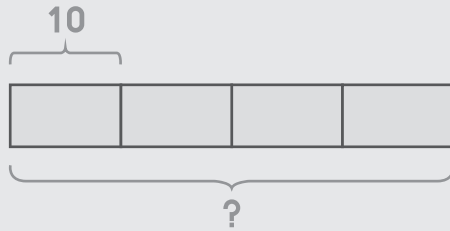
ประโยคสัญลักษณ์ _____

ตอบ _____

วาดรูป เขียนประโยคสัญลักษณ์ และหาคำตอบให้ถูกต้อง

ตัวอย่าง

เอ็งซื้อหมูπίง 4 ไม้ ราคาไม้ละ 10 บาท เอ็งต้องจ่ายเงินเท่าไร



กระดาษทด

$$\begin{array}{r} 10 \\ \times \\ \hline 40 \end{array}$$

ประโยคสัญลักษณ์ $10 \times 4 = \square$

ตอบ 40 บาท

(1) พัดลมราคา 450 บาท โทรทัศน์ราคา 370 บาท พัดลมและโทรทัศน์
ราคาารวมกันเท่าไร

กระดาษทด

ประโยคสัญลักษณ์ _____

ตอบ _____



(2) ปิ่นมีเงิน 681 บาท 50 สตางค์ ใช้ไป 142 บาท ปิ่นเหลือเงินกี่บาท

กระดาษทด

ประโยคสัญลักษณ์ _____

ตอบ _____

(3) โईและอีมมีเงินออมคนละ 79 บาท ทั้งสองคนมีเงินออมรวมกันเท่าไร

กระดาษทด

ประโยคสัญลักษณ์ _____

ตอบ _____

(4) แม่ค้าขายฝรั่ง 3 ผล ราคาผลละ 12 บาท แม่ค้าขายฝรั่งได้เงินทั้งหมดเท่าไร

กระดาษทด

ประโยคสัญลักษณ์ _____

ตอบ _____

(5) ปั่นชื่อนม 6 ขวด คิคเป็นเงินทั้งสิ้น 36 บาท นมราคาขวดละกี่บาท

กระดาษทด

ประโยคสัญลักษณ์ _____

ตอบ _____

(2) ป่านซื้อกำไลราคาเส้นละ 93 บาท จำนวน 7 เส้น ป่านต้องจ่ายเงินเท่าไร

ประโยคสัญลักษณ์ _____

ตอบ _____

(3) จรีนใจขายดอกกุหลาบให้เพื่อน 6 คน คนละหนึ่งดอก ได้เงินทั้งสิ้น 54 บาท
จรีนใจขายดอกกุหลาบราคาดอกละเท่าไร

ประโยคสัญลักษณ์ _____

ตอบ _____



- (4) สมศรีมีเงิน 900 บาท ซื้อกระเป๋าคนสองราคา 506 บาท และคนสองสี
ราคา 321 บาท สมศรีเหลือเงินเท่าไร

ประโยคสัญลักษณ์ _____

ตอบ _____

- (5) สมชายออมเงินได้วันละ 8 บาท ในเดือนกรกฎาคมสมชายจะออมเงิน
ได้ทั้งหมดกี่บาท

ประโยคสัญลักษณ์ _____

ตอบ _____