

# 13

## เงิน

### 13.1

### แนะนำเงินเบื้องต้นและการเปรียบเทียบเงิน

จากภาพ ตอบคำถามต่อไปนี้



#### ตัวอย่าง

ฉันคือเหรียญที่มีสีทองแดงและมีค่าน้อยที่สุด ฉันคือเหรียญใด

ตอบ \_\_\_\_\_ เหรียญ 25 สตางค์

(1) ฉันคือเหรียญกลม ๆ ตรงกลางสีทอง ล้อมรอบไปด้วยสีเงิน ฉันคือเหรียญใด

ตอบ \_\_\_\_\_

(2) ฉันคือเหรียญสีเงินที่มีค่ารองจากเหรียญ 10 บาท ฉันคือเหรียญใด

ตอบ \_\_\_\_\_

(3) ฉันคือเหรียญสีเงินที่มีค่าน้อยที่สุด ฉันคือเหรียญใด

ตอบ \_\_\_\_\_

(4) ฉันคือเหรียญที่มีค่าน้อยกว่า 1 บาท ฉันคือเหรียญใด (มีมากกว่า 1 คำตอบ)

ตอบ \_\_\_\_\_

## จากภาพ ตอบคำถามต่อไปนี้



### ตัวอย่าง

ฉันคือธนบัตรสีเขียว ฉันมีค่าเท่าใด

ตอบ \_\_\_\_\_ 20 บาท \_\_\_\_\_

(1) ฉันคือธนบัตรสีแดงสคไล ฉันมีค่าเท่าใด

ตอบ \_\_\_\_\_

(2) ฉันคือธนบัตรสีเทาและมีค่ามากที่สุด ฉันคือธนบัตรใด

ตอบ \_\_\_\_\_

(3) ฉันคือธนบัตรที่มีค่า 500 บาท ฉันมีสีใด

ตอบ \_\_\_\_\_

(4) ฉันคือธนบัตรที่มีค่า 50 บาท ฉันมีสีใด

ตอบ \_\_\_\_\_



# เรียงลำดับค่าของเงินจากมากที่สุดไปน้อยที่สุด

## ตัวอย่าง



2

3

1

(1)






(2)



(3)



(4)



จากภาพ เติมคำตอบลงในช่องว่างให้ถูกต้อง

ตัวอย่าง



พลอยมีเงิน 7 บาท

(1)



จำวามีเงิน \_\_\_\_\_

(2)



เอ็งมีเงิน \_\_\_\_\_



(3)



พร้อมมีเงิน \_\_\_\_\_

(4)



ตุลมีเงิน \_\_\_\_\_

เติมเครื่องหมาย >, < หรือ = ลงในช่องว่างให้ถูกต้อง

ตัวอย่าง

ฉันมีเงิน  
25 บาท 50 สตางค์

<

ฉันมีเงิน  
50 บาท 25 สตางค์



(1)

ฉันมีเงิน  
50 บาท 25 สตางค์

ฉันมีเงิน  
100 บาท 25 สตางค์



(2)

ฉันมีเงิน  
30 บ. 25 สต.

ฉันมีเงิน  
25 บ. 50 สต.



(3)

ฉันมีเงิน  
56.25 บาท

ฉันมีเงิน  
54.50 บาท



(4)

ฉันมีเงิน  
105.50 บาท

ฉันมีเงิน  
105 บาท 75 สตางค์

