



12.3 โจทย์ปัญหาการทวง

เขียนประโยคสัญลักษณ์และหาคำตอบให้ถูกต้อง

ตัวอย่าง

โอ่งใบแรกจุน้ำ 127 ลิตร ใบที่สองจุน้ำ 142 ลิตร โอ่งสองใบจุน้ำรวมกันเท่าไร



กระดาษทด

$$\begin{array}{r}
 127 \\
 +142 \\
 \hline
 269
 \end{array}$$

ประโยคสัญลักษณ์ $127 + 142 = \square$

ตอบ 269 ลิตร

(1) ถังใบแรกจุ 430 ลิตร ถังใบที่สองจุ 350 ลิตร เหน้าสองถังรวมกันได้กี่ลิตร




กระดาษทด

ประโยคสัญลักษณ์ _____

ตอบ _____

(2) พ่อใช้น้ำมันไป 375 ลิตร แล้วยังเหลืออีก 225 ลิตร เคมีพ้อมีน้ำมันกี่ลิตร

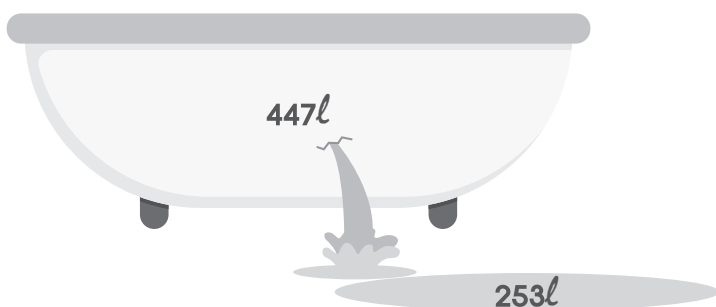


กระดาษทด

ประโยคสัญลักษณ์ _____

ตอบ _____

(3) สาลี่เปิดน้ำใส่อ่างไว้ 447 ลิตร น้ำไหลออก 253 ลิตร เหลือน้ำในอ่างกี่ลิตร



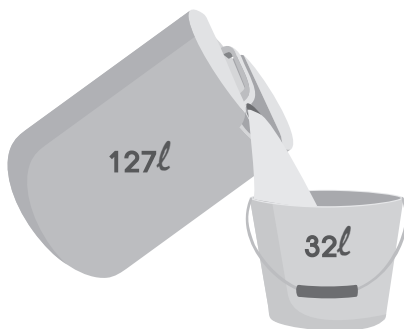
กระดาษทด

ประโยคสัญลักษณ์ _____

ตอบ _____



- (4) มีน้ำอยู่ในถัง 127 ลิตร เทออก 32 ลิตร เหลือน้ำในถังกี่ลิตร




กระดาษทด

ประโยคสัญลักษณ์ _____

ตอบ _____

- (5) แท็งก์น้ำ A มีน้ำ 214 ลิตร แท็งก์น้ำ B มีน้ำ 195 ลิตร แท็งก์น้ำ A มีน้ำมากกว่าแท็งก์น้ำ B เท่าไร




กระดาษทด

ประโยคสัญลักษณ์ _____

ตอบ _____

(6) ในถังมีน้ำ 8 ลิตร ใส่น้ำหวานลงไป 2 เท่าของน้ำเปล่า ใส่น้ำหวานกี่ลิตร



กระดาษทด

ประโยคสัญลักษณ์ _____

ตอบ _____

(7) น้ำมันหนึ่งขวดจ 4 ลิตร ตีซื้อน้ำมัน 6 ขวด ตีมีน้ำมันทั้งหมดกี่ลิตร



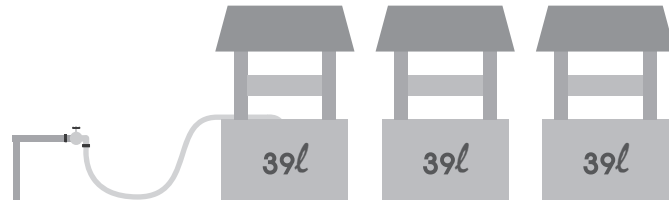
กระดาษทด

ประโยคสัญลักษณ์ _____

ตอบ _____



- (8) เปิดน้ำใส่บ่อน้ำหนึ่งบ่อใช้น้ำ 39 ลิตร ถ้าเปิดน้ำใส่บ่อ 3 บ่อ
ต้องใส่น้ำทั้งหมดกี่ลิตร



กระดาษทด

ประโยคสัญลักษณ์ _____

ตอบ _____

- (9) หมูมามีน้ำหวาน 27 ลิตร แบ่งให้เด็ก 9 คน คนละเท่า ๆ กัน เด็กแต่ละคน
จะได้น้ำหวานกี่ลิตร



กระดาษทด

ประโยคสัญลักษณ์ _____

ตอบ _____

(10) ตูมมีน้ำมัน 63 ลิตร แบ่งใส่แกลลอน 7 แกลลอน แต่ละแกลลอนจะมีน้ำมันกี่ลิตร



กระดาษทด

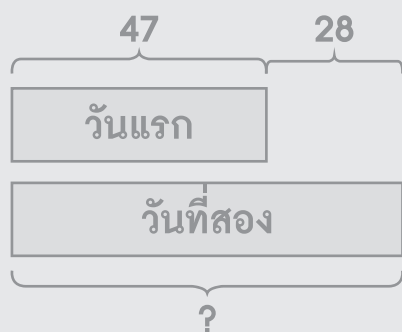
ประโยคสัญลักษณ์ _____

ตอบ _____

วาดรูป เขียนประโยคสัญลักษณ์ และหาคำตอบให้ถูกต้อง

ตัวอย่าง

วันแรกขายน้ำได้ 47 ลิตร วันที่สองขายได้มากกว่าวันแรก 28 ลิตร วันที่สองขายน้ำได้เท่าไร



กระดาษทด

4	7	
		+
2	8	
7	5	

ประโยคสัญลักษณ์ _____ $47 + 28 = \square$

ตอบ _____ 75 ลิตร



(1) น้องหนูมีน้ำส้ม 683 ลิตร มีน้ำฝรั่ง 275 ลิตร น้องหนูมีน้ำผลไม้รวมเท่าไร

กระดาษทด

ประโยคสัญลักษณ์ _____

ตอบ _____

(2) ช่างใช้ทรายสร้างบ้าน 591 ลิตร แล้วยังเหลือทราย 126 ลิตร
เดิมช่างมีทรายเท่าไร

กระดาษทด

ประโยคสัญลักษณ์ _____

ตอบ _____

(3) ช่างผสมปูน 842 ลิตร ใช้ก่อสร้างไป 459 ลิตร ช่างเหลือปูนเท่าไร

กระดาษทด

ประโยคสัญลักษณ์ _____

ตอบ _____

(4) หนูนิดมีน้ำหวาน 357 ลิตร หนูนิดมีน้ำหวานมากกว่าหนุดี 112 ลิตร
หนุดีมีน้ำหวานเท่าไร

กระดาษทด

ประโยคสัญลักษณ์ _____

ตอบ _____



(5) แกลลอนหนึ่งแกลลอนจุน้ำ 24 ลิตร ถ้าฟาร์มมีน้ำ 6 แกลลอน
ฟาร์มมีน้ำทั้งหมดเท่าไร

กระดาษทด

ประโยคสัญลักษณ์ _____

ตอบ _____

เขียนประโยคสัญลักษณ์ แสดงวิธีทำ และหาคำตอบให้ถูกต้อง

ตัวอย่าง

ถังมีน้ำแดง 247 ลิตร มีน้ำเขียวมากกว่าน้ำแดง 98 ลิตร ถังมีน้ำเขียวเท่าไร

ประโยคสัญลักษณ์ _____ $247 + 98 = \square$

ถังมีน้ำแดง	2 4 7	ลิตร
	+	
มีน้ำเขียวมากกว่าน้ำแดง	<u>9 8</u>	ลิตร
ถังมีน้ำเขียว	<u><u>3 4 5</u></u>	ลิตร

ตอบ _____ **345 ลิตร**



(3) มายมีน้ำหวาน 20 ลิตร มีน้ำเปล่า 3 เท่าของน้ำหวาน มายมีน้ำเปล่าเท่าไร

ประโยคสัญลักษณ์ _____

ตอบ _____

(4) แม่มีน้ำหวาน 42 ลิตร แบ่งใส่กระติก 7 กระติก เท่า ๆ กัน แต่ละกระติกมีน้ำหวานเท่าไร

ประโยคสัญลักษณ์ _____

ตอบ _____

(5) คนงานขุดดินหนึ่งวันได้ 87 ลิตร ในเวลา 7 วัน คนงานขุดดินได้ทั้งหมดเท่าไร
ประโยชน์สัญลักษณ์_____

ตอบ_____

