

12

การตวง

12.1 แนะนำการตวงเบื้องต้น

ระบายสีตามที่โจทย์กำหนด

ตัวอย่าง

A bucket labeled '6l' is shown on the left. An arrow points to the right, where ten mugs, each labeled '3l', are arranged in two rows of five. The first two mugs in the top row are shaded grey, while the others are white.

(1)

A bottle labeled '3l' is shown on the left. An arrow points to the right, where ten mugs, each labeled '3l', are arranged in two rows of five. All mugs are white.

(2)

A bowl labeled '18l' is shown on the left. An arrow points to the right, where ten mugs, each labeled '3l', are arranged in two rows of five. All mugs are white.

(3)

A jar labeled '24l' is shown on the left. An arrow points to the right, where ten mugs, each labeled '3l', are arranged in two rows of five. All mugs are white.

(4)

A large container labeled '35l' is shown on the left. An arrow points to the right, where ten jugs, each labeled '5l', are arranged in two rows of five. All jugs are white.



เติมคำตอบลงในช่องว่างให้ถูกต้อง

ตัวอย่าง

$2 + 2 = 4$ ลิตร

(1)

= _____ ลิตร


(2)



= _____ ลิตร

(3)

= _____ ลิตร

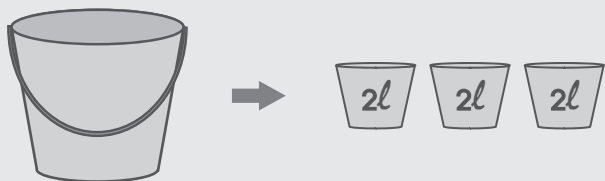


(4)  →  = _____ ลิตร

(5)  →  = _____ ลิตร

เติมคำตอบลงในช่องว่างให้ถูกต้อง



ตัวอย่าง



ถังน้ำมีความจุ _____ ๖ _____ ลิตร

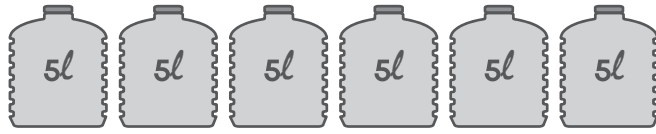
(1)  → 

กะละมังมีความจุ _____ ลิตร

(2)  → 


ตู้ปลามีความจุ _____ ลิตร

(3)



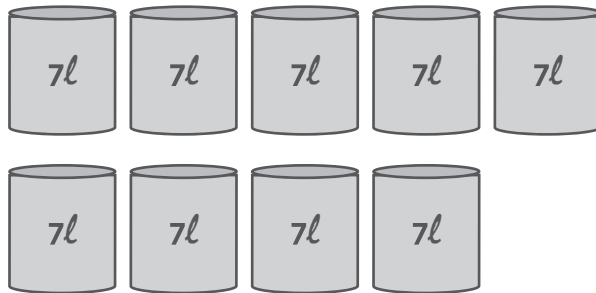
ที่กักน้ำมีความจุ _____ ลิตร

(4)



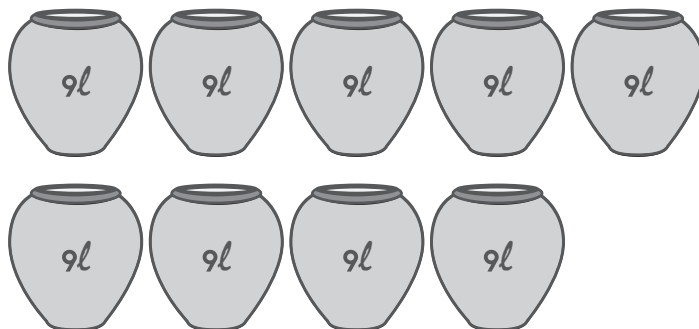
หม้อมีความจุ _____ ลิตร

(5)



ถังไม้มีความจุ _____ ลิตร


(6)



อ่างอาบน้ำมีความจุ _____ ลิตร

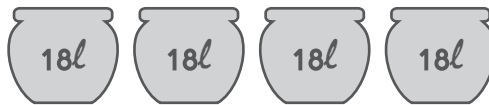


(7)



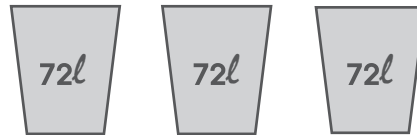
โถ่งมีความจุ _____ ลิตร

(8)



ถังนมมีความจุ _____ ลิตร

(9)



ถังน้ำมีความจุ _____ ลิตร

(10)



ถังน้ำมันมีความจุ _____ ลิตร