


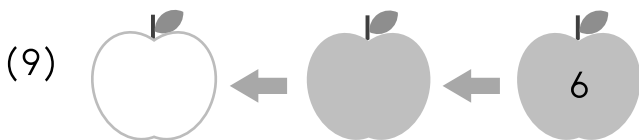
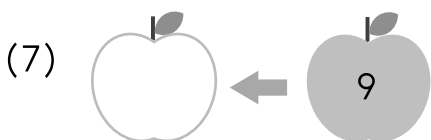
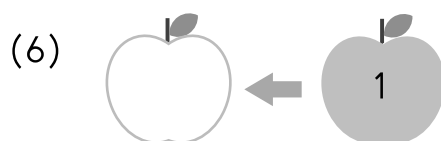
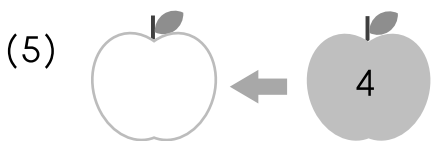
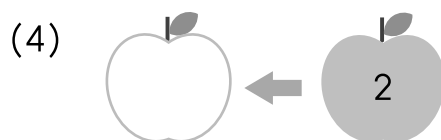
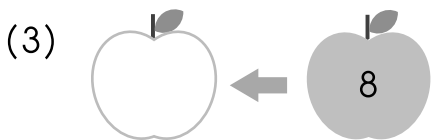
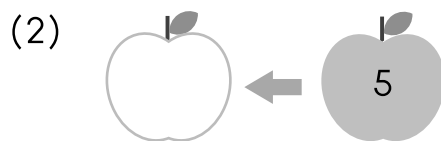
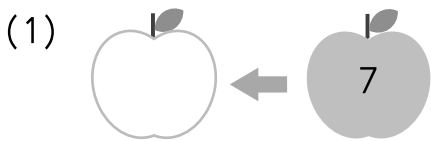


1.3 การนับถอยหลัง

เติมตัวเลขลำดับก่อนหน้าลงในช่องว่างให้ถูกต้อง



ตัวอย่าง





เติมคำตอบลงในช่องว่างให้ถูกต้อง

ตัวอย่าง

4	3	2	1
---	---	---	---

- (1) 8 7 5
- (2) 10 6 4
- (3) 7 3
- (4) 6 4 2
- (5) 9 7 6

เรียงลำดับจำนวนจากมากที่สุดไปน้อยที่สุด

ตัวอย่าง

8, 3, 5

ตอบ 8, 5, 3

(1) 6, 9, 10, 1 **ตอบ** _____

(2) 2, 5, 0, 7 **ตอบ** _____

(3) 4, 8, 9, 0, 10 **ตอบ** _____

(4) 10, 5, 2, 7, 4, 8, 9 **ตอบ** _____

(5) 6, 8, 4, 9, 10, 3, 1, 7 **ตอบ** _____