

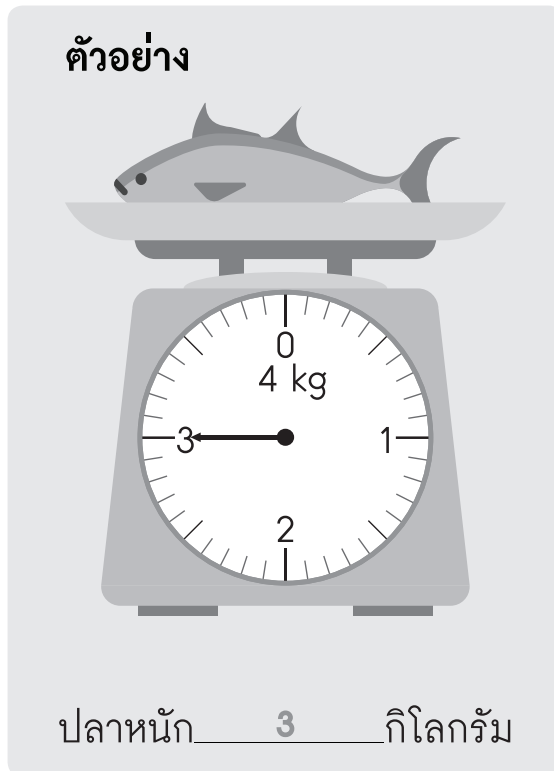
11

การชั่ง




11.1 แนะนำการชั่งเบื้องต้น

เติมคำตอบลงในช่องว่างให้ถูกต้อง




(1)




ข้าวหนัก _____ กรัม

(2)




ถุงกาแฟหนัก _____ กรัม

(3)



ข้าวโพคหนัก _____ กิโลกรัม _____ กรัม


(4)



ปูหนัก _____ กิโลกรัม _____ กรัม



(5)

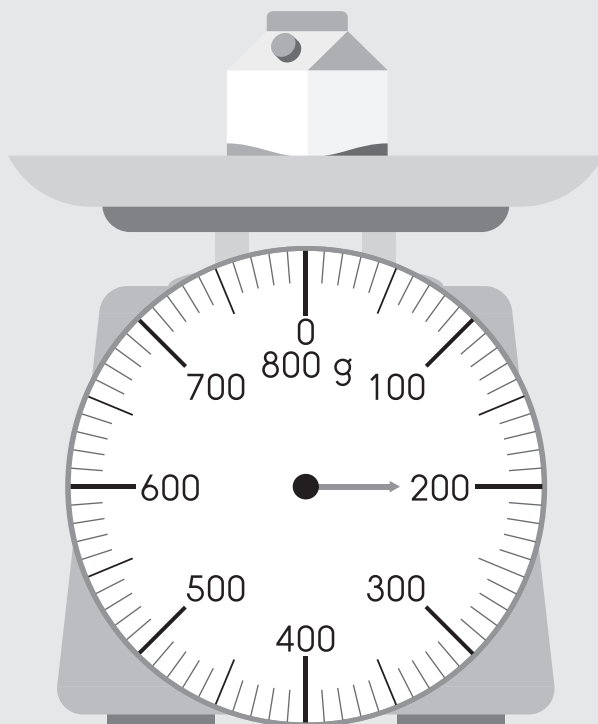


ผักทองหนัก _____ กิโลกรัม _____ กรัม

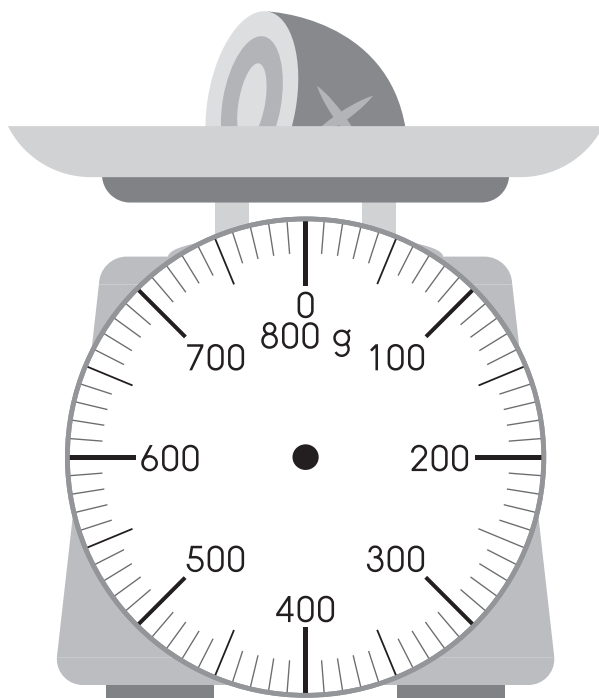
วาดเข็มเครื่องชั่งให้สอดคล้องกับน้ำหนักที่กำหนด

ตัวอย่าง

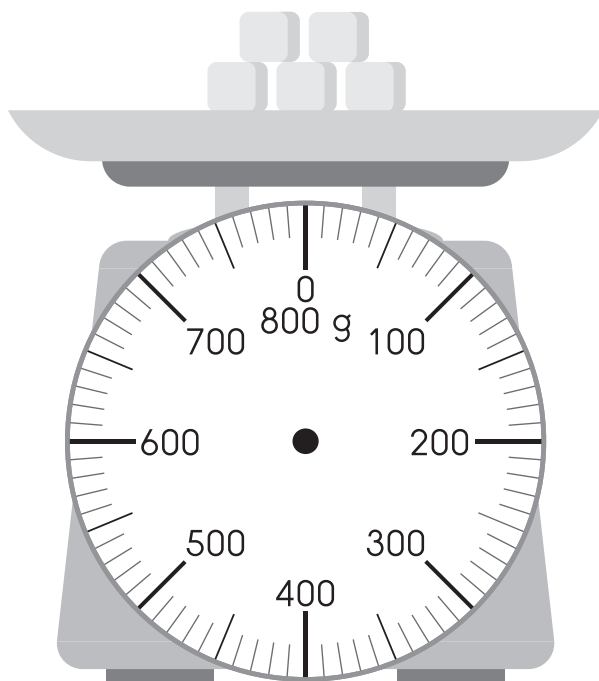
นมหนัก 200 กรัม



(1) เนื้อหนัก 500 กรัม

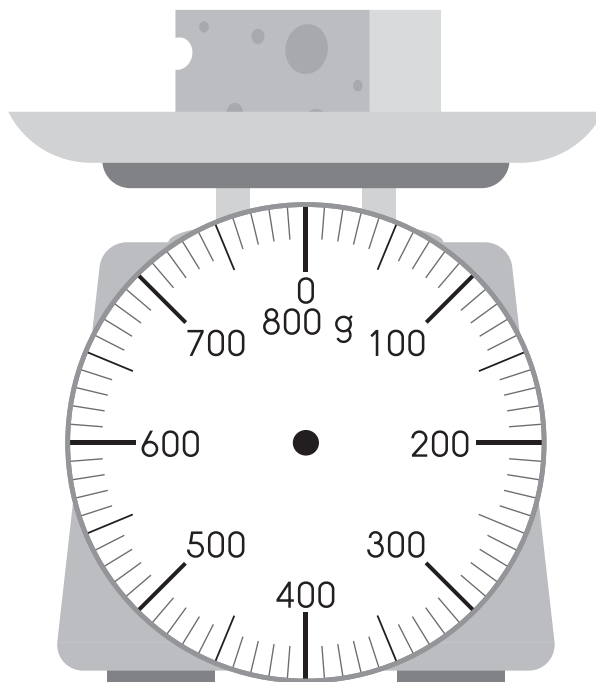


(2) น้ำตาลก้อนหนัก 150 กรัม

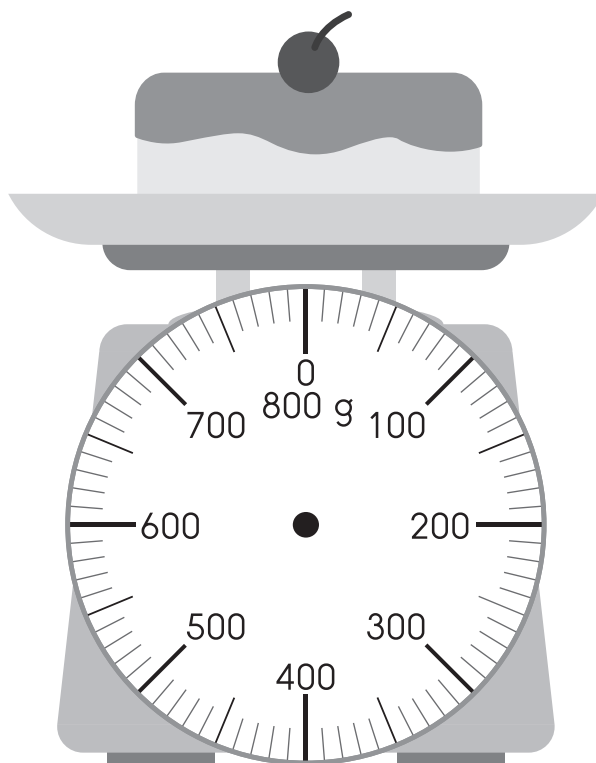




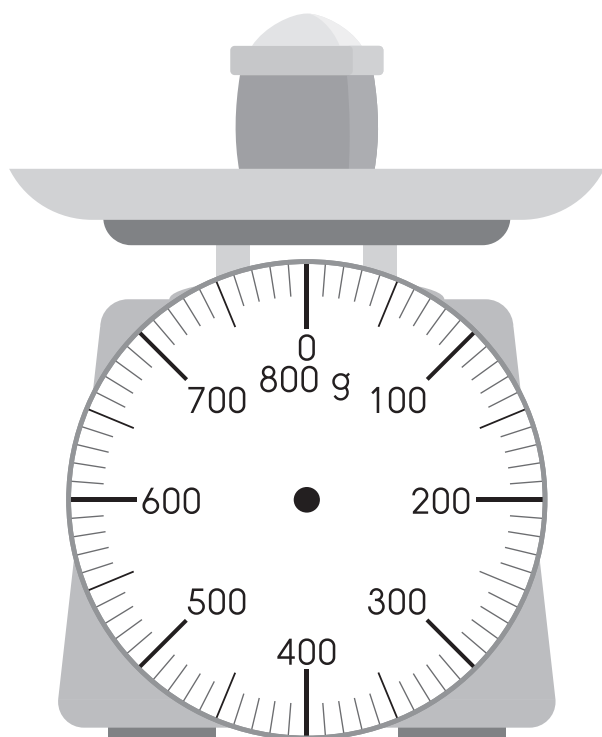
(3) ชีสหนัก 300 กรัม



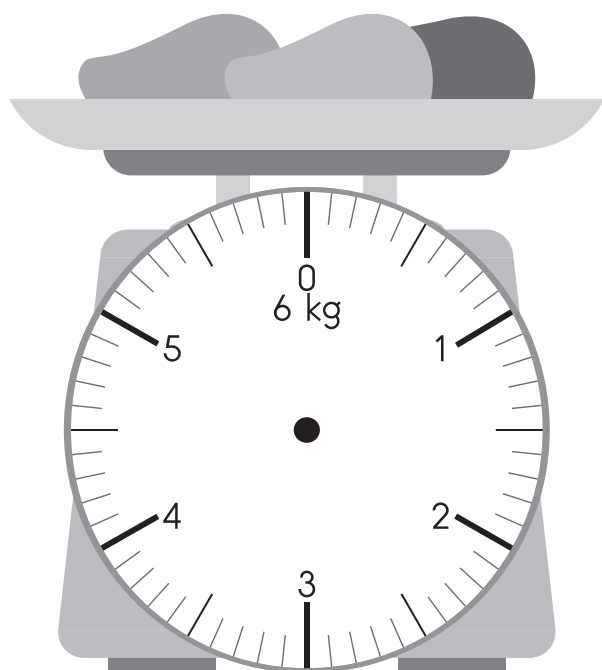
(4) เค้กหนัก 650 กรัม



(5) แป้งสาลีหนัก 470 กรัม




(6) มะม่วงหนัก 4 กิโลกรัม






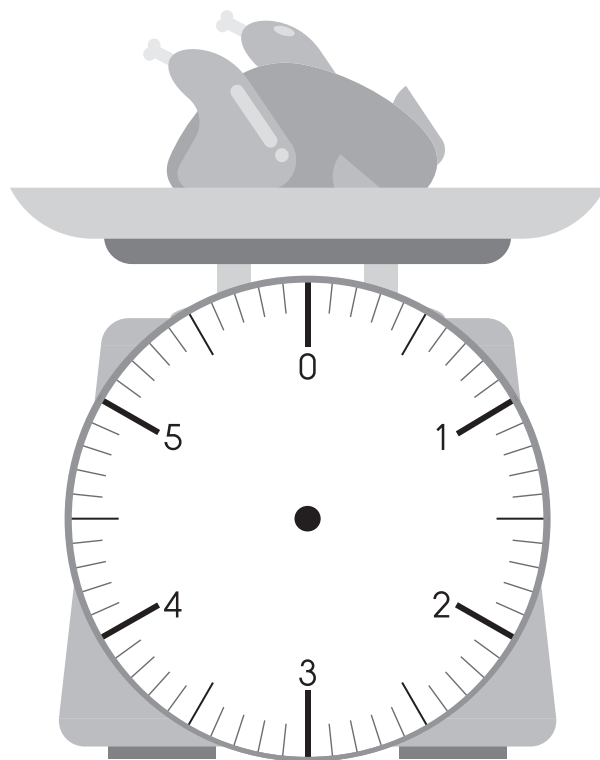
(7) แครอทหนัก 2 กิโลกรัม



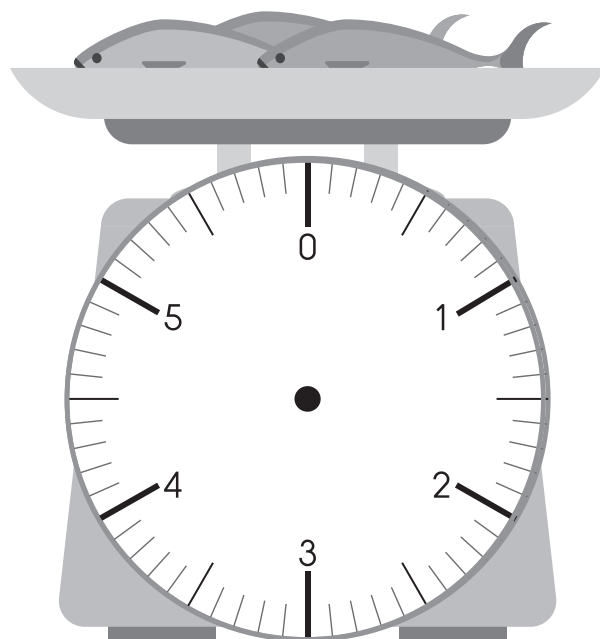
(8) แอปเปิ้ลหนัก 1 กิโลกรัม 5 ชีด



(9) ไก่หนัก 2 กิโลกรัม 4 ชีด



(10) ปลาหนัก 3 กิโลกรัม 9 ชีด





เติมคำตอบลงในช่องว่างให้ถูกต้อง

ตัวอย่าง แอปเปิ้ลหนักเท่าไร




กิโลกรัม	ขีด
6	2
-	5
1	2

แอปเปิ้ลหนัก 1 กิโลกรัม 2 ขีด

หรือ แอปเปิ้ลหนัก 1 กิโลกรัม 200 กรัม

(1) ส้มหนักเท่าไร

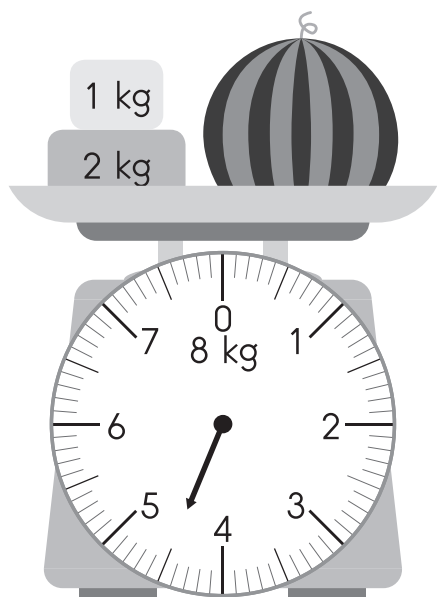


กิโลกรัม	ขีด

ส้มหนัก กิโลกรัม ขีด

หรือ ส้มหนัก กิโลกรัม กรัม

(2) แต่งโมนักเท่าไร

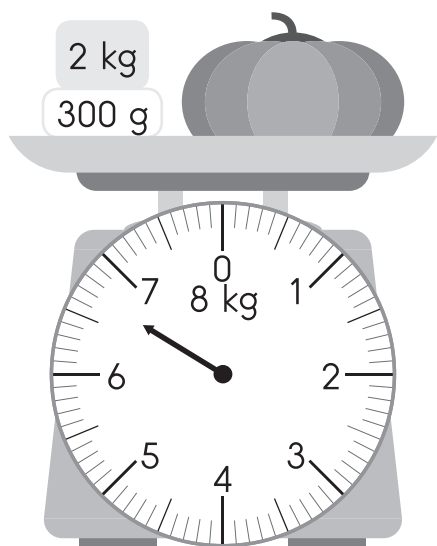


กิโลกรัม	จืด

แต่งโมนัก_____กิโลกรัม_____จืด

หรือ แต่งโมนัก_____กิโลกรัม_____กรัม

(3) ฟักทองหนักเท่าไร



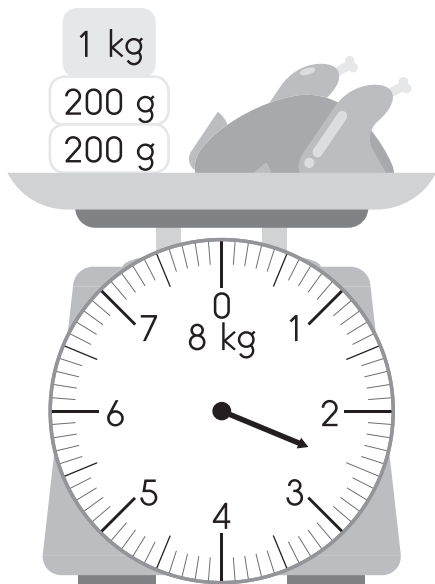
กิโลกรัม	จืด

ฟักทองหนัก_____กิโลกรัม_____จืด

หรือ ฟักทองหนัก_____กิโลกรัม_____กรัม



(4) ไก่หนักเท่าไร

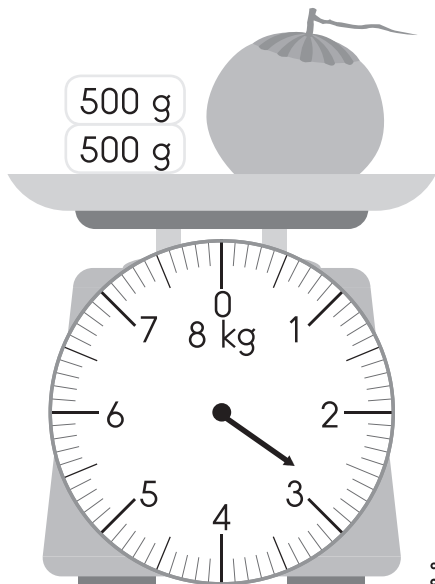


กิโลกรัม	ขีด

ไก่หนัก _____ กิโลกรัม _____ ขีด

หรือ ไก่หนัก _____ กิโลกรัม _____ กรัม

(5) มะพร้าวหนักเท่าไร



กิโลกรัม	ขีด

มะพร้าวหนัก _____ กิโลกรัม _____ ขีด

หรือ มะพร้าวหนัก _____ กิโลกรัม _____ กรัม