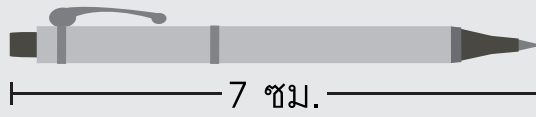
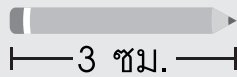





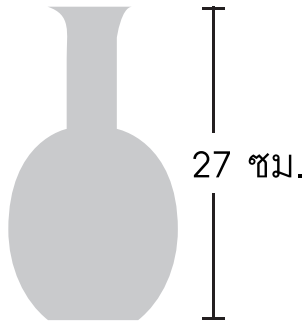
10.2 การเปรียบเทียบความยาวและความสูง

เติมคำตอบลงในช่องว่างให้ถูกต้อง

ตัวอย่าง




ดินสอ _____ สั้นกว่า _____ ปากกา



- (1) แจกั๋น _____ ที่สุค
- (2) ถ้ำย _____ กลอ๋งนม
- (3) กลอ๋งนม _____ แจกั๋น



24 ซม.



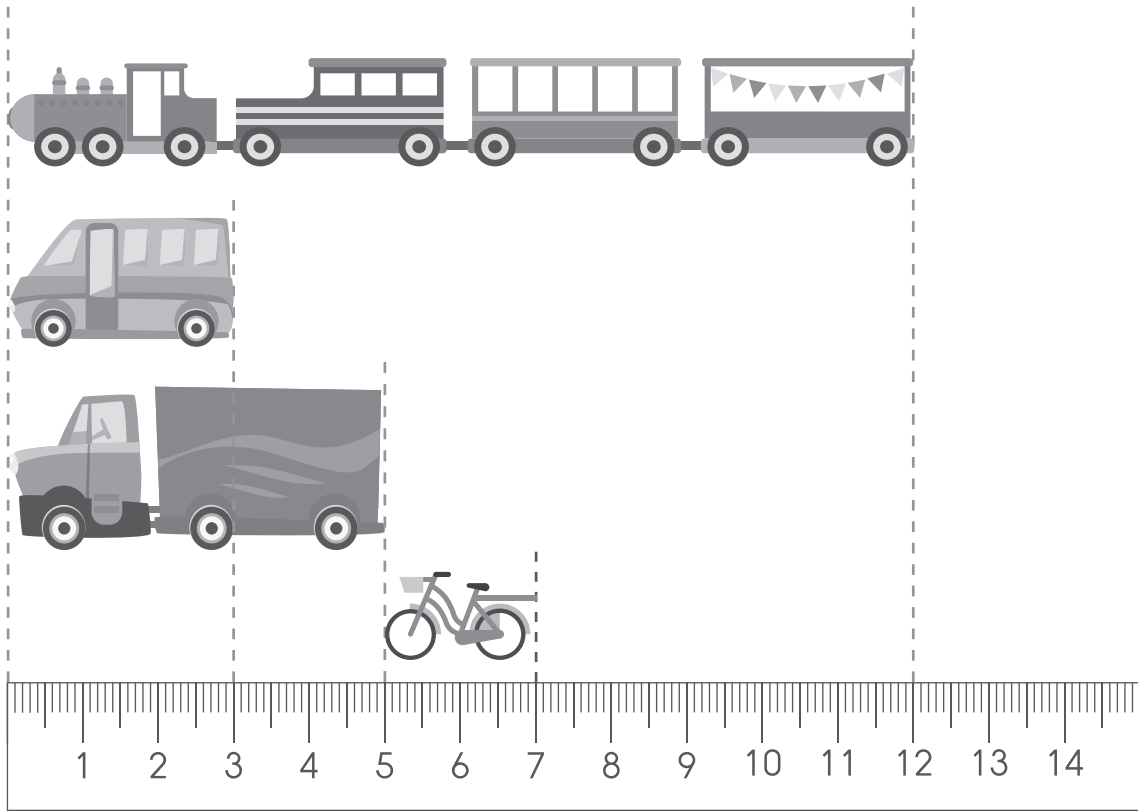
22 ซม.



29 ซม.

- (4) กรรไกร.....ที่สุด
- (5) พู่กัน.....กระเป๋าคินสอ
- (6) กรรไกร.....กระเป๋าคินสอ

เติมคำตอบลงในช่องว่างให้ถูกต้อง



(1) _____ ยาวที่สุด


(2) _____ สั้นที่สุด

(3) เรียงลำดับจากสั้นที่สุดไปยาวที่สุด



เติมคำตอบลงในช่องว่างให้ถูกต้อง

ตัวอย่าง



— 25 ซม. —



— 21 ซม. —

หนังสือ ยาวกว่า ซองจดหมาย อยู่ 4 เซนติเมตร



— 15 ซม. —

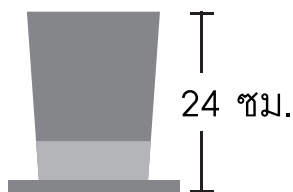


— 20 ซม. —



— 40 ซม. —

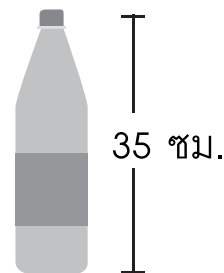
- (1) ขนมน้ำแข็ง _____ ซ็อกโกแลต อยู่ _____ เซนติเมตร
- (2) ไก่ทอด _____ ขนมน้ำแข็ง อยู่ _____ เซนติเมตร
- (3) ซ็อกโกแลต _____ ไก่ทอด อยู่ _____ เซนติเมตร



24 ซม.




18 ซม.



35 ซม.

- (4) ไอศกรีม _____ หมวก อยู่ _____ เซนติเมตร
- (5) ขวดน้ำ _____ ไอศกรีม อยู่ _____ เซนติเมตร
- (6) หมวก _____ ขวดน้ำ อยู่ _____ เซนติเมตร

เติมคำตอบลงในช่องว่างให้ถูกต้อง



ตัวอย่าง

แม่สูงกว่าพี่ชาย 22 เซนติเมตร

- (1) _____ สูงที่สุด สูง _____ เซนติเมตร
- (2) _____ เตี้ยที่สุด สูง _____ เซนติเมตร
- (3) พี่ชายเตี้ยกว่า _____ อยู่ 35 เซนติเมตร
- (4) พี่ชาย _____ น้องสาว _____ เซนติเมตร
- (5) น้องสาว _____ แม่ _____ เซนติเมตร