




9.3 โจทย์ปัญหาการหาร

เขียนประโยคสัญลักษณ์และหาคำตอบให้ถูกต้อง

ตัวอย่าง

แม่มีส้ม 12 ผล แบ่งให้ลูก 4 คนเท่า ๆ กัน แต่ละคนจะได้ส้มกี่ผล




ประโยคสัญลักษณ์ $12 \div 4 = \square$

ตอบ 3 ผล

ตรวจคำตอบ $3 \times 4 = 12$

- (1) พี่พายมีอมยิ้ม 15 อัน แบ่งให้เด็ก 3 คน คนละเท่า ๆ กัน แต่ละคน
จะได้อมยิ้มกี่อัน



ประโยคสัญลักษณ์ _____

ตอบ _____

ตรวจคำตอบ _____



(2) หนูคีมี่ตุ๊กตา 18 ตัว จัดเป็นแถว แถวละ 9 ตัว จะได้ตุ๊กตาก็แถว






ประโยคสัญลักษณ์ _____

ตอบ _____

ตรวจคำตอบ _____

(3) ป้ามีคุกกี้ 24 ชิ้น จัดใส่กล่อง 4 กล่อง กล่องละเท่า ๆ กัน แต่ละกล่องจะมี คุกกี้กี่ชิ้น



ประโยคสัญลักษณ์ _____

ตอบ _____

ตรวจคำตอบ _____

- (4) ฟ้ายามีลูกแก้ว 14 ลูก แบ่งให้เพื่อนคนละ 4 ลูก ฟ้ายาแบ่งลูกแก้วให้เพื่อนกี่คนและฟ้ายาเหลือลูกแก้วกี่ลูก

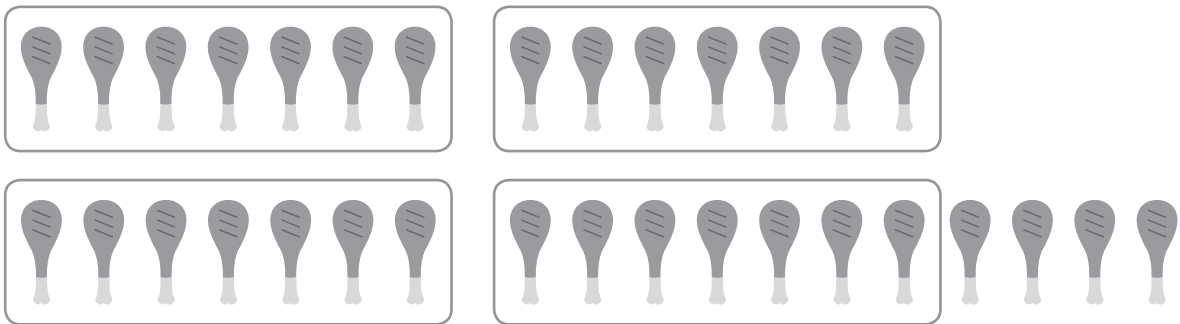


ประโยคสัญลักษณ์ _____

ตอบ _____

ตรวจคำตอบ _____

- (5) ป้าศรีทอคนองไก่ 32 น่อง แจกให้เด็ก 7 คน คนละเท่า ๆ กัน แต่ละคนจะได้น่องไก่คนละกี่น่องและป้าศรีเหลือน่องไก่อีกกี่น่อง



ประโยคสัญลักษณ์ _____

ตอบ _____

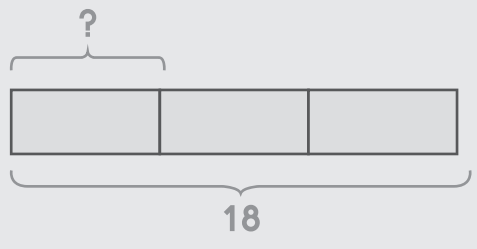
ตรวจคำตอบ _____



เขียนประโยคสัญลักษณ์และหาคำตอบให้ถูกต้อง

ตัวอย่าง

มีช้อน 18 คัน แบ่งเป็น 3 กอง กองละเท่า ๆ กัน แต่ละกองจะมีช้อนกี่คัน



ประโยคสัญลักษณ์ _____ $18 \div 3 = \square$

ตอบ _____ 6 คัน

ตรวจคำตอบ _____ $6 \times 3 = 18$

(1) แม่ค้ามีมังคุด 21 ผล แบ่งใส่ถุง 7 ถุง ถุงละเท่า ๆ กัน แต่ละถุงจะมีมังคุดกี่ผล

ประโยคสัญลักษณ์ _____

ตอบ _____

ตรวจคำตอบ _____

(2) พ่อค้ามีลูกโป่ง 40 ลูก แบ่งให้เด็ก 8 คน คนละเท่า ๆ กัน จะได้ลูกโป่งคนละกี่ลูก

ประโยคสัญลักษณ์ _____

ตอบ _____

ตรวจคำตอบ _____

(3) พ่อซื้อต้นไม้มา 54 ต้น ปลูกเป็น 6 แถว แถวละเท่า ๆ กัน จะได้แถวละกี่ต้น

ประโยคสัญลักษณ์ _____

ตอบ _____

ตรวจคำตอบ _____



- (4) มานพมีเงินมา 63 บาท ต้องการซื้อขนมชิ้นละ 9 บาท มานพจะซื้อขนมได้ทั้งหมดกี่ชิ้น

ประโยคสัญลักษณ์ _____

ตอบ _____

ตรวจคำตอบ _____

- (5) แม่ค้ามีลูกชิ้น 64 ลูก เสียบใส่ไม้ ไม้ละ 8 ลูก แม่ค้าจะได้ลูกชิ้นทั้งหมดกี่ไม้

ประโยคสัญลักษณ์ _____

ตอบ _____

ตรวจคำตอบ _____

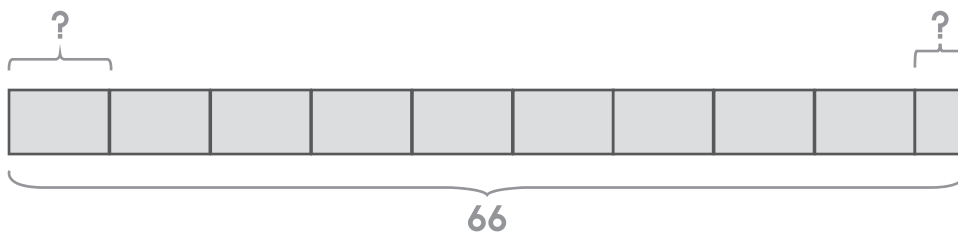
- (6) พ่อเก็บไข่ไก่ได้ 39 ฟอง จักใส่ 4 ตะกร้า ตะกร้าละเท่า ๆ กัน จะได้ตะกร้า
ละกี่ฟองและเหลือไข่ไก่ที่ไม่ได้ใส่ในตะกร้ากี่ฟอง

ประโยคสัญลักษณ์ _____

ตอบ _____

ตรวจคำตอบ _____

- (7) ภารโรงมีแก้ว 66 ตัว จักเป็น 9 แถว แถวละเท่า ๆ กัน แต่ละแถว
มีแก้วกี่ตัวและเหลือแก้วที่ไม่ได้จักเป็นแถวกี่ตัว



ประโยคสัญลักษณ์ _____

ตอบ _____

ตรวจคำตอบ _____



- (8) แม่ค้ามีปลาหู 59 ตัว แบ่งใส่เป่ง 6 เป่ง เป่งละเท่า ๆ กัน แต่ละเป่งจะมีปลาหูกี่ตัวและเหลือปลาหูที่ไม่ได้ใส่ในเป่งกี่ตัว

ประโยคสัญลักษณ์ _____

ตอบ _____

ตรวจคำตอบ _____

- (9) แม่มีลูกปัด 76 ลูก เอามาร้อยเป็นกำไล กำไลละ 7 ลูก แม่จะได้กำไลทั้งหมดกี่วงและเหลือลูกปัดกี่ลูก

ประโยคสัญลักษณ์ _____

ตอบ _____

ตรวจคำตอบ _____

(10) หนูนามีดอกดาวเรือง 54 ดอก ร้อยเป็นพวงมาลัย พวงละ 8 ดอก หนูนานจะ
ได้พวงมาลัยทั้งหมดกี่พวงและเหลือดอกดาวเรืองกี่ดอก

ประโยคสัญลักษณ์ _____

ตอบ _____

ตรวจคำตอบ _____

เขียนประโยคสัญลักษณ์ แสดงวิธีทำ และหาคำตอบให้ถูกต้อง

ตัวอย่าง

แม่ค้ามีมะนาว 20 ลูก แบ่งใส่ถุง ถุงละ 5 ลูก แม่ค้าจะได้มะนาวกี่ถุง

ประโยคสัญลักษณ์ _____ $20 \div 5 = \square$ _____

แม่ค้ามีมะนาว 2 0 ลูก

แบ่งใส่ถุง ถุงละ 4 ลูก

แม่ค้าจะได้มะนาว $20 \div 5 = 4$ ถุง

ตอบ _____ **4** ถุง _____



- (1) ชาวสวนซื้อต้นกุหลาบมา 40 ต้น ปลูกเป็นแถว แถวละ 5 ต้น
จะปลูกได้ทั้งหมดกี่แถว

ประโยคสัญลักษณ์ _____

ชาวสวนซื้อต้นกุหลาบมา	ต้น
ปลูกเป็นแถว แถวละ	ต้น
จะปลูกได้ทั้งหมด	แถว

ตอบ _____

- (2) มีลูกอม 18 เม็ด แจกใส่โหล 3 โหลเท่า ๆ กัน จะได้ลูกอมโหลละกี่เม็ด

ประโยคสัญลักษณ์ _____

มีลูกอม	เม็ด
แจกใส่โหล	โหล
จะได้ลูกอมโหลละ	เม็ด

ตอบ _____

- (3) ยายทำขนม 32 ชิ้น แจกใส่ 6 ถุง ถุงละเท่า ๆ กัน จะได้ทั้งหมดกี่ถุง และเหลือขนมกี่ชิ้น

ประโยคสัญลักษณ์ _____

ยายทำขนม

ชิ้น

แจกใส่ถุง

ชิ้น

จะได้

ตอบ _____

- (4) ซาลีมีเงิน 65 บาท ซื้อของเล่นชิ้นละ 7 บาท จะซื้อของเล่นได้กี่ชิ้น และเหลือเงินกี่บาท

ประโยคสัญลักษณ์ _____

ตอบ _____



(5) ข้าวง้างซื้อดอกไม้มา 72 ดอก จัดใส่แจกัน 9 ใบ ใบละเท่า ๆ กัน
แจกันแต่ละใบจะมีดอกไม้กี่ดอก

ประโยคสัญลักษณ์ _____

ตอบ _____

