

7

การคูณ (ตอนที่ 2)

7.1 การคูณด้วย 2

จากภาพ เขียนแสดงวิธีการบวกและคูณให้ถูกต้อง

ตัวอย่าง

มีพิซซ่า 3 ถาด ถาดละ 2 ชิ้น



มีพิซซ่าทั้งหมด $2 + 2 + 2 = 6$ ชิ้น

หรือ $3 \times 2 = 6$ ชิ้น

(1) มีนก 2 กลุ่ม กลุ่มละ 2 ตัว



มีนกทั้งหมด $2 + 2 =$ _____ ตัว

หรือ $2 \times 2 =$ _____ ตัว


(2) มีไข่ 4 กลุ่ม กลุ่มละ 2 ฟอง



มีไข่ทั้งหมด $2 + 2 + 2 + 2 =$ _____ ฟอง

หรือ $4 \times 2 =$ _____ ฟอง

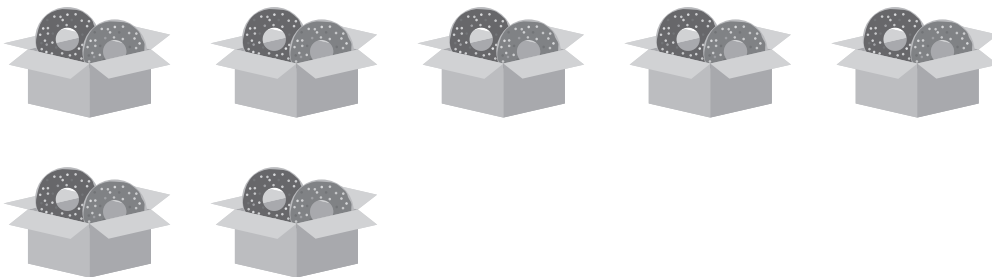
(3) มีมะเขือเทศ 5 กลุ่ม กลุ่มละ 2 ผล



มีมะเขือเทศทั้งหมด _____ ผล

หรือ _____ ผล

(4) มีโดนัท 7 กล่อง กล่องละ 2 ชิ้น



มีโดนัททั้งหมด _____ ชิ้น

หรือ _____ ชิ้น



(5) มีปู 9 กลุ่ม กลุ่มละ 2 ตัว

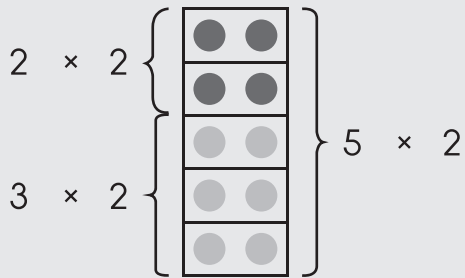


มีปูทั้งหมด _____ ตัว

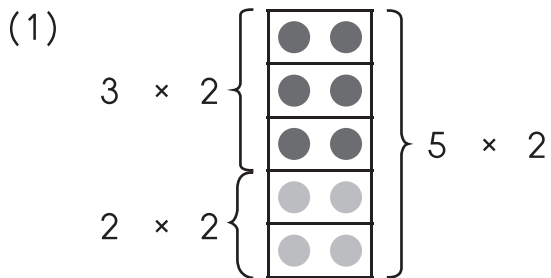
หรือ _____ ตัว

เติมคำตอบลงในช่องว่างให้ถูกต้อง

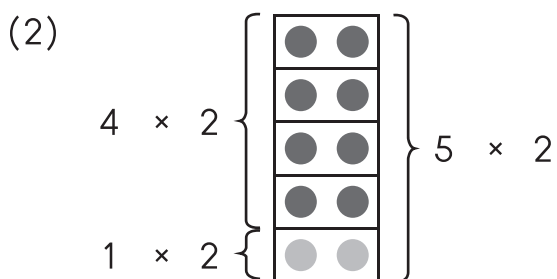
ตัวอย่าง



$$\begin{aligned}
 2 \times 2 &= 5 \times 2 - 3 \times 2 \\
 &= 10 - 6 \\
 &= 4
 \end{aligned}$$



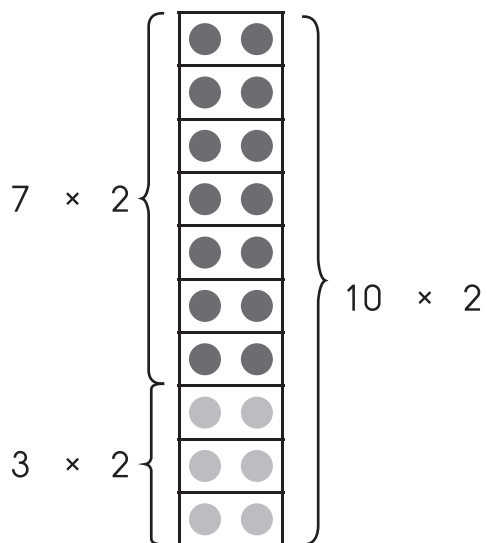
$$\begin{aligned}
 3 \times 2 &= \square - \square \\
 &= \square - \square \\
 &= \square
 \end{aligned}$$



$$\begin{aligned}
 4 \times 2 &= \square - \square \\
 &= \square - \square \\
 &= \square
 \end{aligned}$$



(3)

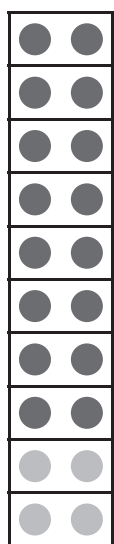


$$7 \times 2 = \square - \square$$

$$= \square - \square$$

$$= \square$$

(4)

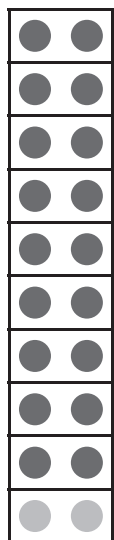


$$8 \times 2 = \square - \square$$

$$= \square - \square$$

$$= \square$$

(5)

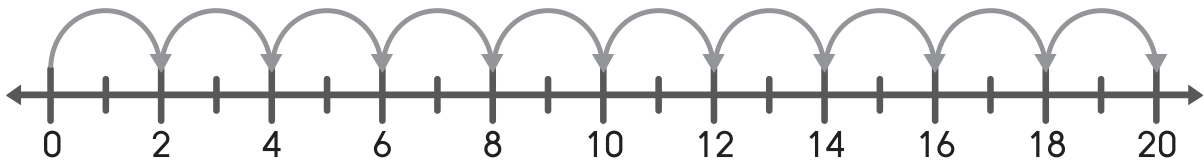


$$9 \times 2 = \square - \square$$

$$= \square - \square$$

$$= \square$$

เติมคำตอบลงในช่องว่างให้ถูกต้อง



ตัวอย่าง $1 \times 2 =$

(1) $5 \times 2 =$

(2) $3 \times 2 =$

(3) $7 \times 2 =$

(4) $2 \times 2 =$

(5) $9 \times 2 =$

(6) $10 \times 2 =$

(7) $6 \times 2 =$

(8) $8 \times 2 =$

(9) $4 \times 2 =$

(10) $0 \times 2 =$