

5.4

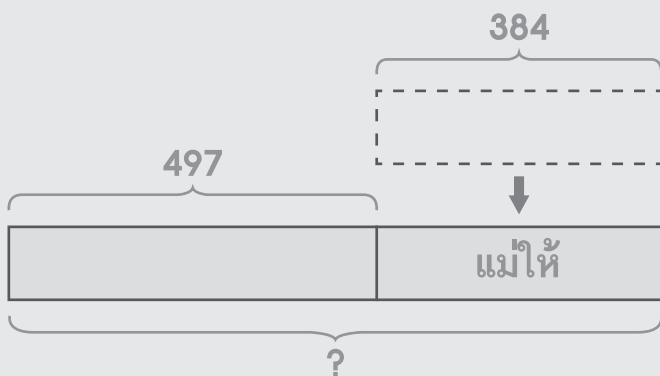
โจทย์ปัญหา 2 ขั้นตอน

วาดรูป เขียนประโยคสัญลักษณ์ และหาคำตอบให้ถูกต้อง

ตัวอย่าง

มีเค้ก 497 ชิ้น แม่ให้อีก 384 ชิ้น ขายไป 498 ชิ้น เหลือเค้กกี่ชิ้น

ขั้นที่ 1 มีเค้กทั้งหมดกี่ชิ้น



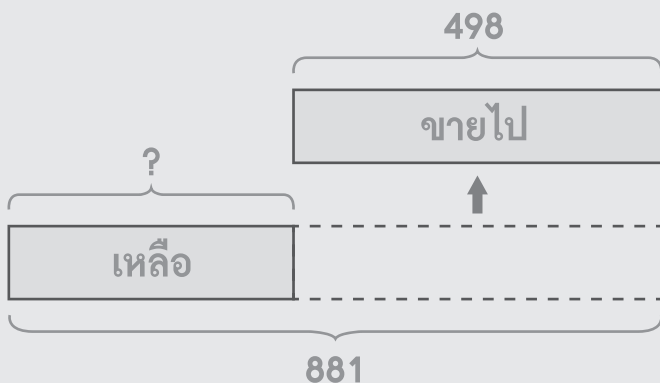
กระดาษทด

4	9	7	
			+
3	8	4	
8	8	1	

ประโยคสัญลักษณ์ $497 + 384 = \square$

ตอบ 881 ชิ้น

ขั้นที่ 2 เหลือเค้กกี่ชิ้น



กระดาษทด

8	8	1	
			-
4	9	8	
3	8	3	

ประโยคสัญลักษณ์ $881 - 498 = \square$

ตอบ 383 ชิ้น



(1) มีลูกแก้ว 569 ลูก แม่ให้อีก 391 ลูก ให้น้องไป 432 ลูก เหลือลูกแก้วกี่ลูก
ขั้นที่ 1 มีลูกแก้วทั้งหมดกี่ลูก

กระดาษทด

ประโยคสัญลักษณ์ _____

ตอบ _____

ขั้นที่ 2 เหลือลูกแก้วกี่ลูก

กระดาษทด

ประโยคสัญลักษณ์ _____

ตอบ _____

(2) มีมะม่วง 483 ผล ซื้อเพิ่มอีก 446 ผล กินไป 685 ผล เหลือมะม่วงกี่ผล
ขั้นที่ 1 มีมะม่วงทั้งหมดกี่ผล

กระดาษทด

ประโยคสัญลักษณ์ _____

ตอบ _____

ขั้นที่ 2 เหลือมะม่วงกี่ผล

กระดาษทด

ประโยคสัญลักษณ์ _____

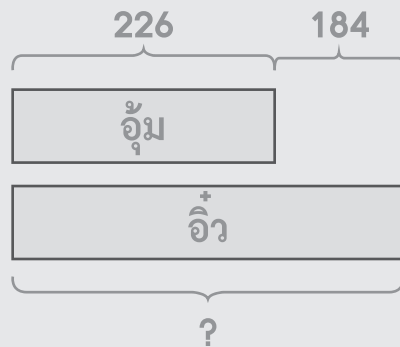
ตอบ _____



ตัวอย่าง

อ้อมมีลูกอม 226 เม็ด อีวมีลูกอมมากกว่าอ้อม 184 เม็ด ทั้งสองคนมีลูกอมรวมกันกี่เม็ด

ขั้นที่ 1 อีวมีลูกอมกี่เม็ด



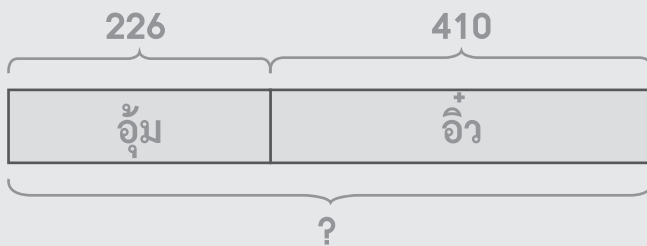
กระดาษทด

2	2	6	
			+
1	8	4	
4	1	0	

ประโยคสัญลักษณ์ $226 + 184 = \square$

ตอบ 410 เม็ด

ขั้นที่ 2 ทั้งสองคนมีลูกอมรวมกันทั้งหมดกี่เม็ด



กระดาษทด

2	2	6	
			+
4	1	0	
6	3	6	

ประโยคสัญลักษณ์ $226 + 410 = \square$

ตอบ 636 เม็ด

(3) ปีวมีหนังสือ 397 เล่ม เปามีหนังสือมากกว่าปีว 102 เล่ม ทั้งสองคน
มีหนังสือรวมกันทั้งหมดกี่เล่ม

ขั้นที่ 1 เปามีหนังสือกี่เล่ม

กระดาษทด

ประโยคสัญลักษณ์ _____

ตอบ _____

ขั้นที่ 2 ทั้งสองคนมีหนังสือรวมกันทั้งหมดกี่เล่ม

กระดาษทด

ประโยคสัญลักษณ์ _____

ตอบ _____



(4) บิวมีข้าว 317 กระสอบ คิวมีข้าวมากกว่าบิว 219 กระสอบ ทั้งสองคน
มีข้าวรวมกันทั้งหมดกี่กระสอบ

ขั้นที่ 1 คิวมีข้าวกี่กระสอบ

กระดาษทด

ประโยคสัญลักษณ์ _____

ตอบ _____

ขั้นที่ 2 ทั้งสองคนมีข้าวรวมกันทั้งหมดกี่กระสอบ

กระดาษทด

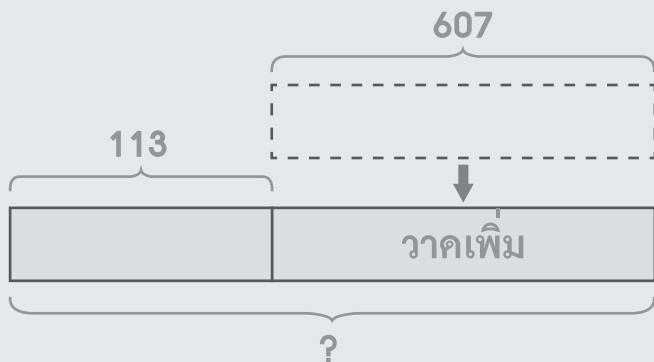
ประโยคสัญลักษณ์ _____

ตอบ _____

ตัวอย่าง

เคมออนมีรูปภาพ 113 รูป หลังจากที่เขาซื้อเพิ่มอีก 607 รูป เคมออนมีรูปภาพมากกว่าลูแปง 488 รูป ลูแปงมีรูปภาพกี่รูป

ขั้นที่ 1 เคมออนมีรูปภาพทั้งหมดกี่รูป

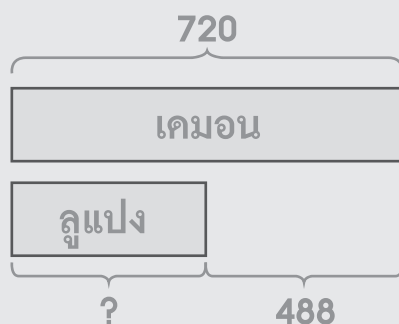


กระดาษทด		
1	1	3
		+
6	0	7
<hr/>		
7	2	0
<hr/> <hr/>		

ประโยคสัญลักษณ์ $113 + 607 = \square$

ตอบ 720 รูป

ขั้นที่ 2 ลูแปงมีรูปภาพกี่รูป



กระดาษทด		
7	2	0
		-
4	8	8
<hr/>		
2	3	2
<hr/> <hr/>		

ประโยคสัญลักษณ์ $720 - 488 = \square$

ตอบ 232 รูป



(5) ป๊อมีหนังสือ 397 เล่ม เปามีหนังสือมากกว่าป๊อ 102 เล่ม ทั้งสองคนมีหนังสือรวมกันทั้งหมดกี่เล่ม

ขั้นที่ 1 เปามีหนังสือกี่เล่ม

กระดาษทด

ประโยคสัญลักษณ์ _____

ตอบ _____

ขั้นที่ 2 ทั้งสองคนมีหนังสือรวมกันทั้งหมดกี่เล่ม

กระดาษทด

ประโยคสัญลักษณ์ _____

ตอบ _____

(6) บาสมีกระดาษ 264 แผ่น หลังจากที่เพื่อนให้มาเพิ่ม 500 แผ่น บาสมี
กระดาษมากกว่าแคน 321 แผ่น แคนมีกระดาษกี่แผ่น

ขั้นที่ 1 บาสมีกระดาษทั้งหมดกี่แผ่น

กระดาษทด

ประโยคสัญลักษณ์ _____

ตอบ _____

ขั้นที่ 2 แคนมีกระดาษกี่แผ่น

กระดาษทด

ประโยคสัญลักษณ์ _____

ตอบ _____



(7) บัวพับควาได้ 397 ดวง หลังจากนั้นพับเพิ่มได้อีก 308 ดวง
บัวมีควาน้อยกว่าปี่ม 261 ดวง ปี่มมีควากี่ดวง

ขั้นที่ 1 บัวพับควาได้ทั้งหมดกี่ดวง

กระดาษทด

ประโยคสัญลักษณ์ _____

ตอบ _____

ขั้นที่ 2 ปี่มมีควากี่ดวง

กระดาษทด

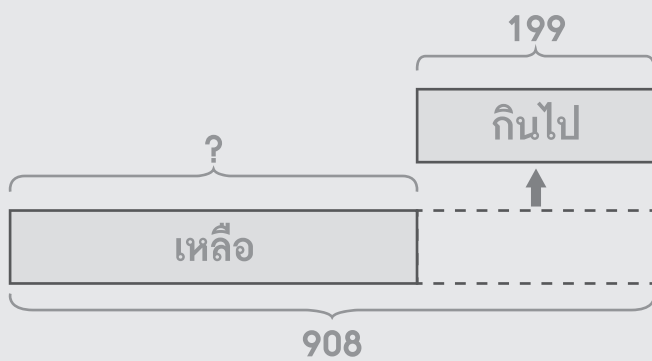
ประโยคสัญลักษณ์ _____

ตอบ _____

ตัวอย่าง

ลิซ่ามีโคนัท 908 ชิ้น หลังจากที่ยกไป 199 ชิ้น ลิซ่ามีโคนัทมากกว่าโรเซ่ 542 ชิ้น โรเซ่มีโคนัทกี่ชิ้น

ขั้นที่ 1 ลิซ่าเหลือโคนัทกี่ชิ้น

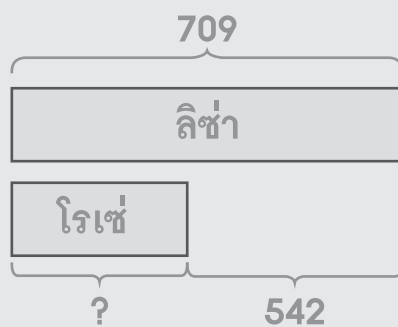


กระดาษทด		
9	0	8
		-
1	9	9
<hr/>		
7	0	9
<hr/> <hr/>		

ประโยคสัญลักษณ์ $908 - 199 = \square$

ตอบ 709 ชิ้น

ขั้นที่ 2 โรเซ่มีโคนัทกี่ชิ้น



กระดาษทด		
7	0	9
		-
5	4	2
<hr/>		
1	6	7
<hr/> <hr/>		

ประโยคสัญลักษณ์ $720 - 542 = \square$

ตอบ 167 ชิ้น



(8) แสงก็มีซาเจียว 706 ขวด หลังจากที่ได้มีไป 389 ขวด แสงก็มีซาเจียวมากกว่า
แมตต์ 118 ขวด แมตต์มีซาเจียวกี่ขวด

ขั้นที่ 1 แสงก็มีซาเจียวกี่ขวด

กระดาษทด

ประโยคสัญลักษณ์ _____

ตอบ _____

ขั้นที่ 2 แมตต์มีซาเจียวกี่ขวด

กระดาษทด

ประโยคสัญลักษณ์ _____

ตอบ _____

(9) จีวมี่น้ำมัน 526 ขวด หลังจากที่ใช้ไป 358 ขวด จีวมี่น้ำมันน้อยกว่าแจ้ว 397 ขวด แจ้วมีน้ำมันกี่ขวด

ขั้นที่ 1 จี้วเหลือน้ำมันกี่ขวด

กระดาษทด

ประโยคสัญลักษณ์ _____

ตอบ _____

ขั้นที่ 2 แจ้วมีน้ำมันกี่ขวด

กระดาษทด

ประโยคสัญลักษณ์ _____

ตอบ _____



(10) กานมีเชือก 959 เส้น หลังจากที้นำเชือกไปใช้ 427 เส้น เชือกของกานมี
จำนวนมากกว่าเชือกของกีฟ 195 เส้น กีฟมีเชือกกี่เส้น

ขั้นที่ 1 กานเหลือเชือกกี่เส้น

กระดาษทด

ประโยคสัญลักษณ์ _____

ตอบ _____

ขั้นที่ 2 กีฟมีเชือกกี่เส้น

กระดาษทด

ประโยคสัญลักษณ์ _____

ตอบ _____

เขียนประโยคสัญลักษณ์ แสดงวิธีทำ และหาคำตอบให้ถูกต้อง

ตัวอย่าง

แนนซี่มีขนม 362 ถูง ซื้อเพิ่มอีก 409 ถูง แบ่งให้น้องชายไป 578 ถูง
แนนซี่เหลือขนมกี่ถูง

ขั้นที่ 1 แนนซี่มีขนมทั้งหมดกี่ถูง

ประโยคสัญลักษณ์ $362 + 409 = \square$

แนนซี่มีขนม	3 6 2	ถูง
		+
ซื้อเพิ่มอีก	<u>4 0 9</u>	ถูง
แนนซี่มีขนมทั้งหมด	<u><u>7 7 1</u></u>	ถูง

ตอบ 771 ถูง

ขั้นที่ 2 แนนซี่เหลือขนมกี่ถูง

ประโยคสัญลักษณ์ $771 - 578 = \square$

แนนซี่มีขนม	7 7 1	ถูง
		-
แบ่งให้น้องชายไป	<u>5 7 8</u>	ถูง
แนนซี่เหลือขนม	<u><u>1 9 3</u></u>	ถูง

ตอบ 193 ถูง



(1) พู่ก้ามีเต้าหู้ 215 ก้อน มารีนให้เต้าหู้เพิ่มอีก 231 ก้อน พู่ก้าใช้เต้าหู้ไปทำอาหาร 240 ก้อน พู่ก้าเหลือเต้าหู้กี่ก้อน

ขั้นที่ 1 พู่ก้ามีเต้าหู้ทั้งหมดกี่ก้อน

ประโยคสัญลักษณ์ _____

พู่ก้ามีเต้าหู้ _____ ก้อน

มารีนให้เต้าหู้เพิ่มอีก _____ ก้อน

พู่ก้ามีเต้าหู้ทั้งหมด _____ ก้อน

ตอบ _____

ขั้นที่ 2 พู่ก้าเหลือเต้าหู้กี่ก้อน

ประโยคสัญลักษณ์ _____

พู่ก้ามีเต้าหู้ทั้งหมด _____ ก้อน

พู่ก้าใช้เต้าหู้ไปทำอาหาร _____ ก้อน

พู่ก้าเหลือเต้าหู้ _____ ก้อน

ตอบ _____

(2) มายมีคินสอ 178 แห่ง แม่ซื้อให้เพิ่ม 361 แห่ง ทำหายไป 246 แห่ง
มายเหลือคินสอกี่แห่ง

ขั้นที่ 1 มายมีคินสอทั้งหมดกี่แห่ง

ประโยคสัญลักษณ์ _____

มายมีคินสอ _____ แห่ง

แม่ซื้อให้เพิ่ม _____ แห่ง

มายมีคินสอทั้งหมด _____ แห่ง

ตอบ _____

ขั้นที่ 2 มายเหลือคินสอกี่แห่ง

ประโยคสัญลักษณ์ _____

มายมีคินสอทั้งหมด _____ แห่ง

ทำหายไป _____ แห่ง

มายเหลือคินสอ _____ แห่ง

ตอบ _____



(3) ลุงเลี้ยงไก่ 357 ตัว เลี้ยงเป็ดมากกว่าเลี้ยงไก่ 234 ตัว ลุงเลี้ยงเป็ดและไก่รวมกันทั้งหมดกี่ตัว

ขั้นที่ 1 ลุงเลี้ยงเป็ดกี่ตัว

ประโยคสัญลักษณ์ _____

ลุงเลี้ยงไก่ ตัว

เลี้ยงเป็ดมากกว่าเลี้ยงไก่ _____ ตัว

ลุงเลี้ยงเป็ด ===== ตัว

ตอบ _____

ขั้นที่ 2 ลุงเลี้ยงเป็ดและไก่รวมกันทั้งหมดกี่ตัว

ประโยคสัญลักษณ์ _____

ลุงเลี้ยงไก่ ตัว

ลุงเลี้ยงเป็ด _____ ตัว

ลุงเลี้ยงเป็ดและไก่รวมกันทั้งหมด ===== ตัว

ตอบ _____

(4) กี้กมีลูกโป่ง 554 ใบ ไก่มีลูกโป่งน้อยกว่ากี้ก 363 ใบ ทั้งสองคนมีลูกโป่งรวมกันกี่ใบ

ขั้นที่ 1 ไก่มีลูกโป่งกี่ใบ

ประโยคสัญลักษณ์ _____

กี้กมีลูกโป่ง ใบ

ไก่มีลูกโป่งน้อยกว่ากี้ก _____ ใบ

ไก่มีลูกโป่ง _____ ใบ

ตอบ _____

ขั้นที่ 2 ทั้งสองคนมีลูกโป่งรวมกันกี่ใบ

ประโยคสัญลักษณ์ _____

กี้กมีลูกโป่ง ใบ

ไก่มีลูกโป่ง _____ ใบ

ทั้งสองคนมีลูกโป่งรวมกัน _____ ใบ

ตอบ _____



(5) น้อมมีมะละกอ 267 ผล หลังจากซื้อเพิ่มอีก 118 ผล น้อมมีมะละกอมากกว่านิค 197 ผล นิคมีมะละกอกี่ผล

ขั้นที่ 1 น้อมมีมะละกอทั้งหมดกี่ผล

ประโยคสัญลักษณ์ _____

น้อมมีมะละกอ		ผล
ซื้อเพิ่มอีก	_____	ผล
น้อมมีมะละกอทั้งหมด	=====	ผล

ตอบ _____

ขั้นที่ 2 นิคมีมะละกอกี่ผล

ประโยคสัญลักษณ์ _____

น้อมมีมะละกอทั้งหมด		ผล
น้อมมีมะละกอมากกว่านิค	_____	ผล
นิคมีมะละกอกี่ผล	=====	ผล

ตอบ _____

(6) ฟ้ามืดกุดตา 336 ตัว หลังจากซื้อเพิ่มอีก 241 ตัว ฟ้ามืดกุดตามากกว่าฝน 192 ตัว ฝนมีตุ๊กตาก็ตัว

ขั้นที่ 1 ฟ้ามืดกุดตาทั้งหมดก็ตัว

ประโยคสัญลักษณ์ _____

ฟ้ามืดกุดตา	_____	ตัว
ซื้อเพิ่มอีก	_____	ตัว
ฟ้ามืดกุดตาทั้งหมด	=====	ตัว

ตอบ _____

ขั้นที่ 2 ฝนมีตุ๊กตาก็ตัว

ประโยคสัญลักษณ์ _____

ฟ้ามืดกุดตาทั้งหมด	_____	ตัว
ฟ้ามืดกุดตามากกว่าฝน	_____	ตัว
ฝนมีตุ๊กตา	=====	ตัว

ตอบ _____



(7) ทิพย์มีพิซซ่า 437 ถาด หลังจากที่เพื่อนให้มา 219 ถาด ทิพย์มีพิซซ่า
น้อยกว่าทราย 167 ถาด ทรายมีพิซซ่ากี่ถาด

ขั้นที่ 1 ทิพย์มีพิซซ่าทั้งหมดกี่ถาด

ประโยคสัญลักษณ์ _____

ตอบ _____

ขั้นที่ 2 ทรายมีพิซซ่ากี่ถาด

ประโยคสัญลักษณ์ _____

ตอบ _____

(8) มุกก็มึริบปิ้น 697 เส้น หลังจากที่แบ่งขายไป 254 เส้น มุกก็มึริบปิ้นมากกว่า แพตตี้ 268 เส้น แพตตี้มึริบปิ้นกี่เส้น

ขั้นที่ 1 มุกก็เหลือริบปิ้นกี่เส้น

ประโยคสัญลักษณ์ _____

ตอบ _____

ขั้นที่ 2 แพตตี้มึริบปิ้นกี่เส้น

ประโยคสัญลักษณ์ _____

ตอบ _____



(9) ครีมนี้อ้วน 968 ถู หลังจากที่ใช้ไป 308 ถู อ้วนของครีม
มีมากกว่าอ้วนของตุล 297 ถู ตูลมีอ้วนกี่ถู

ขั้นที่ 1 ครีมเหลืออ้วนกี่ถู

ประโยคสัญลักษณ์ _____

ตอบ _____

ขั้นที่ 2 ตูลมีอ้วนกี่ถู

ประโยคสัญลักษณ์ _____

ตอบ _____

(10) ต๋ยมีลูกบอล 816 ลูก หลังจากที่ยายไป 368 ลูก ลูกบอลของต๋ย มีน้อยกว่าลูกบอลของคิม 217 ลูก คิมมีลูกบอลกี่ลูก

ขั้นที่ 1 ต๋ยเหลือลูกบอลกี่ลูก

ประโยคสัญลักษณ์ _____

ตอบ _____

ขั้นที่ 2 คิมมีลูกบอลกี่ลูก

ประโยคสัญลักษณ์ _____

ตอบ _____