

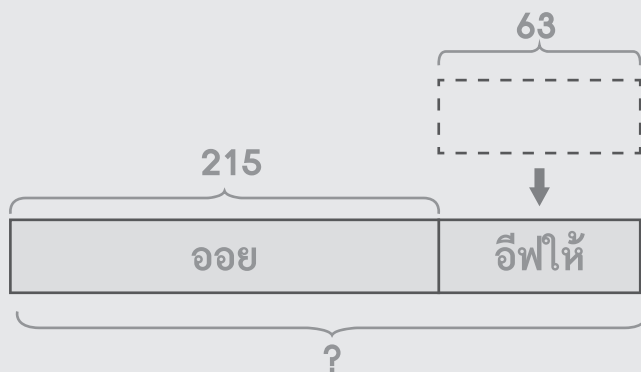


5.2 โจทย์ปัญหาเพิ่ม หรือ ลด

วาดรูป เขียนประโยคสัญลักษณ์ และหาคำตอบให้ถูกต้อง

ตัวอย่าง

ออยมีคินสอ 215 แท่ง อีพีให้อีก 63 แท่ง ออยมีคินสอทั้งหมดกี่แท่ง



กระดาษทด		
2	1	5
		+
	6	3
<hr/>		
2	7	8
<hr/>		

ประโยคสัญลักษณ์ $215 + 63 = \square$

ตอบ 278 แท่ง

(1) กิ๊พมีสีเทียน 324 กล่อง ครูให้อีก 35 กล่อง กิ๊พมีสีเทียนทั้งหมดกี่กล่อง

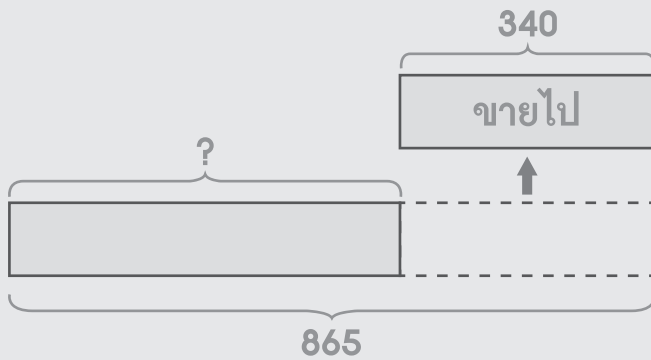
กระดาษทด		
<hr/>		
<hr/>		

ประโยคสัญลักษณ์ _____

ตอบ _____

ตัวอย่าง

แวมมีแป้งมัน 865 ถุง ขายไป 340 ถุง แวมเหลือแป้งมันกี่ถุง



กระดาษทด		
8	6	5
		-
3	4	0
<hr/>		
5	2	5
<hr/> <hr/>		

ประโยคสัญลักษณ์ _____ $865 - 340 = \square$

ตอบ _____ 525 ถุง _____

(2) ก้อยมีดอกกุหลาบ 655 ดอก ขายไป 423 ดอก ก้อยเหลือดอกกุหลาบกี่ดอก

กระดาษทด		

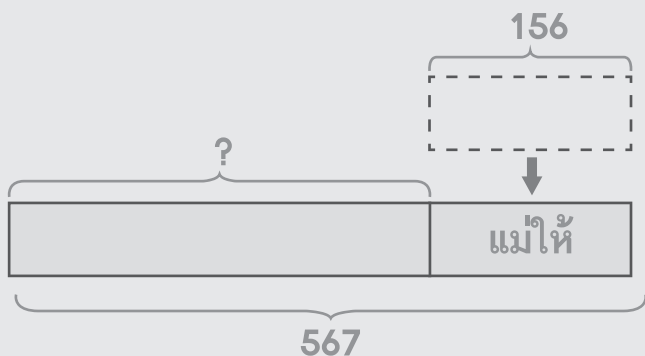
ประโยคสัญลักษณ์ _____

ตอบ _____



ตัวอย่าง

รินคามีขนมจำนวนหนึ่ง แม่ให้เพิ่มอีก 156 ชิ้น รวมทั้งหมดมี 567 ชิ้น
เคมรินคามีขนมกี่ชิ้น



กระดาษทด		
5	6	7
		-
1	5	6
<hr/>		
4	1	1
<hr/> <hr/>		

ประโยคสัญลักษณ์ 567 - 156 = □

ตอบ 411 ชิ้น

(3) แก้วใสมีหนังสือจำนวนหนึ่ง ซื้อเพิ่มอีก 463 เล่ม รวมทั้งหมด 786 เล่ม
เคมแก้วใสมีหนังสือกี่เล่ม

กระดาษทด		

ประโยคสัญลักษณ์ _____

ตอบ _____

- (4) พรินมีไฟฉายจำนวนหนึ่ง เพื่อนให้อีก 356 กระบอก รวมทั้งหมดมี 688
 กระบอก เคิมพรินมีไฟฉายกี่กระบอก

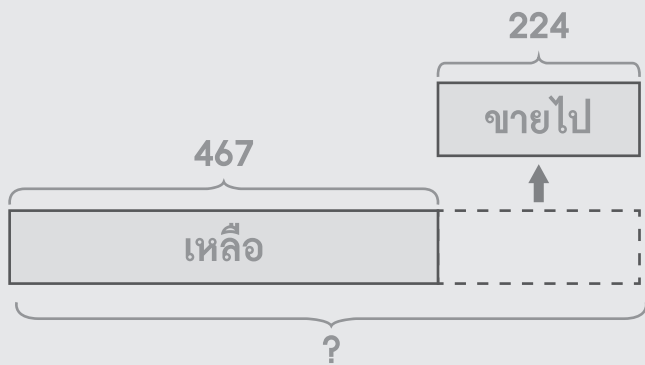
กระดาษทด

ประโยคสัญลักษณ์ _____

ตอบ _____

ตัวอย่าง

ออมมีรองเท้าจำนวนหนึ่ง ขายไป 224 คู่ เหลือ 467 คู่ เคิมออมมีรองเท้ากี่คู่



กระดาษทด

4	6	7	
			+
2	2	4	
6	9	1	

ประโยคสัญลักษณ์ $467 + 224 = \square$ _____

ตอบ 691 คู่



(5) แม่มีหมวกจำนวนหนึ่ง ให้น้องไป 367 ใบ เหลือ 458 ใบ เดิมแม่มีหมวกกี่ใบ

กระดาษทด

ประโยคสัญลักษณ์ _____

ตอบ _____

(6) มุกมีร่มจำนวนหนึ่ง ให้เพื่อนไป 112 คัน เหลือ 354 คัน เดิมมุกมีร่มกี่คัน

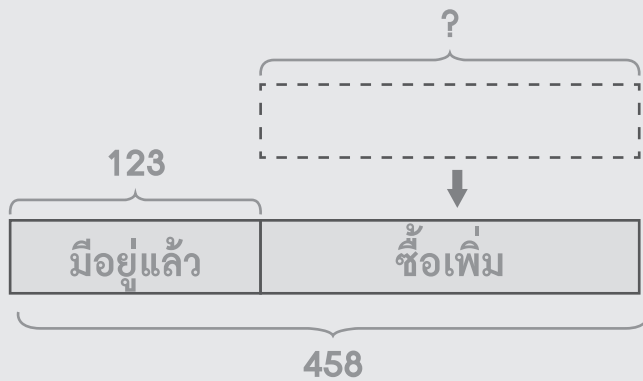
กระดาษทด

ประโยคสัญลักษณ์ _____

ตอบ _____

ตัวอย่าง

มินต้องการสบู่ 458 ก้อน มีอยู่แล้ว 123 ก้อน มินต้องซื้อสบู่เพิ่มอีกกี่ก้อน



กระดาษทด		
4	5	8
1	2	3
<hr/>		
3	3	5
<hr/> <hr/>		

ประโยคสัญลักษณ์ $458 - 123 = \square$

ตอบ 335 ก้อน

(7) นิมต้องการแปรงสีฟัน 683 ค้าม มีอยู่แล้ว 452 ค้าม นิมต้องซื้อเพิ่มอีกกี่ค้าม

กระดาษทด		

ประโยคสัญลักษณ์ _____

ตอบ _____



(8) จิมต้องการตุ๊กตา 798 ตัว มีอยู่แล้ว 364 ตัว จิมต้องหาตุ๊กตาเพิ่มอีกกี่ตัว

กระดาษทด

ประโยคสัญลักษณ์ _____

ตอบ _____

(9) ถ้ามีต้นไม้ 374 ต้น ลุงให้ต้นไม้เพิ่มอีกจำนวนหนึ่ง รวมทั้งหมดมี 787 ต้น
ลุงให้ต้นไม้เพิ่มกี่ต้น

กระดาษทด

ประโยคสัญลักษณ์ _____

ตอบ _____

(10) ภาพมีทุเรียน 525 ผล ซื้อมีเพิ่มอีกจำนวนหนึ่ง รวมทั้งหมดมี 856 ผล
ภาพซื้อมีเพิ่มกี่ผล

กระดาษทด

ประโยคสัญลักษณ์ _____

ตอบ _____

เขียนประโยคสัญลักษณ์ แสดงวิธีทำ และหาคำตอบให้ถูกต้อง

ตัวอย่าง

โอมมีปิ่นฉัตรน้ำ 147 กระบอ ก แนนให้เพิ่มอีก 384 กระบอ ก
โอมมีปิ่นฉัตรน้ำทั้งหมดกี่กระบอ ก

ประโยคสัญลักษณ์ _____ $147 + 384 = \square$ _____

โอมมีปิ่นฉัตรน้ำ	1 4 7	กระบอ ก
		+
แนนให้เพิ่มอีก	<u>5 8 4</u>	กระบอ ก
โอมมีปิ่นฉัตรน้ำทั้งหมด	<u><u>7 3 1</u></u>	กระบอ ก

ตอบ 731 กระบอ ก



(1) ฟางมีกำไล 348 วง ยายให้อีก 186 วง ฟางมีกำไลทั้งหมดกี่วง

ประโยคสัญลักษณ์ _____

ฟางมีกำไล _____ วง

ยายให้อีก _____ วง

ฟางมีกำไลทั้งหมด _____ วง

ตอบ _____

(2) แพรมีกุญแจ 456 ดอก ซื่อเพิ่มอีก 247 ดอก แพรมีกุญแจทั้งหมดกี่ดอก

ประโยคสัญลักษณ์ _____

แพรมีกุญแจ _____ ดอก

ซื่อเพิ่มอีก _____ ดอก

แพรมีกุญแจทั้งหมด _____ ดอก

ตอบ _____

(3) คิวมีแก้วน้ำ 641 ใบ ครีมให้อีก 297 ใบ คิวมีแก้วน้ำทั้งหมดกี่ใบ

ประโยคสัญลักษณ์ _____

คิวมีแก้วน้ำ ใบ

ครีมให้อีก ใบ

คิวมีแก้วน้ำทั้งหมด ใบ

ตอบ _____

(4) เปียมีปลา 864 ตัว แบ่งให้เพื่อนบ้าน 297 ตัว เปียเหลือปลากี่ตัว

ประโยคสัญลักษณ์ _____

เปียมีปลา ตัว

แบ่งให้เพื่อนบ้าน ตัว

เปียเหลือปลา ตัว

ตอบ _____



(5) แพรวมี่โคนัท 754 ซึ้น กินไป 369 ซึ้น แพรวเหลือโคนัทก็ซึ้น

ประโยคสัญลักษณ์ _____

แพรวมี่โคนัท _____ ซึ้น

กินไป _____ ซึ้น

แพรวเหลือโคนัท _____ ซึ้น

ตอบ _____

(6) ริวมีกระรอก 643 ตัว คายไป 438 ตัว ริวเหลือกระรอกก็ตัว

ประโยคสัญลักษณ์ _____

ตอบ _____

(7) ปีมมีโบว์จำนวนหนึ่ง นำให้เพิ่มอีก 285 เส้น รวมทั้งหมดมี 856 เส้น
เดิมปีมมีโบว์กี่เส้น

ประโยคสัญลักษณ์ _____

ตอบ _____

(8) มีลูกโป่งจำนวนหนึ่ง ปล่อยลอยไป 567 ใบ เหลือ 347 ใบ เดิมมีลูกโป่งกี่ใบ

ประโยคสัญลักษณ์ _____

ตอบ _____



(9) บิวต้องการแจกัน 734 ใบ มีอยู่แล้ว 597 ใบ บิวต้องหาแจกันเพิ่มอีกกี่ใบ

ประโยคสัญลักษณ์ _____

ตอบ _____

(10) ครูมีกรรไกร 359 อัน ซื้อมีเพิ่มอีกจำนวนหนึ่ง รวมทั้งหมดมี 945 อัน
ครูซื้อกรรไกรเพิ่มอีกกี่อัน

ประโยคสัญลักษณ์ _____

ตอบ _____