

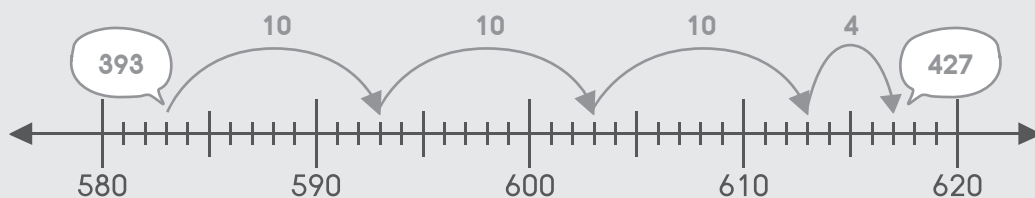


## 3.2 การบวกแบบมีทศเลข

หาคำตอบให้ถูกต้องโดยใช้เส้นจำนวน

ตัวอย่าง

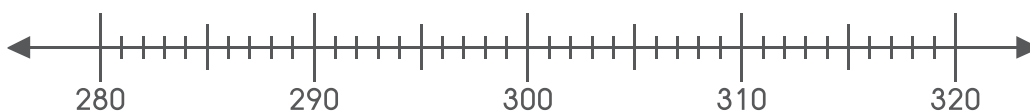
$$393 + 34 = \boxed{427}$$



(1)  $585 + 20 =$



(2)  $284 + 30 =$



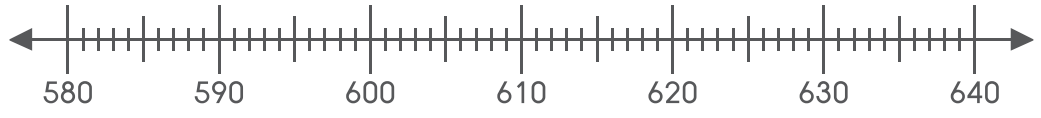
(3)  $434 + 26 =$



(4)  $395 + 35 =$



(5)  $586 + 47 =$





หาคำตอบให้ถูกต้องโดยใช้ Number Bonds

**ตัวอย่าง**

$167 + 60 = 227$

$127 + 100 = 227$

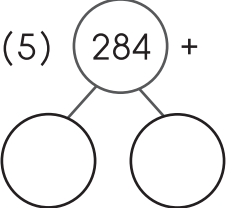
(1)  $292 + 10 = \square$

(2)  $399 + 20 = \square$

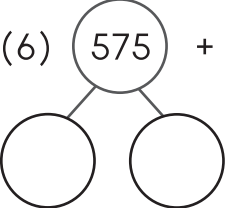
(3)  $494 + 10 = \square$

(4)  $588 + 30 = \square$

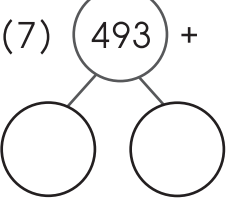
(5)  $284 + 50 =$



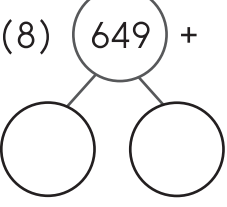
(6)  $575 + 60 =$



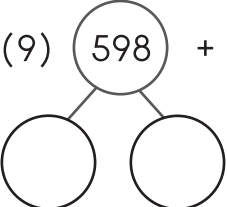
(7)  $493 + 40 =$



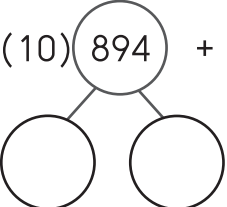
(8)  $649 + 70 =$



(9)  $598 + 80 =$



(10)  $894 + 80 =$





# เติมคำตอบลงในช่องว่างให้ถูกต้อง

## ตัวอย่าง

$$254 + 85 = \boxed{339}$$

ร้อย	สิบ	หน่วย
① 2	5	4
+	8	5
3	3	9

$$(1) 462 + 73 = \boxed{\phantom{000}}$$

ร้อย	สิบ	หน่วย

$$(2) 586 + 42 = \boxed{\phantom{000}}$$

ร้อย	สิบ	หน่วย

$$(3) 348 + 262 = \boxed{\phantom{000}}$$

ร้อย	สิบ	หน่วย

(4)  $674 + 157 =$

ร้อย	สิบ	หน่วย

(5)  $493 + 268 =$

ร้อย	สิบ	หน่วย