

# 3

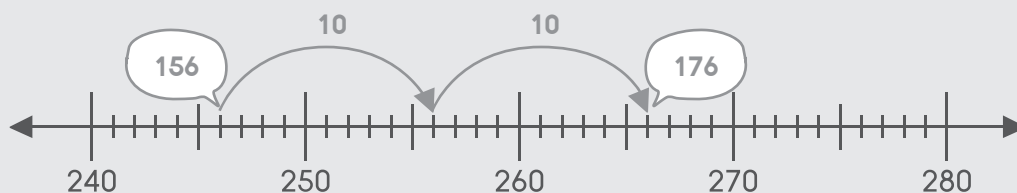
## การบวก (ผลบวกไม่เกิน 1,000)

### 3.1 การบวกแบบไม่มีทดเลข

หาคำตอบให้ถูกต้องโดยใช้เส้นจำนวน

ตัวอย่าง

$$156 + 20 = \boxed{176}$$



(1)  $240 + 20 =$



(2)  $450 + 30 =$



(3)  $214 + 40 =$



(4)  $429 + 50 =$



(5)  $613 + 44 =$





# หาคำตอบให้ถูกต้องโดยใช้ Number Bonds

**ตัวอย่าง**

$145 + 50 = 195$

$105 + 90 = 195$

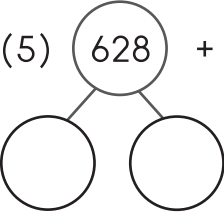
(1)  $201 + 78 =$

(2)  $360 + 30 =$

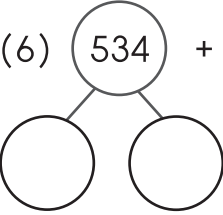
(3)  $415 + 40 =$

(4)  $450 + 27 =$

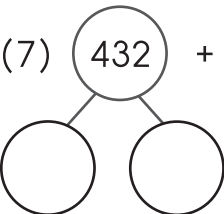
(5)  $628 + 70 =$



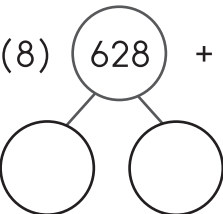
(6)  $534 + 50 =$



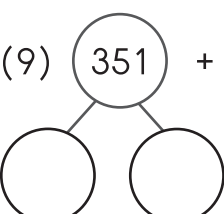
(7)  $432 + 17 =$



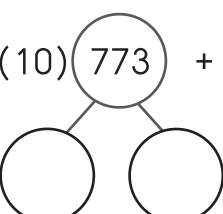
(8)  $628 + 61 =$



(9)  $351 + 43 =$



(10)  $773 + 26 =$





## เติมคำตอบลงในช่องว่างให้ถูกต้อง

### ตัวอย่าง

$$162 + 124 = \boxed{286}$$

ร้อย	สิบ	หน่วย
1	6	2
+	1	2
1	2	4
2	8	6

$$(1) 614 + 65 = \boxed{\phantom{000}}$$

$$(2) 436 + 62 = \boxed{\phantom{000}}$$

ร้อย	สิบ	หน่วย

ร้อย	สิบ	หน่วย

(3)  $326 + 211 =$

ร้อย	สิบ	หน่วย

(4)  $354 + 243 =$

ร้อย	สิบ	หน่วย

(5)  $548 + 251 =$

ร้อย	สิบ	หน่วย