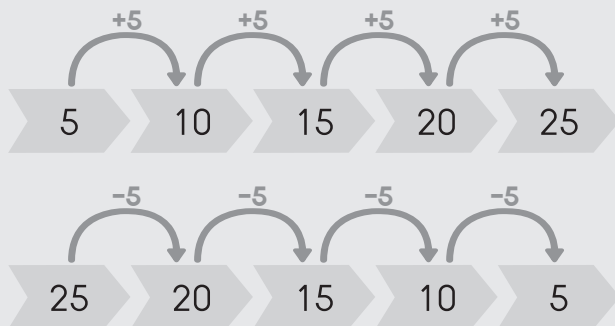




## 2.2 แบบรูปและความสัมพันธ์ของจำนวน

บอกความสัมพันธ์ของจำนวนจากแบบรูปที่กำหนดให้ถูกต้อง

ตัวอย่าง



เพิ่มขึ้นทีละ 5

ลดลงทีละ 5

(1) 2 → 4 → 6 → 8 → 10

(2) 3 → 6 → 9 → 12 → 15

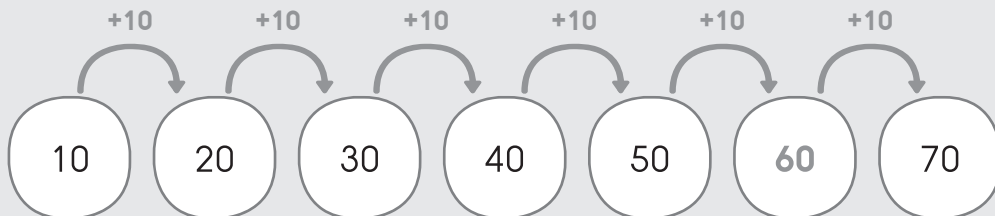
(3) 50 → 40 → 30 → 20 → 10

(4) 34 → 44 → 54 → 64 → 74

(5) 36 → 30 → 24 → 18 → 12

พิจารณาแบบรูปที่กำหนดให้ แล้วเติมคำตอบลงในช่องว่างให้ถูกต้อง

ตัวอย่าง



(1) ( 28 ) ( 30 ) ( 32 ) ( 34 ) (   ) ( 38 )

(2) ( 15 ) ( 25 ) ( 35 ) ( 45 ) (   ) ( 65 )

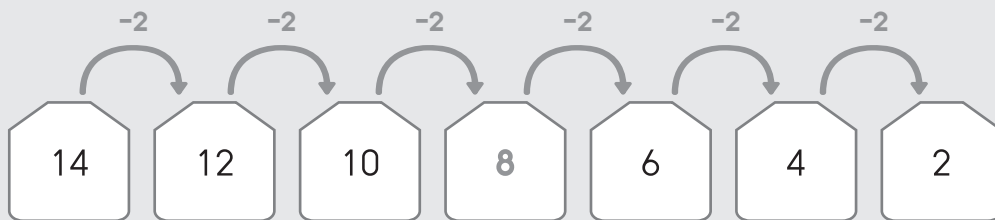
(3) ( 16 ) ( 26 ) ( 36 ) ( 46 ) (   ) ( 66 )

(4) ( 12 ) ( 15 ) ( 18 ) ( 21 ) (   ) ( 27 )

(5) ( 4 ) ( 8 ) ( 12 ) ( 16 ) (   ) ( 24 )



### ตัวอย่าง



(6) 

23	21	19		15	13	11
----	----	----	--	----	----	----

(7) 

60	55	50		40	35	30
----	----	----	--	----	----	----

(8) 

77	66	55		33	22	11
----	----	----	--	----	----	----

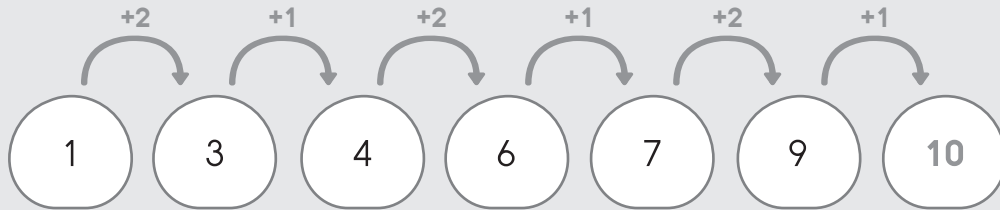
(9) 

90	81	72		54	45	36
----	----	----	--	----	----	----

(10) 

819	719	619		419	319	219
-----	-----	-----	--	-----	-----	-----

### ตัวอย่าง



(11) 2 3 5 6 8 9

(12) 20 22 25 27 30 32

(13) 5 10 20 25 35 40

(14) 99 96 93 90 87 84

(15) 10 12 11 13 12 14